

ЛЕТНИКИ



Задания на лето.

Иду во 2 класс.

Соедини пример с верным ответом стрелкой,
и ты узнаешь, что любит есть животное.



$12-5$




14



5

$16-7$



$14-9$



17



8

$7+7$



$9+3$



7



12

$9+8$



$8+3$



19



9

$14-6$



Соедини пример с верным ответом стрелкой,
и ты узнаешь, что любит есть животное.



$12-5$



$16-7$




$14-9$



$7+7$



$9+3$



$9+8$



$8+3$



$14-6$



Соедини пример с верным ответом стрелкой, и ты узнаешь, что любит есть животное.




$12-5$



14



5



$16-7$



$14-9$



17



8




$7+7$



$9+3$



10



11



$9+8$



$8+3$



19



9



$14-6$

Соедини пример с верным ответом стрелкой, и ты узнаешь, что любит есть животное.



$12-5$



$16-7$



$14-9$



$7+7$




$9+3$



$9+8$



$8+3$



$14-6$



Соедини пример с верным ответом стрелкой,
и ты узнаешь, что любит есть животное.



$12-5$



$16-7$



$14-9$



$7+7$




$9+3$



$9+8$



$8+3$



$14-6$



Соедини пример с верным ответом стрелкой, и ты узнаешь, что любит есть животное.




$12-5$



14



5



$16-7$



$14-9$



17



8



$7+7$



$9+3$



7



12




$9+8$



$8+3$



19



11



$14-6$



9

Соедини пример с верным ответом стрелкой, и ты узнаешь, что любит есть животное.



$12-5$



$16-7$



$14-9$



$7+7$




$9+3$



$9+8$



$8+3$



$9+8$



$14-6$

Соедини пример с верным ответом стрелкой, и ты узнаешь, что любит есть животное.




$12-5$



14



5



$16-7$



$14-9$



17



8



$7+7$



$9+3$



7



12




$9+8$



$8+3$



19



11



$9+8$



9




$14-6$

Соедини пример с верным ответом стрелкой,
и ты узнаешь, что любит есть животное.



$12-5$



$14-9$




$9+3$



$7+7$



$8+3$





$9+8$





$14-6$


бусы,
А в тех кружках , где чисел
нет,
Расставьте минусы и
плюсы,
Чтоб данный получить
ответ.



бусы,
А в тех кружках , где чисел
нет,
Расставьте минусы и
плюсы,
Чтоб данный получить
ответ.



бусы,
А в тех кружках , где чисел
нет,
Расставьте минусы и
плюсы,
Чтоб данный получить
ответ.



бусы,
А в тех кружках , где чисел
нет,
Расставьте минусы и
плюсы,
Чтоб данный получить
ответ.



10

3

6

13

=



бусы,
А в тех кружках , где чисел
нет,
Расставьте минусы и
плюсы,
Чтоб данный получить
ответ.

10



-

3

6

=

13



бусы,
А в тех кружках , где чисел
нет,
Расставьте минусы и
плюсы,
Чтоб данный получить
ответ.

10

-



3

+

6

=

13



бусы,

А в тех кружках , где чисел

нет,

Расставьте минусы и

плюсы,

Чтоб данный получить

ответ.



16

6

2

8

=



бусы,
А в тех кружках , где чисел
нет,
Расставьте минусы и
плюсы,
Чтоб данный получить
ответ.

16



-

6

2

=

8



бусы,
А в тех кружках , где чисел
нет,
Расставьте минусы и
плюсы,
Чтоб данный получить
ответ.

16

-



6

-

2

=

8



бусы,

А в тех кружках , где чисел

нет,

Расставьте минусы и

плюсы,

Чтоб данный получить

ответ.



17

7

6

=

16



бусы,
А в тех кружках , где чисел
нет,
Расставьте минусы и
плюсы,
Чтоб данный получить
ответ.

17



-

7

6

=

16



бусы,

А в тех кружках , где чисел

нет,

Расставьте минусы и

плюсы,

Чтоб данный получить

ответ.

17

-



7

+

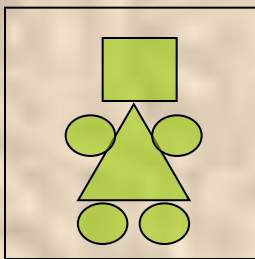
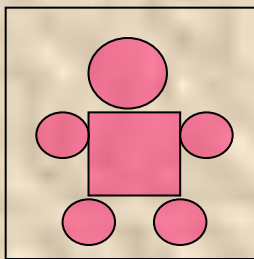
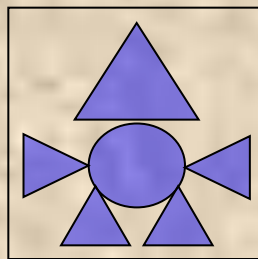
6

=

16



Какого робота ты нарисуешь в пустой клетке?



Молодец!

