

Муниципальное автономное дошкольное образовательное учреждение
детский сад комбинированного вида «Югорка»

«Заколдованная фея»

Подготовила воспитатель: Фирсова В.Н.

г. Покачи

Математикъв





ПОСЧИТАЙ ЦИФРЫ В ПРЯМОМ ПОРЯДКЕ.
ПОСЧИТАЙ В ОБРАТНОМ ПОРЯДКЕ.









ПЕРЕСЧИТАЙ КАРТИНКИ.

КАКИМ ПО СЧЕТУ СТОИТ ВЕРТОЛЕТ? АВТОБУС? ГРУЗОВИК?
НА КАКОМ МЕСТЕ СТОИТ ВЕЛОСИПЕД? ПАРОХОД? ВОЗДУШНЫЙ ШАР?


1 2 3 4 5 6 7 8 9 10




СОСТАВЬ И РЕШИ ЗАДАЧУ



сравни



Выполни равенство









Физкультминутка.

- Раз- подняться, подтянуться
- Два – согнуться, разогнуться
- Три- в ладоши три хлопка
- Головою три кивка
- На четыре – руки шире
- Пять- руками помахать
- Шесть- на корточки присесть.








НАЗОВИ:
дни недели,
части суток,
времена года
месяцы

НАЗОВИ ГЕОМЕТРИЧЕСКИЕ ФИГУРЫ



КАКАЯ ФИГУРА РАСПОЛОЖЕНА В ЦЕНТРЕ?
ГДЕ НАХОДИТСЯ ТРЕУГОЛЬНИК?
В ЛЕВОМ ВЕРХНЕМ УГЛУ НАХОДИТСЯ ...
РОМБ РАСПОЛОЖЕН В ...
КАКАЯ ФИГУРА НАХОДИТСЯ ПОД КРУГОМ?



Задачи-шутки:

- на что похожа половина апельсина?
- если съесть одну сливу, что останется?
- Сколько хвостов у двух котов?
- Сколько орехов в пустом стакане?
- Если козе 6 лет что дальше будет?



Выложи из счетных палочек замок для королевы математики



ЧТО БУДЕТ, ЕСЛИ К ПЯТИ ПРИБАВИТЬ ОДИН?
ЕСЛИ ОТ СЕМИ ОТНЯТЬ ОДИН?
КАК ПОЛУЧИТЬ ЧИСЛО ВОСЕМЬ, ЕСЛИ ЕСТЬ ЧИСЛО ДЕВЯТЬ?



1 2 3 4 5 6 7 8 9 10



СОСТАВЬ И РЕШИ ЗАДАЧУ НА ВЫЧИТАНИЕ
6-2= ...



СОСТАВЬ И РЕШИ ЗАДАЧУ НА ВЫЧИТАНИЕ





$$7-3= \dots$$




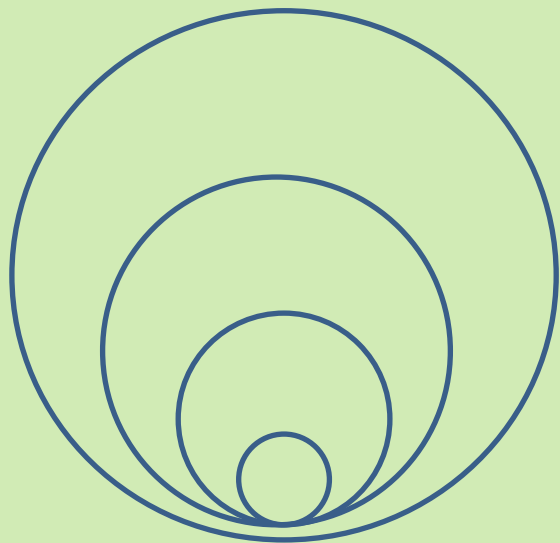
ВЫБЕРИ ЛЮБУЮ ЦИФРУ. НАЗОВИ ДЕНЬ НЕДЕЛИ, КОТОРЫЙ
СООТВЕТСТВУЕТ
ЕСЛИ СЕГОДНЯ СРЕДА, КАКОЙ ДЕНЬ БУДЕТ ЗАВТРА
ЕСЛИ СЕГОДНЯ ЧЕТВЕРГ, ЗНАЧИТ ВЧЕРА БЫЛ...
ЕСЛИ СЕГОДНЯ СУББОТА, А ПОЗАВЧЕРА БЫЛ...



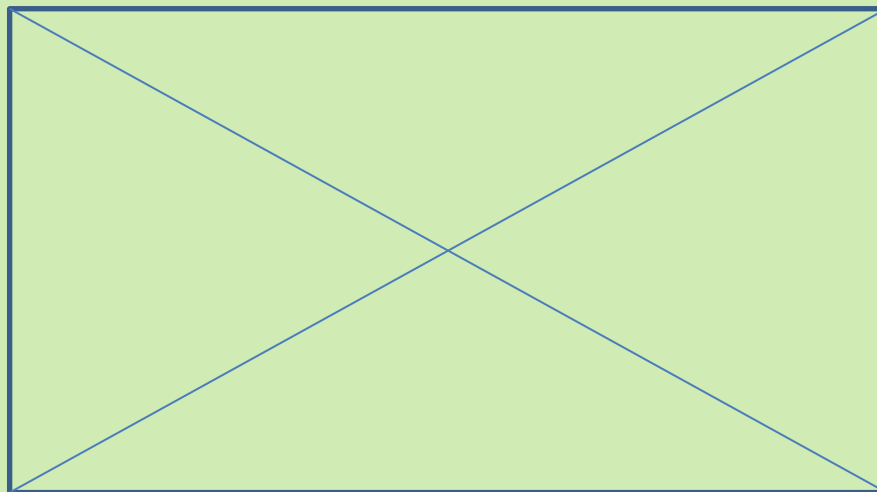
КАКАЯ ФИГУРА РАСПОЛОЖЕНА В ЦЕНТРЕ?
ГДЕ НАХОДИТСЯ ТРЕУГОЛЬНИК?
В ЛЕВОМ ВЕРХНЕМ УГЛУ НАХОДИТСЯ ...
ПЯТИУГОЛЬНИК РАСПОЛОЖЕН В ...
КАКОЙ ПРЯМОУГОЛЬНИК НАХОДИТСЯ ВНИЗУ?



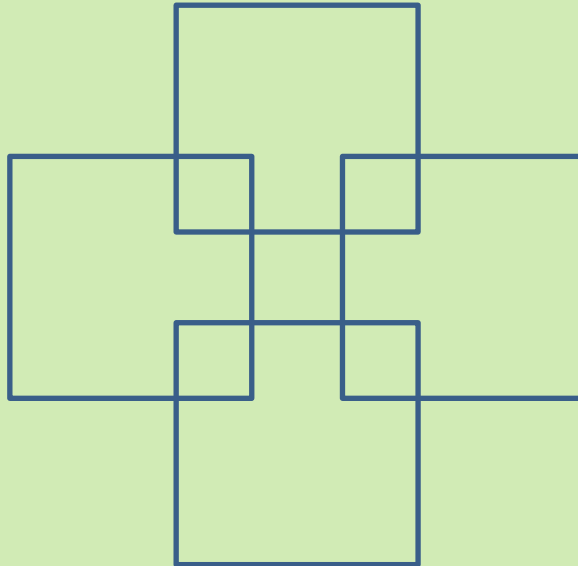
ГДЕ КРУГОВ БОЛЬШЕ? СПРАВА ИЛИ СЛЕВА?











ПОСЧИТАЙ, СКОЛЬКО ЗДЕСЬ ТРЕУГОЛЬНИКОВ?


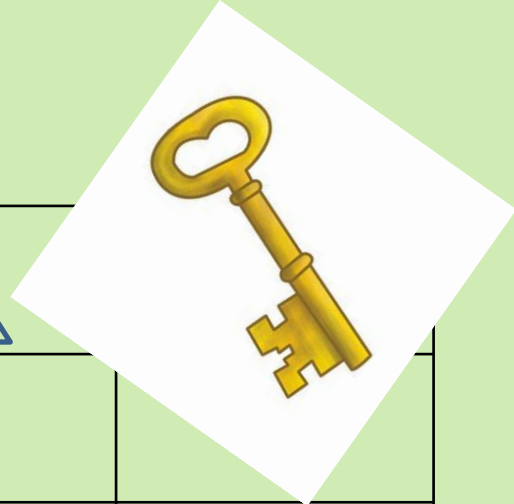


СКОЛЬКО ЗДЕСЬ КВАДРАТОВ?



Заполни таблицу



Математикъв



