



Тема: «Закрепить знания  
таблицы умножения и  
деления чисел 2,3.

# Цели:

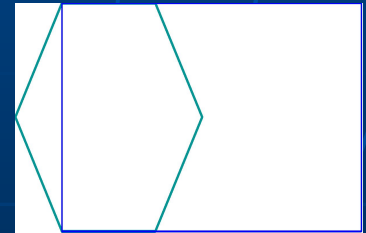

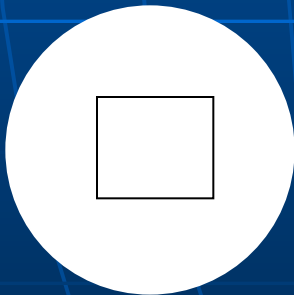
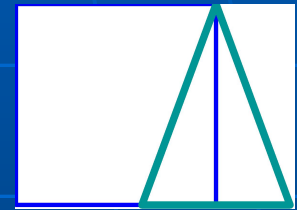

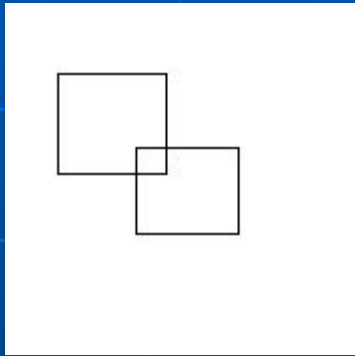
- 1.Закрепить навыки умножения и деления чисел  
2,3.Отрабатывать навык сложения и вычитания чисел в пределах 100, умение решать задачи.
- 2.Продолжить работу по изучению геометрического материала.
- 3.Закрепить знания таблицы умножения и деления.
- 4.Способствовать развитию логического мышления; математической зоркости, смекалки, речи,
- 5.Воспитывать любовь к сказкам, развивать творчество учащихся.

# Отгадай загадку.

Кто это мастер  
На стёкла нанёс  
И листья, и травы,  
И заросли роз.



# Заштрихуйте место пересечения фигур



Назовите числа, которые делятся  
на 2 ?

12 , 1, 14, 18, 10, 3,  
8, 25, 21, 16.

Найдите сегодняшнюю дату?

12, 1, 14, 18. 10,  
3, 8, 25, 21, 16.





21 M

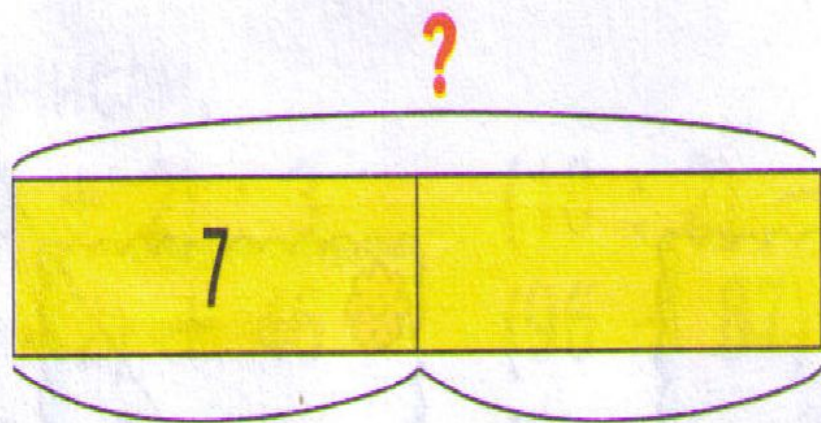


Голубой бубенчик  
На лугу стоит  
И под песню ветра  
Весело звенит.



Что за цветок  
Белые реснички,  
Жёлтый глазок.





Половина

Половина



# Проверь!

$$5 \cdot 2 = 10$$

$$7 \cdot 2 = 14$$

$$12 : 2 = 6$$

$$6 : 2 = 3$$

$$3 \cdot 6 = 18$$

$$18 : 3 = 6$$

$$24 : 3 = 8$$

$$5 \cdot 3 = 15$$

$$8 \cdot 2 = 16$$

$$7 \cdot 3 = 21$$

$$21 : 3 = 7$$

$$14 : 2 = 7$$





# Проверь!

$$(5 \cdot 2) + 46 = 56$$

$$(19 + 2) : 3 = 7$$

$$(15 : 3) \cdot 2 = 10$$

$$(18 : 2) - 9 = 0$$



88, ..., /

..., 47

..., 25, ...

# Домашнее задание. Составь задачу.

- Назови зимние месяцы?
- Сколько дней длится зима?

**Декабрь-31 день.**

**Январь-31 день.**

**Февраль-28 дней.**