



Урок математики

4 класс

2 часть

Автор: Глущенко Л. В.,
учитель начальных классов
МБОУ «СОШ № 1»
ст. Тбилисской
Краснодарского края







Расположи в порядке
возрастания:

***2см 3мм, 3дм 8см, 5дм 3см,
7м 4см, 7041мм***

5001г, 2т 5ц, 3015кг, 3т 1ц, 782ц

Тест «Единицы площади».

1. В какой строке указаны только единицы длины:

- а) м, см, дм, кг, мм б) мм, см, дм, м, км

2. Вырази в квадратных метрах:

- 8км^2 1600дм^2
 150000см^2 38а

3. В каких неравенствах допущена ошибка:

- а) $1000\text{см}^2 > 1\text{м}^2$ в) $7200\text{м} < 72\text{км}$
б) $300000\text{м}^2 > 1\text{км}^2$ г) $50\text{а} < 50\text{га}$

4. Укажи самую мелкую единицу площади:

- а) а б) дм^2 в) га г) мм^2

5. В квадратных километрах измеряют площади:

- а) дачных участков в) школьных столов
б) государств г) классных комнат

ОТВЕТЫ:

1. Б

2. 8.000.000м², 16м²
 15м² 38м²


3. А, Б

4. Г

5. Б







1 испытание.

Выберите величины, которые можно сравнить .

85кг * 82км

1ч 20мин * 120мин

8мес. * 80сут.

2в. 5лет * 250лет

500с * 8мин 20с

43м * 34т

2 испытание.

Найди выражения с одинаковыми
ответами:

$24\text{км} \ 505\text{м} + 32\text{км} \ 495\text{м}$

$2\text{м} \ 10\text{дм} \ 3\text{см} + 2\text{дм} \ 3\text{см} - 2\text{м}$

$16.348\text{м} + 40.652\text{м}$

3 испытание.

Решите задачу 19 на стр. 58.



Домашнее задание:

Повторить единицы длины, площади, массы и времени.

Ответить на вопросы для повторения на стр.59 учебника.