

**Закрепление изученного.
Решение задач.**

2 класс



Логическая разминка

- ❖ Из леса нужно привезти 9 брёвен. На машину можно Положить не больше 4 брёвен. Сколько раз придётся съездить в лес, чтобы привезти все брёвна?
- ❖ Как сделать, чтобы у прямоугольного стола стало 5 углов ?
- ❖ Если курица стоит на одной ноге, она весит 1 кг.
Сколько
она будет весить, когда встанет на две ноги?

$$a + L \quad 2 \times 2 = 4$$

**Миша на 4 года старше Мити.
Сколько лет каждому, если вместе
им 14 лет?**



Задача

Корова Мурка в день съедает 15 кг сена, а телёнок Гаврюша – на 10 кг сена меньше. Сколько всего сена в день съедают корова и телёнок?



Проверка


Корова – 15 кг

Телёнок - ? на 10 кг меньше

} ?

- 1) $15 - 10 = 5(\text{кг})$ – съедает телёнок.
- 2) $15 + 5 = 20(\text{кг})$

Ответ: 20 кг сена в день съедают корова и телёнок.





Восстановите записи .
Одинаковые знаки обозначают одинаковые
числа.

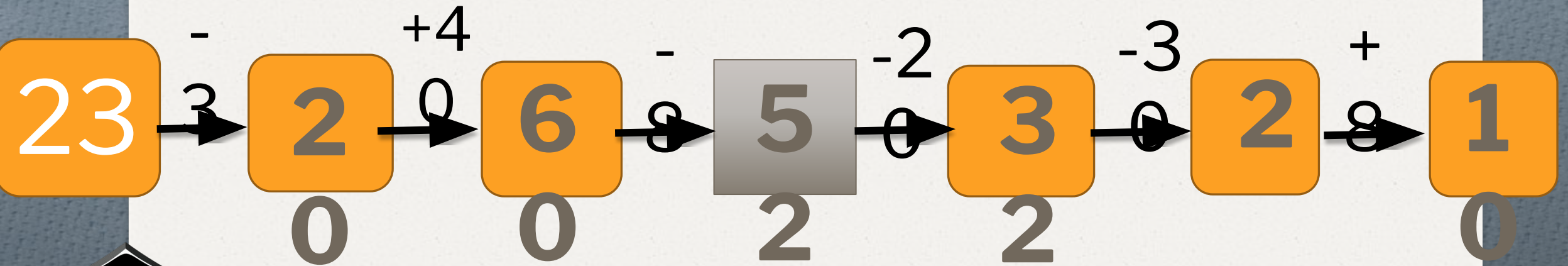
$$39 + 1 = \star$$

$$\star + 5 = \square$$

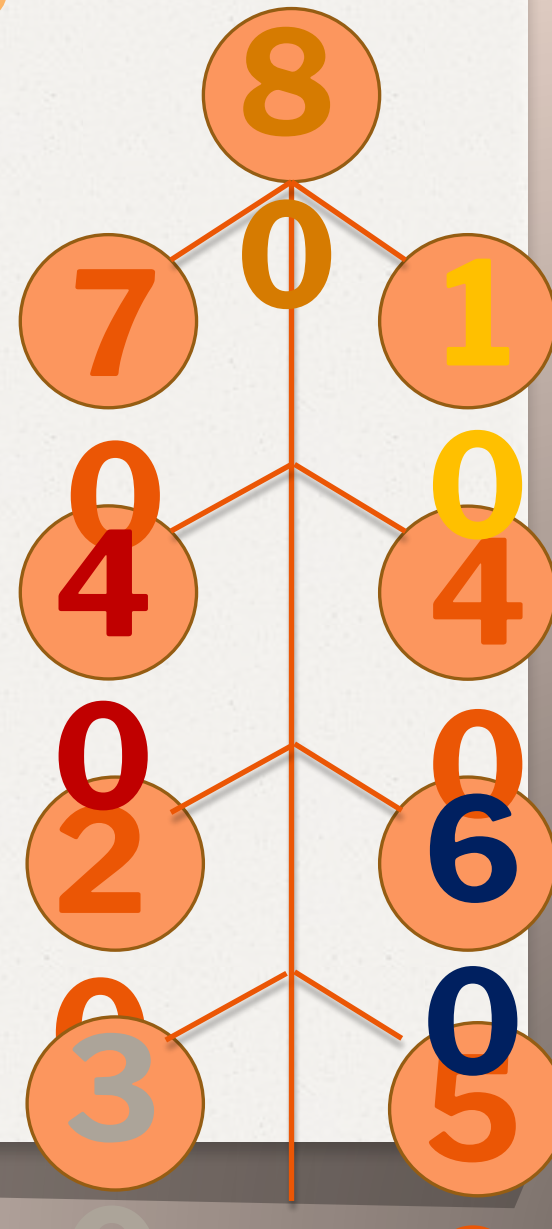
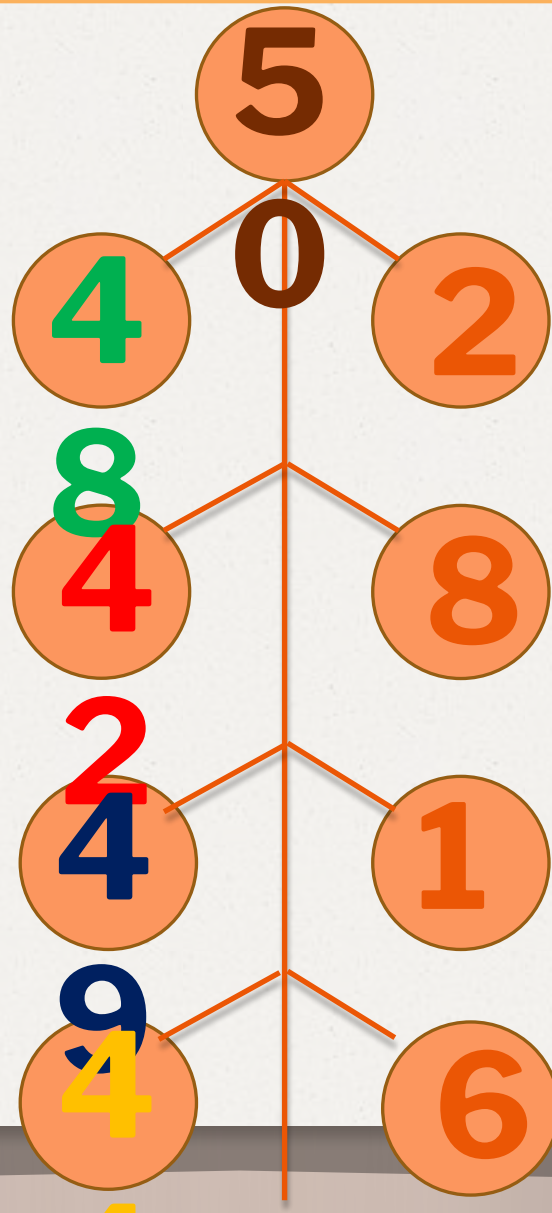
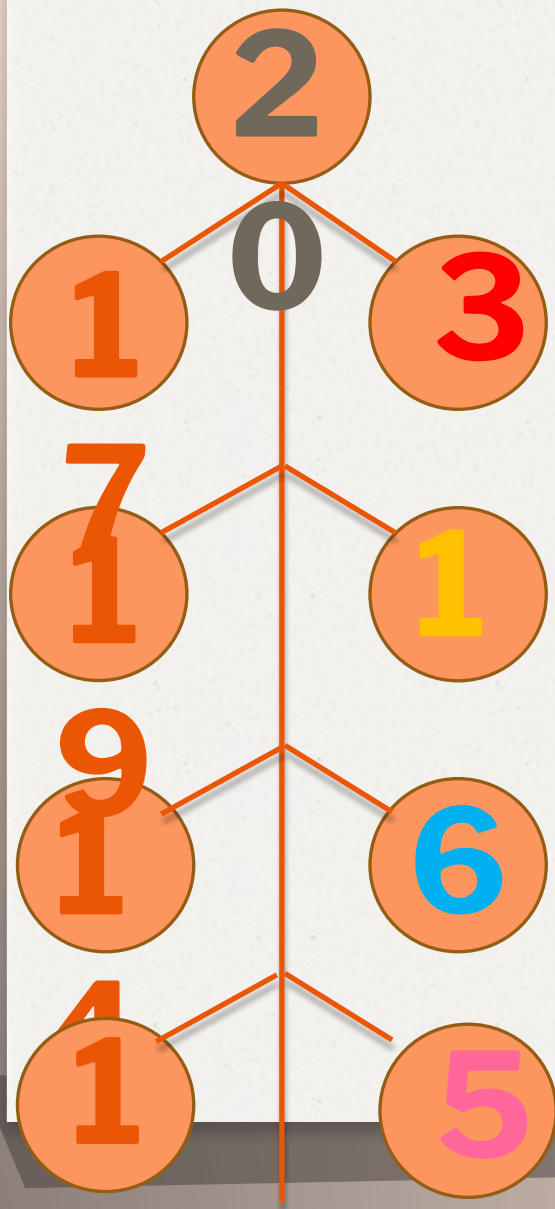
$$\square - 1 = \triangle$$

$$\triangle - 4 = \star$$

Решите цепочку.



Укрась ёлочку



Сравни

91 см



9 дм

9 дм



1 м

1 м



99 см

1 ч



10 мин

$53 - 20 - 3$


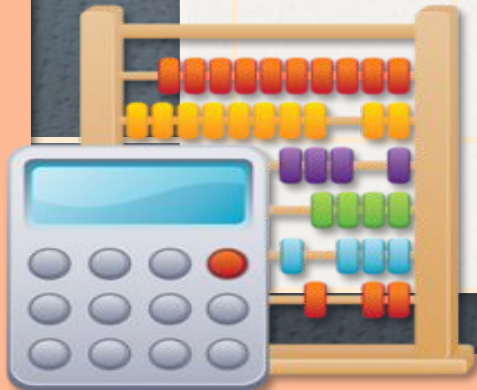


30

$97 - 50 - 7$



35



Самостоятельная работа

1

1.7 вариант - 6

20 40 +

47 + 50 56

60 - 42 54 + 6

~~258~~ 47 * 758 - 30

64 - 20 * 30 +

24

2

1.50 вариант
70 - 7

20 30 +

47 + 65

30 44 + 6

~~2079~~ 486 * 975 - 7

2544 20 * 30 +

24