

# Математика 3 класс

## Закрепление пройденного

**УМК "ГАРМОНИЯ"**



Учитель начальных классов  
МБОУ СОШ №14 г. Балей  
Забайкальский край  
Чередниченко Валентина

Запиши число **102 512** в виде суммы разрядных слагаемых.

Запиши число **964 230** в виде суммы разрядных слагаемых.

Продолжи ряды чисел.

82 395, 82 396, 82 397, ..., ..., ...

500 004, 500 003, 500 002, ..., ..., ...

# Сравни числа..

**82 164 ... 82 048**

**484 703 ... 484 730**

**89 183 ... 80 282**

**235 176 ... 48 209**



# Найди значения выражений.

$$694\ 382 - 374\ 92 \boxed{\phantom{0000}} 55$$

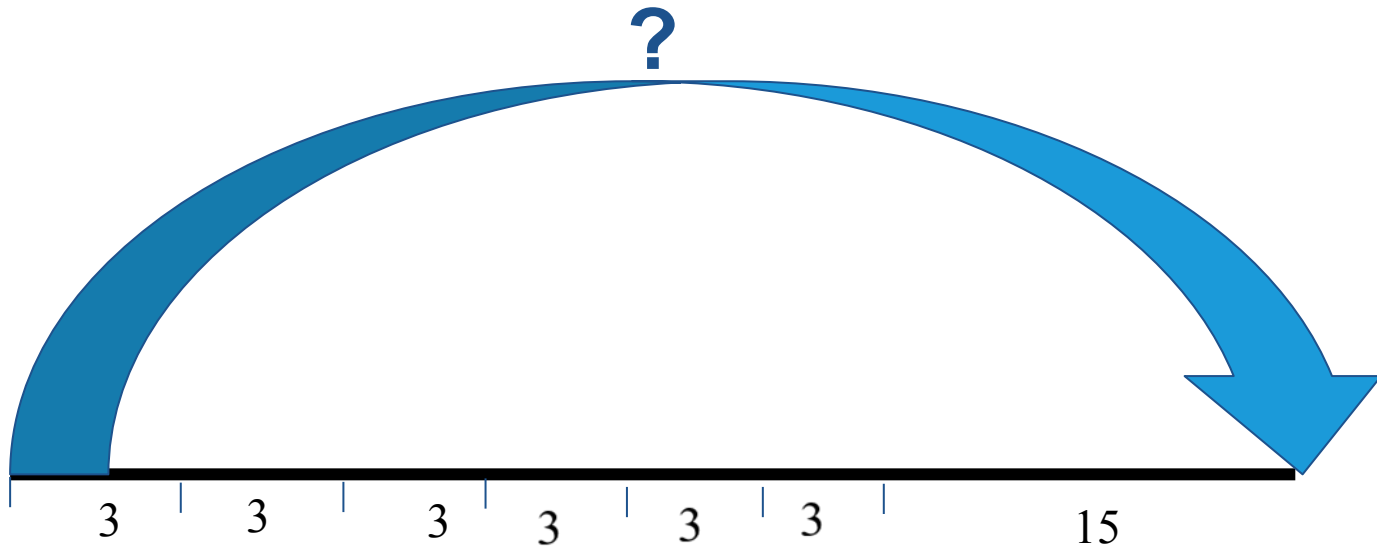
$$442\ 305 + 75\ 116 = \boxed{\phantom{000000}}$$

$$694\ 382 - 374\ 927 = \boxed{\phantom{000000}}$$



# Реши задачу

После того как Женя купил 6 карандашей по 3 р., у него осталось 15 р. Сколько денег было у Жени?



# Проверим

- ◆  $3 \times 6 = 18(\text{руб.}) - ?$
- ◆  $18 + 15 = 33(\text{руб.}) - ?$



# Найди значения выражений.

◆  $5 \cdot 100\ 000 + 6 \cdot 10\ 000 + 2 \cdot 1\ 000 + 5 \cdot 100 + 8 \cdot 2 =$

◆  $4 \cdot 100\ 000 + 3 \cdot 1\ 000 + 6 \cdot 100 - 1 =$

◆  $8 \cdot 100\ 000 + 7 \cdot 10\ 000 + 4 \cdot 9 - 3 =$

# Вставь пропущенные цифры.

$$\begin{array}{r} \_ 253905 \\ \_ \_ \_ \_ \_ 16 \\ \hline \_ 494 \_ \_ \end{array}$$

$$\begin{array}{r} + \_ 7881 \_ \\ \_ 1 \_ \_ \_ \_ 5 \\ \hline 377274 \end{array}$$

$$\begin{array}{r} \_ \_ \_ 7 \_ 20 \\ \_ 8 \_ 6 \_ 5 \\ \hline 48144 \_ \end{array}$$

$$\begin{array}{r} \_ 423 \_ \\ \_ \_ \_ 3 \\ \hline \_ 426 \end{array}$$





# Реши задачу

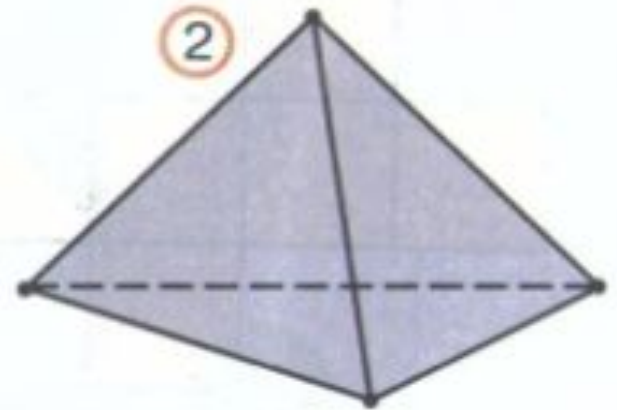
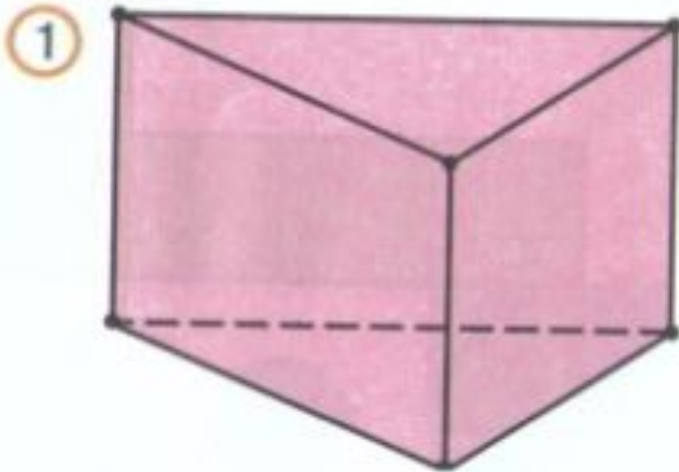
- ◆ . Масса бидона с молоком 27 кг. Если наполнить молоком половину бидона, то масса бидона с молоком будет равна 15 кг. Найди массу пустого бидона.

?

- Решение:
- 1)  $27 - 15 = 12$  (кг) масса половины молока для полного бидона;
- 2)  $15 - 12 = 3$  (кг).
- Ответ: масса бидона 3 кг

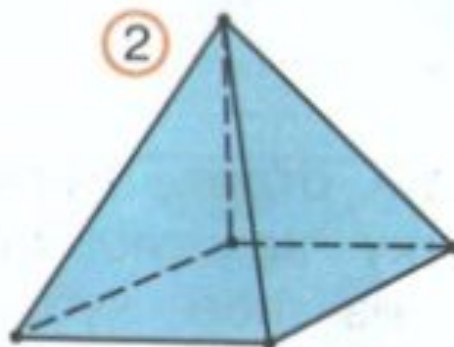
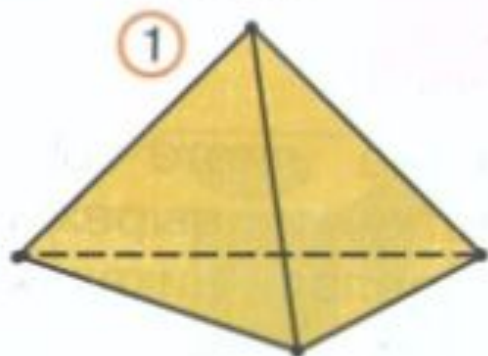


**345.** Чем похожи и чем отличаются геометрические тела?



- Можно ли фигуру ② назвать многогранником?

**346.** Чем похожи и чем отличаются многогранники?



! Каждый из этих многогранников называют **пирамидой**.

- Догадайся! На каком рисунке изображена: 1) четырёхугольная пирамида? 2) треугольная пирамида? 3) пятиугольная пирамида?
- Сколько вершин у каждой из этих пирамид?
- Догадайся! Сколько вершин будет в шестиугольной пирамиде? в восьмиугольной пирамиде?
- Проверь свои ответы на моделях пирамид.



расида

<http://images.yandex.ru/yandsearch?text=%D0%BA%D0%B0%D1%80%D1%82%D0%B8%D0%BD%D0%B0%20%D0%B1%D0%B8%D0%B4%D0%BE%D0%BD>

<http://www.umk-garmoniya.ru/about/>

[http://www.umk-garmoniya.ru/matemat/metod/tem\\_plan\\_mat\\_3.pdf](http://www.umk-garmoniya.ru/matemat/metod/tem_plan_mat_3.pdf)

<http://yandex.ru/yandsearch?text=%D1%83%D0%BC%D0%BA%20%D0%B3%D0%B0%D1%80%D0%BC%D0%BE%D0%BD%D0%B8%D1%8F%203%20%D0%BA%D0%BB%D0%B0%D1%81%D1%81&lr=68>