

Тема урока:  
«Закрепление  
пройденного материала»



# В каком числе отсутствуют единицы

39

49

70

80

22

56

$$17 + 18 + 3 + 2$$

40

$$7 + 45 + 23 + 5$$

80

$$59 + 30 + 1 + 4$$

94

$$8 + 14 + 50 + 6$$


78

# Сколько квадратов на чертеже?

1. **3 квадрата**


2. **6 квадратов**

3. **5 квадратов**




Вова ищет друзей, которые спрятались от него. Вдруг он замечает, что из-под дощатой перегородки виднеются 8 ног. Сколько детей стоит за перегородкой?

ПРОВЕРКА



Стоит в поле дуб. На дубе 3 ветки. На каждой ветке по 3 яблока. Сколько всего яблок?



3

ПРОВЕРКА

ОТВЕТ: НИСКОЛЬКО, ТАК КАК  
НА ДУБЕ ЯБЛОКИ НЕ РАСТУТ!

**Составьте и решите задачу**

**Маленькие звезды – 7**

**Большие звезды - ? на 5 >**

**?**

1)  $7 + 5 = 12$  (з.) - *больших.*

2)  $12 + 7 = 19$  (з.)

$(7 + 5) + 7 = 19$  (з.)

**Ответ: 19 звёзд всего.**



$$2\text{ см } 7\text{ мм} = 27\text{ мм}$$

$$3\text{ дм } 5\text{ см} = 35\text{ см}$$

$$53\text{ см} = 5\text{ дм } 3\text{ см}$$





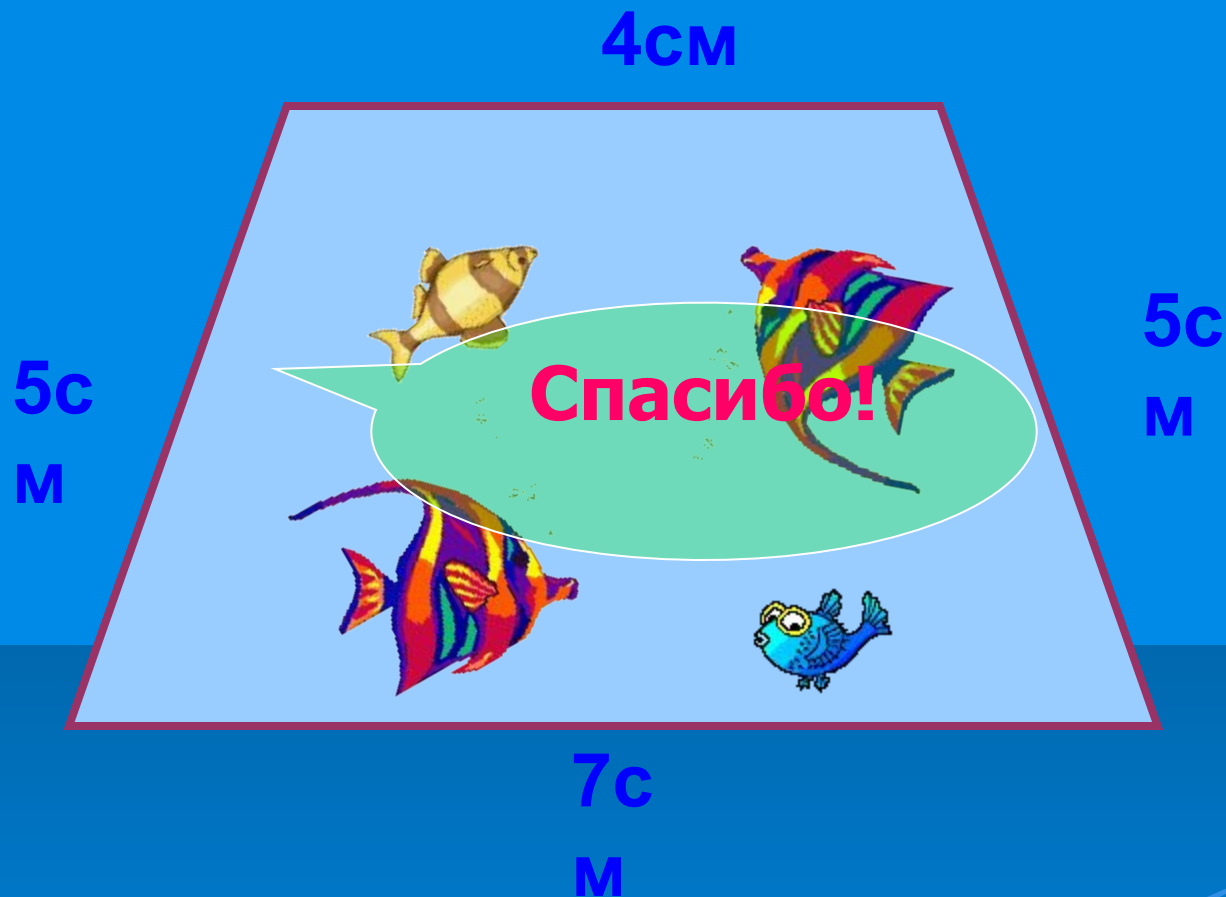
12 мм  2 см

26 дм  1 м

1 ч  60 мин

Молодцы!

Периметр многоугольника – это **сумма длин**  
**всех его сторон**



$$P = 7 + 4 + 5 + 5 = 21 \text{ (см)}$$

МОЛОДЦЫ!

