

# Математика


## 1 класс



Гуз-Карин уз

1 2 3 4 5 6 7 8 9 10 11 12

**Тема:**  
Закрепление  
пройденного  
материала



1 2 3 4 5 6 7 8 9 10 11 12

Мы будем закреплять  
умения решать примеры  
на сложение и вычитания  
в пределах 10, решать  
задачи.



# Заполняйте пустые клетки



$$7+2 \rightarrow \square -3 \rightarrow \square +1 \rightarrow \square +3 \rightarrow \square$$



# Игра «Футбол»



я - ФУТБОЛЬНЫЙ  
БОЛЕЛЬЩИК !

# Расшифруйте ребус



СМО

$$5 - 2 =$$

!

О

$$4 + 1 =$$

С

$$7 - 4 =$$

Ж!

**Запиши вторую часть числа**

$$8 = 5 \text{ и } \square \quad 9 = 3 \text{ и } \square$$

$$10 = 2 \text{ и } \square \quad 7 = 4 \text{ и } \square$$

# Проверим.

$$5 \wedge 3 = 8$$

$$3 \wedge 6 = 9$$

$$2 \wedge 8 = 10$$

$$4 \wedge 3 = 7$$



## **Физминутка**

**Все ребята дружно встали**

**И на месте зашагали.**

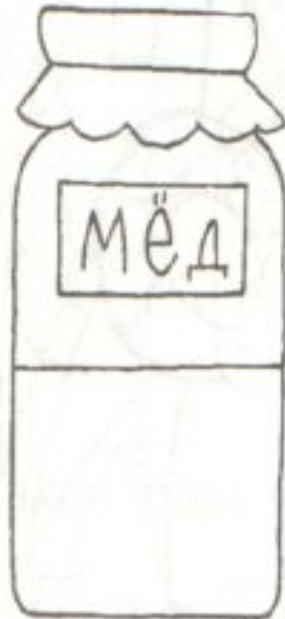
**На носочках потянулись.**

**Вверх и в стороны  
прогнулись.**

**Вот и стали мы сильнее,**


**Здоровей и веселей!**

# Сравните.



В какой банке больше всего мёда?

# Сравните.



Какая морковка самая длинная, а какая самая короткая?

Какая морковка самая толстая, а какая самая тоненькая?

# Решите задачу

Было у Миши 3 щенят. Друзья подарили ему 4 котят. Сколько всего животных у Миши?



## Решите задачу

Были на пруду 7 лягушек.

Уплыли 6 лягушек. Сколько  
осталось лягушек на пруду?




# Решите задачу

Сидели на ветке 6 птиц.

Улетели 5 птиц. Сколько

птиц осталось на ветке?





# Самостоятельная

$4+2$


$1+4$

$3+2$

$5+1$

$2+4$

$3+3$





## **Итог**

- Понравился ли вам сегодняшний урок
- Что больше всего понравилось?
- Что показалось трудным?

## **Итог**

- Понравился ли вам сегодняшний урок
- Что больше всего понравилось?
- Что показалось трудным?

**Спасибо  
за урок!**



1 2 3 4 5 6 7 8 9 10 11 12