

Математика 3 класс


Закрепление пройденного

УМК "ГАРМОНИЯ"



Учитель начальных классов
МБОУ СОШ №14 г. Балей
Забайкальский край
Чередниченко Валентина

❖ **Всем, всем добрый
день!
Прочь с дороги
наша лень!
Не мешай
трудиться,
Не мешай учиться!**



$$9\ 999 + \square = 100\ 000$$

$$6000 + 300 + \square = 6\ 321$$

$$\square + 100 = 300 - 100$$

$$7\ 002 - \square = 7000$$

Запиши число **102 512** в виде суммы разрядных слагаемых.

Запиши число **964 230** в виде суммы разрядных слагаемых.

Продолжи ряды чисел.

82 395, 82 396, 82 397, ..., ..., ...

500 004, 500 003, 500 002, ..., ..., ...

Сравни числа..

82 164 ... 82 048

484 703 ... 484 730

89 183 ... 80 282

235 176 ... 48 209



Найди значения выражений.

$$694\,382 - 374\,927 = \boxed{}55$$

$$442\,305 + 75\,116 = \boxed{}$$

$$694\,382 - 374\,927 = \boxed{}$$

$$28\,706 + 13\,049 = \boxed{}$$

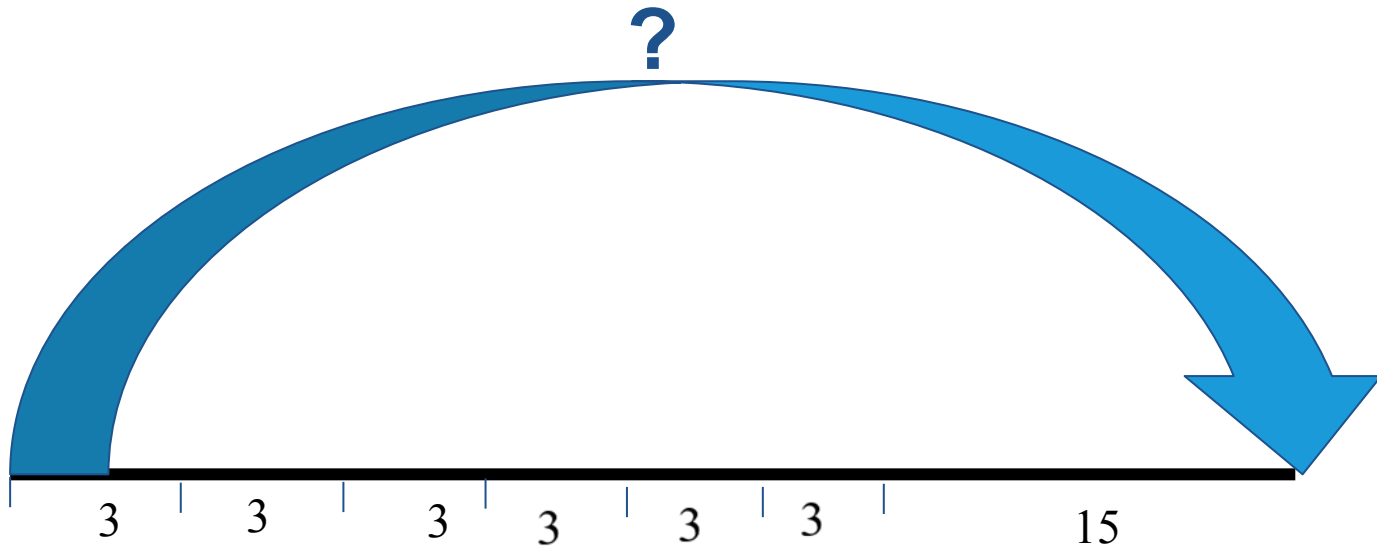
$$950 + 1\,839\,861 = \boxed{}$$

$$619\,001 - 36\,924 = \boxed{}$$



Реши задачу

После того как Женя купил 6 карандашей по 3 р., у него осталось 15 р. Сколько денег было у Жени?



Проверим

- ◆ $3 \times 6 = 18(\text{руб.}) - ?$
- ◆ $18 + 15 = 33(\text{руб.}) - ?$



Найди значения выражений.

◆ $5 \cdot 100\ 000 + 6 \cdot 10\ 000 + 2 \cdot 1\ 000 + 5 \cdot 100 + 8 \cdot 2 =$

◆ $4 \cdot 100\ 000 + 3 \cdot 1\ 000 + 6 \cdot 100 - 1 =$

◆ $8 \cdot 100\ 000 + 7 \cdot 10\ 000 + 4 \cdot 9 - 3 =$

Реши задачу

- ◆ . Масса бидона с молоком 27 кг. Если наполнить молоком половину бидона, то масса бидона с молоком будет равна 15 кг. Найди массу пустого бидона.

?

- Решение:
- 1) $27 - 15 = 12$ (кг) масса половины молока для полного бидона;
- 2) $15 - 12 = 3$ (кг).
- Ответ: масса бидона 3 кг



$$1 \text{ час.}20 \text{ мин.} + 55 \text{ мин.} =$$



$$1 \text{ час.}20 \text{ мин.} =$$



$$12 \text{ ц.} 36 \text{ кг} - 7 \text{ ц} 78 \text{ кг} =$$



$$12 \text{ ц} 36 \text{ кг} = \text{ } \text{ кг}$$



$$7 \text{ ц} 78 \text{ кг} = \text{ } \text{ кг}$$




1 час.27 мин. = мин.

1 час.38 мин. = мин.

135 мин. =

От города до села 25 км. Автомашина выехала из города и проехала по шоссе 18 км 500 м. Затем она свернула на просёлочную дорогу и проехала ещё 1 800 м. Какое расстояние до села ей осталось проехать?



Масса трёх тыкв 33 кг. Масса одной из них равна 12 кг 300 г, масса другой тыквы 9 кг 800 г. Какова масса третьей тыквы?



Уменьшите каждое из чисел:
457 296, 200 000, 180 400, 59 590 на **5342**.

Сумма двух чисел равна 100 000. Одно из слагаемых 90 803. Чему равно другое слагаемое?

. К какому числу надо прибавить 37 428, чтобы получить 86 513?

Какое число следует вычесть из 1907, чтобы разность оказалось равной 374?

Вставь пропущенные цифры.

$$\begin{array}{r} _ 253905 \\ _ _ _ _ _ 16 \\ \hline _ 494 _ _ \end{array}$$

$$\begin{array}{r} + _ 7881 _ \\ _ 1 _ _ _ _ 5 \\ \hline 377274 \end{array}$$

$$\begin{array}{r} _ _ _ 7 _ 20 \\ _ 8 _ 6 _ 5 \\ \hline 48144 _ \end{array}$$

$$\begin{array}{r} _ 423 _ \\ _ _ _ 3 \\ \hline _ 426 \end{array}$$



На складе было 4 т сахарного песка. В один магазин отправили 1250 кг, во второй на 350 кг больше. Сколько сахара отправили в третий магазин, если на складе осталось 500 кг сахара?



расида

<http://images.yandex.ru/yandsearch?text=%D0%BA%D0%B0%D1%80%D1%82%D0%B8%D0%BD%D0%B0%20%D0%B1%D0%B8%D0%B4%D0%BE%D0%BD>

<http://www.umk-garmoniya.ru/about/>

http://www.umk-garmoniya.ru/matemat/metod/tem_plan_mat_3.pdf

<http://yandex.ru/yandsearch?text=%D1%83%D0%BC%D0%BA%20%D0%B3%D0%B0%D1%80%D0%BC%D0%BE%D0%BD%D0%B8%D1%8F%203%20%D0%BA%D0%BB%D0%B0%D1%81%D1%81&lr=68>