


# Закрепление пройденного 3класс

**УМК "ГАРМОНИЯ"**

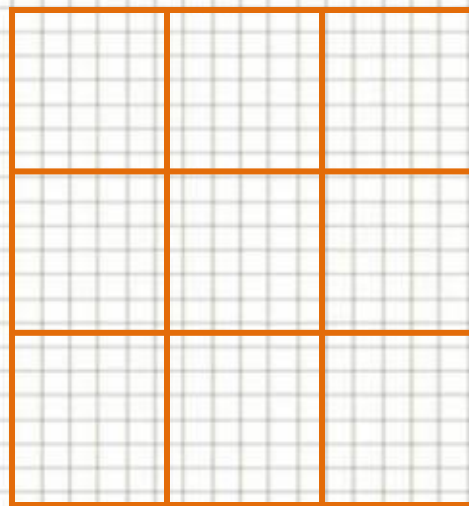


**Учитель начальных  
классов  
МБОУ СОШ №14 г. Бaley  
Забайкальский край  
Чередниченко Валентина  
Ивановна**

# Гимнастика для ума.

- Чему равна десятая часть метра?
- $100 : 10 = 10$  (см)
- Во сколько раз 1 см меньше 1 дм?
- $10 : 1 = 10$  (раз) 
- На сколько 1 км больше 1 м?
- $1000 - 1 = 999$  (м)

- **Расставь числа от 0 до 8 в девяти клетках квадрата, чтобы суммы чисел по всем горизонталям, вертикалям и диагоналям равнялись между собой.**



- **Почему число 4 должно стоять в центре квадрата?**

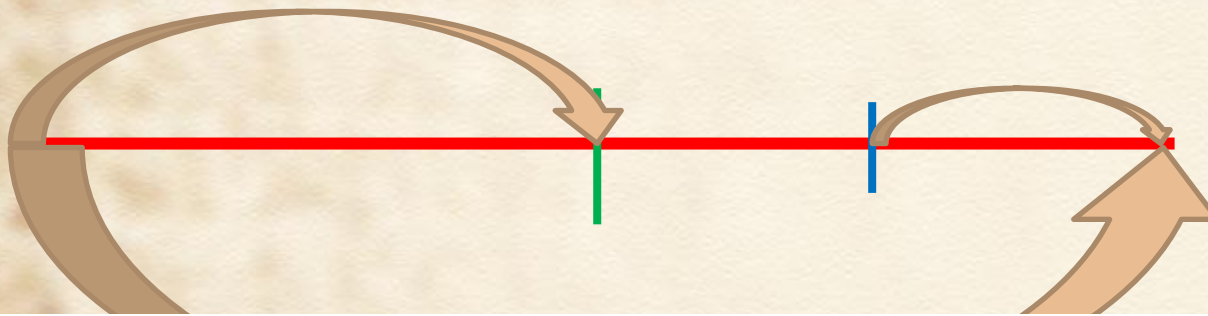
0 1 2 3 4 5 6 7 8

# Логическая задача

- Путник в первый день прошел половину пути, во второй день половину оставшегося пути, а в третий день – остальные 12 км. Найти длину пути путника.



12км



$$12 \times 4 = 48 \text{ (км)}$$

Ответ: 48 км длина пути путника.

# Учиться выбирать схему к условию задачи.

- Велосипедист за три дня проехал 60 км. В первый день проехал в 2 раза больше, чем во второй день, а во второй день в 3 раза меньше, чем в третий. **На какой схеме правильно изображено данное условие?** Какие еще вопросы можно задать?



**К реке подошли 48 туристов. Лодка вмещает 6 человек.**

**Выбери вопросы, на которые можно ответить, выполнив действие 48:6**

**1. Сколько потребуется лодок, чтобы перевезти туристов?**



**2. Хватит ли трёх лодок, чтобы перевезти туристов?**

**3. Сколько рейсов должна сделать одна лодка?**

**4. Сколько времени потребуется, чтобы перевезти туристов?**

**Сравни и поставь знак «>», «<» или «=».**

$$35 - 2 + 8 \dots 35 - (2 + 8)$$

$$24 + 3 - 7 \dots 24 - (3 + 7)$$

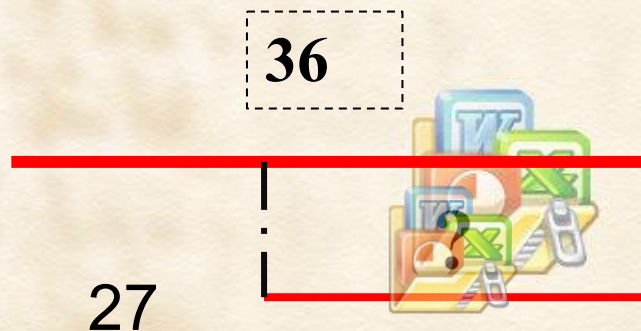
$$90 - 43 \dots 82 - 20$$

$$67 + 20 \dots 50 + 34$$



На озере плавало 36 уток, а гусей на 27 меньше. Во сколько раз уток больше, чем гусей?

- Утки
- Гуси



Во ? раз



# Самостоятельная работа

- Из 18 кг ягод сварили 6 л варения. Сколько кг ягод необходимо, чтобы сварить 22 л варения?



- Начерти квадрат, стороны которого равны 7 см. Чему равен периметр такого квадрата?

