
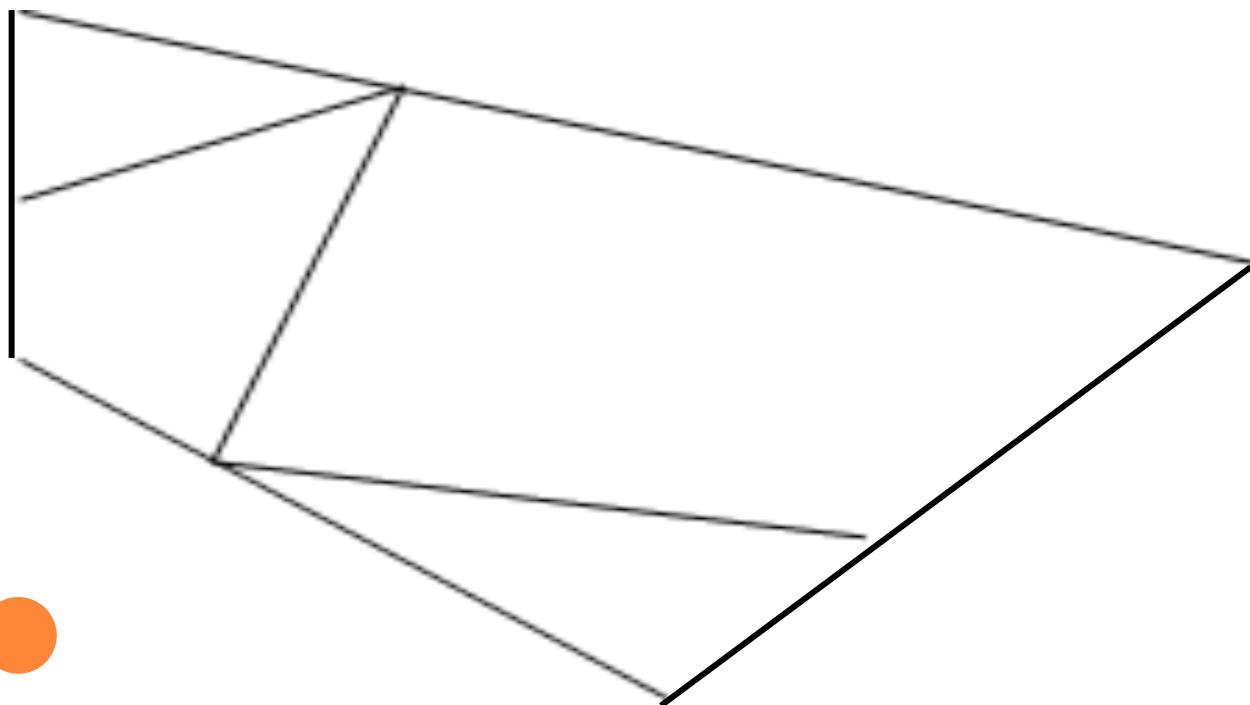




ЗАКРЕПЛЕНИЕ ПРОЙДЕННОГО. УМНОЖЕНИЕ И СООТВЕТСТВУЮЩИЕ СЛУЧАИ ДЕЛЕНИЯ

**Составитель: Иванова Ю.С.
МБОУ СОШ №29
Г. Смоленск**

СКОЛЬКО ЧЕТЫРЁХУГОЛЬНИКОВ ВЫ ВИДИТЕ?



**НАЙТИ ЗНАЧЕНИЕ ВЫРАЖЕНИЙ И КАЖДОМУ ЗНАЧЕНИЮ
БУДЕТ СООТВЕТСТВОВАТЬ БУКВА**

□ $17+82=...$ «а»

□ $63+18=...$ «ч»

□ $90-25=...$ «о»

□ $72+23=...$ «к»

□ $53-18=...$ «т»



РАССТАВИТЬ ЧИСЛА В ПОРЯДКЕ ВОЗРАСТАНИЯ

$\frac{99}{\text{а}}$, $\frac{81}{\text{ч}}$, $\frac{65}{\text{о}}$, $\frac{95}{\text{к}}$, $\frac{35}{\text{т}}$



НАША ГОСТЬЯ

□ Т о ч к а

□ 35 65 81 95 99



ЗАДАНИЕ «ЦЕПОЧКА»

$$24:6 \cdot 4 + 24:8 \cdot 6 + 32 =$$

1 вариант по горизонтали

:6



·4



+24



:8



·6



+32



2 вариант по вертикали



ФИЗМИНУТКА

- Мы считали и устали
- Дружно все мы тихо встали,
- Ручками похлопали, раз, два, три,
- Ножками потопали, раз, два, три.
- Сели, встали, встали, сели,
- И друг друга не задели.
- Мы немножко отдохнем,
- А потом считать начнем.




**ЗАПИШИТЕ ВЫРАЖЕНИЕ НА УМНОЖЕНИЕ С
ТАКИМ ОТВЕТОМ**

□ 24, 30, 18, 27, 16,
36, 40, 56, 12



УСЛОВИЕ ЗАДАЧИ И 4 ВАРИАНТА ВОПРОСОВ

- В корзине было 18 кг яблок, а в ящике на 12 кг меньше, чем в корзине.
- Сколько кг яблок в ящике?
- Во сколько раз в корзине яблок больше, чем в ящике?
- Сколько кг яблок осталось?
- Сколько кг яблок в корзине и ящике вместе?



До свидания!

