

Урок математики .

1класс.

Тема:

Закрепление.

Решение задач.





Скоро праздник!

Декабрь

п	7	14	21	28	
в	1	8	15	22	29
с	2	9	16	23	30
ч	3	10	17	24	31
п	4	11	18	25	
с	5	12	19	26	
в	6	13	20	27	

Великий Устюг. Резиденция Деда Мороза.



ЗАДАЧА



УСЛОВИЕ

ВОПРОС

РЕШЕНИЕ

ОТВЕТ


Составь задачу.



Условие .

М. - 4 шт.

З. - ? шт. на 2 больше



Как дети готовятся к встрече Деда Мороза ?



10 Уч.

? Уч., на 3 меньше


$$10 - 3 = 7(\text{уч.})$$

10уч.

? Уч. на 3 больше

Физминутка





$$6+3$$

$$9-2$$

$$5+2$$

$$6+0$$

$$8-8$$

$$10-2$$

$$8-3$$

Наряди ёлку

Вставь число в окошко,
узнаешь, сколько оленей в упряжке.

1в.

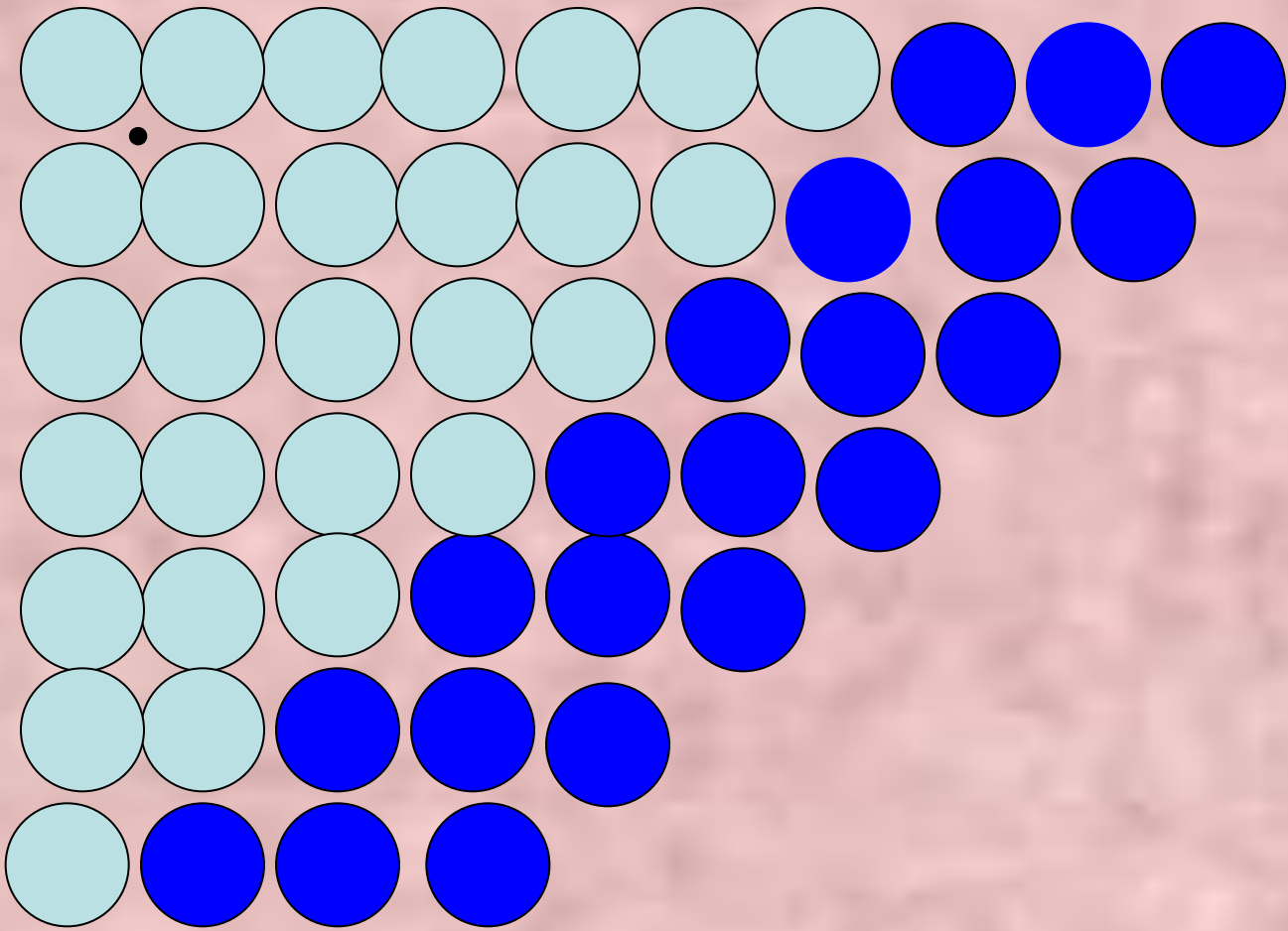
$$\square + 4 = 6$$

2в.

$$2 + \square = 5$$

Расставьте в остальных квадратах такие числа,
чтобы в сумме во всех клетках по всем
направлениям было 9

2	6	1
2	3	4
³ 5	0	4



$7+3$

$6+3$

$5+3$

$4+3$


$3+3$

$2+3$

$1+3$

Слушай внимательно, считай

Расставил Андрюшка
В два ряда игрушки.
Рядом с мартышкой –
Плюшевый мишка.
Вместе с лисой – зайка косой.
Следом за ними – ёж и лягушка.
Сколько игрушек
Расставил Андрюшка?



Заселяем домики.

7	
2	5
7	0
4	3
1	6

8	
1	7
4	4
5	3
2	6

9	
6	3
4	5
7	2
8	1

10	
3	7
5	5
2	8
9	1