

# Урок математики .

1класс.

Тема:

Закрепление.

Решение задач.





# Скоро праздник!

## Декабрь

п	7	14	21	28	
в	1	8	15	22	29
с	2	9	16	23	30
ч	3	10	17	24	31
п	4	11	18	25	
с	5	12	19	26	
в	6	13	20	27	



# Великий Устюг. Резиденция Деда Мороза.





# ЗАДАЧА



**УСЛОВИЕ**  
**ВОПРОС**  
**РЕШЕНИЕ**  
**ОТВЕТ**

# Составь задачу.






# Условие .

М. - 4 шт.

З. - ? шт. на 2 больше



# Как дети готовятся к встрече Деда Мороза ?



10 Уч.

? Уч., на 3 меньше


$$10 - 3 = 7(\text{уч.})$$

10уч.

? Уч. на 3 больше







$$6+3$$

$$9-2$$

$$5+2$$

$$6+0$$

$$8-8$$

$$10-2$$

$$8-3$$

Наряди ёлку



Вставь число в окошко,  
узнаешь, сколько оленей в упряжке.

1в.

$$\square + 4 = 6$$

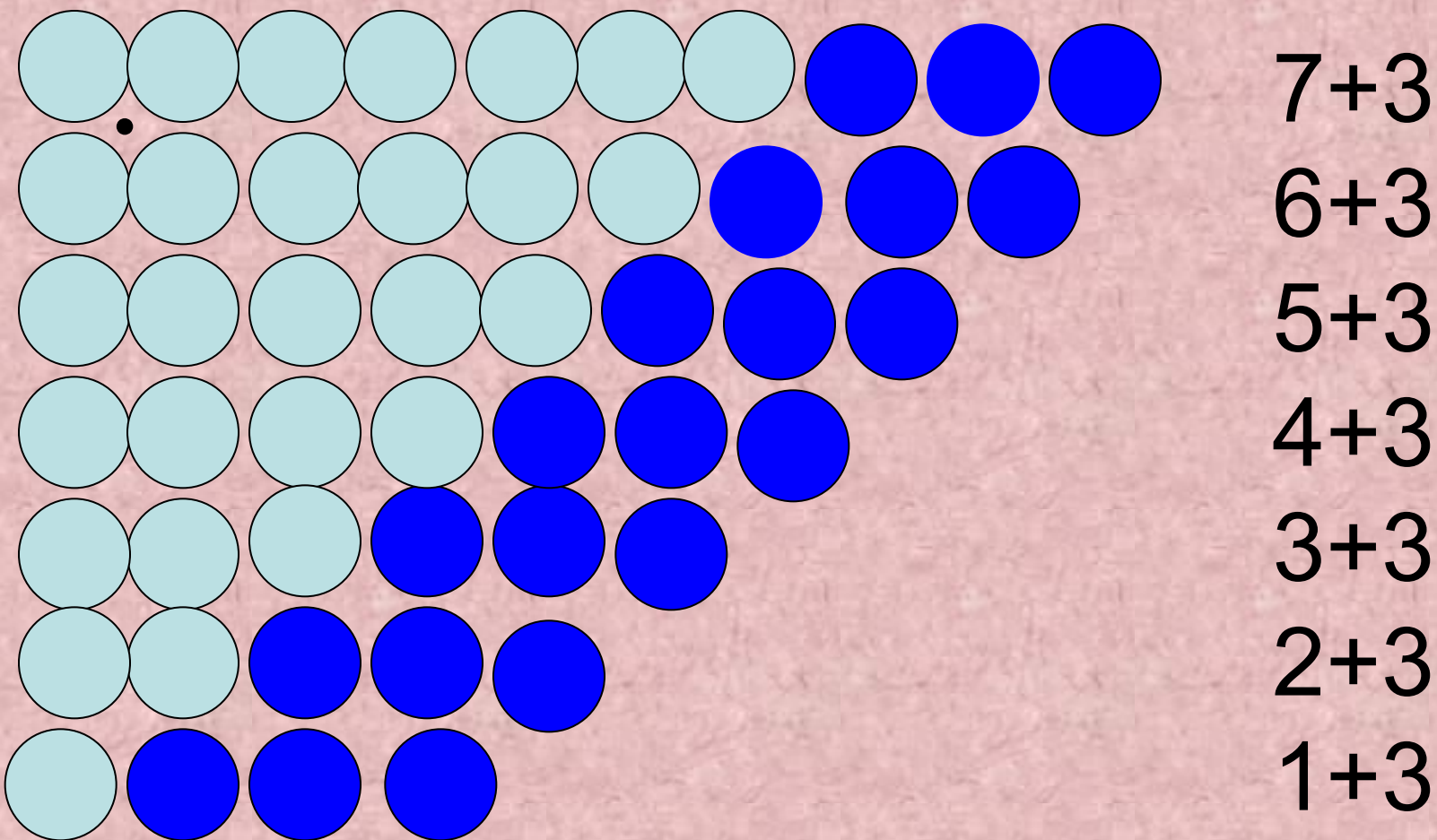
2в.

$$2 + \square = 5$$

Расставьте в остальных квадратах такие числа,  
чтобы в сумме во всех клетках по всем  
направлениям было 9

2	6	1
2	3	4
<sup>3</sup> 5	0	4





# Слушай внимательно, считай

Расставил Андрюшка  
В два ряда игрушки.  
Рядом с мартышкой –  
Плюшевый мишка.  
Вместе с лисой – зайка косой.  
Следом за ними – ёж и лягушка.  
Сколько игрушек  
Расставил Андрюшка?

