







**На ковёр мы сели,
в сказку полетели**



Устный счёт





Восстановите цепочки вычислений.

$$\begin{array}{c} 6 \\ 0 \end{array} \rightarrow +40 \rightarrow \begin{array}{c} \div \\ 2 \end{array} \rightarrow \begin{array}{c} - \\ 3 \\ 0 \end{array} \rightarrow \begin{array}{c} \div \\ 5 \end{array} \cdot 9 \rightarrow 36$$

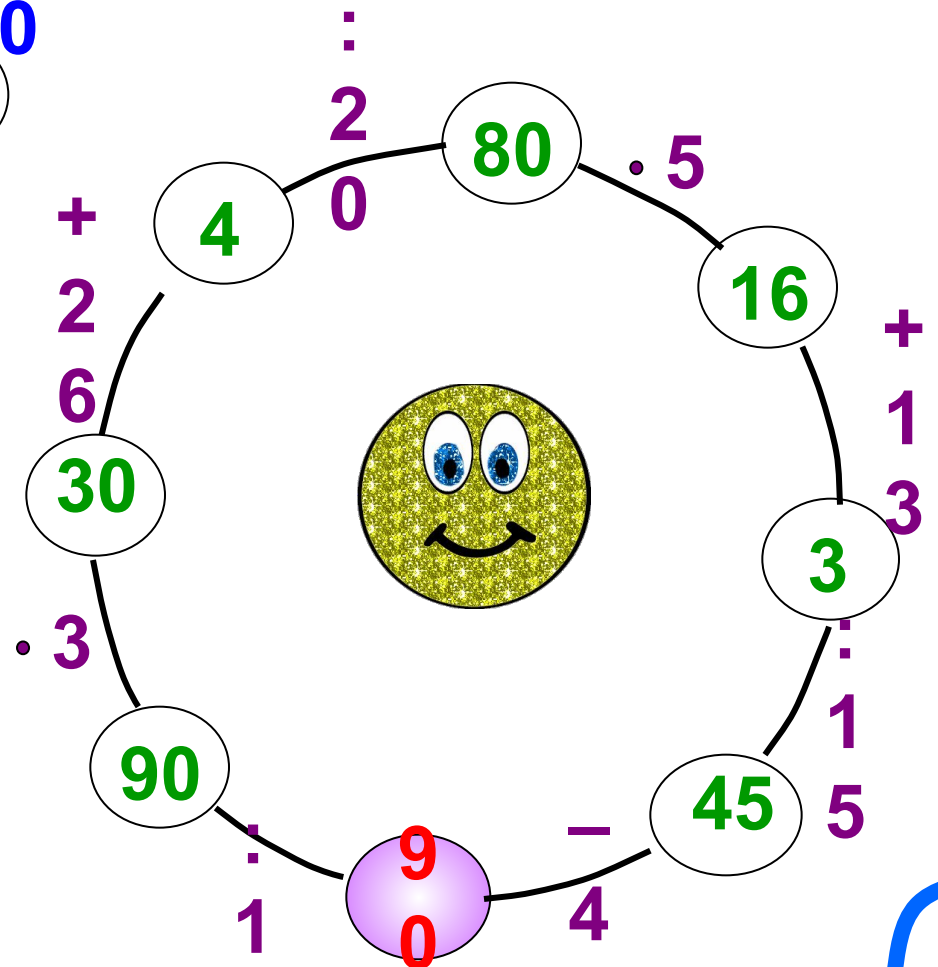
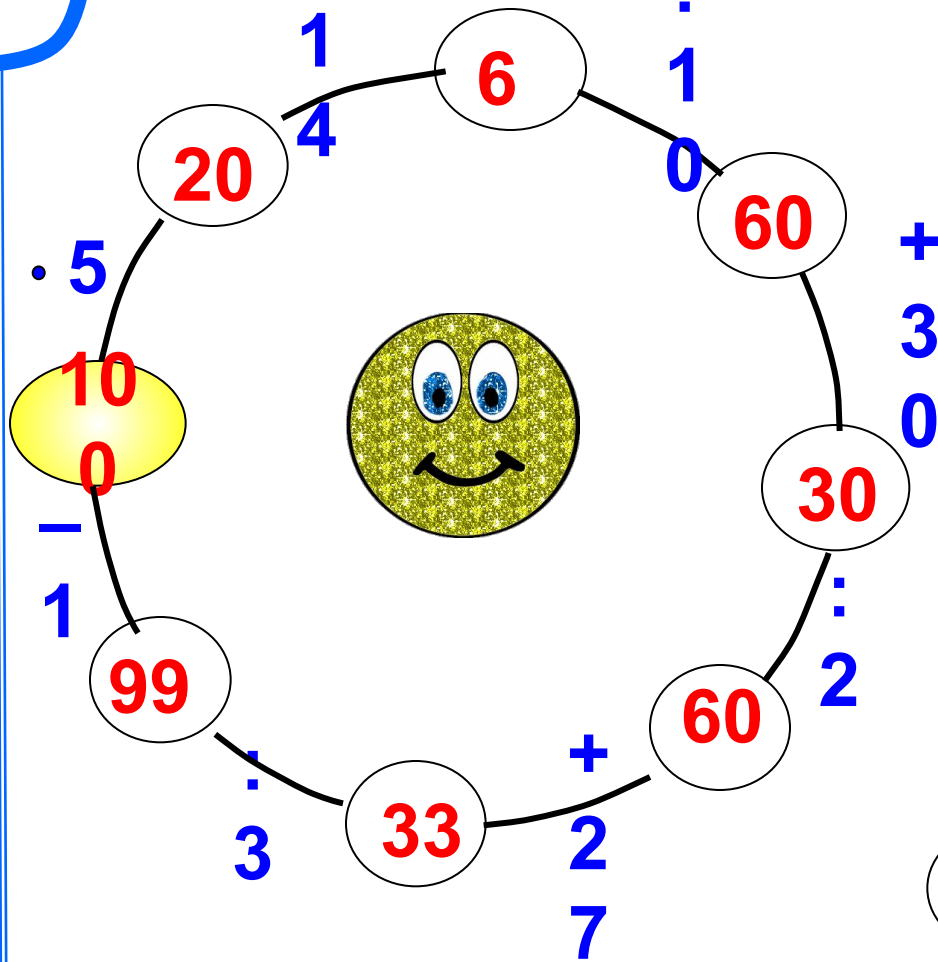
$$\begin{array}{c} 7 \\ 0 \end{array} \rightarrow \begin{array}{c} - \\ 5 \\ 0 \end{array} \rightarrow \cdot 5 \rightarrow \begin{array}{c} \div \\ 2 \\ 0 \end{array} \rightarrow \begin{array}{c} + \\ 5 \\ 5 \end{array} \begin{array}{c} \div \\ 3 \\ 0 \end{array} \rightarrow 2$$

$$\begin{array}{c} 9 \\ 0 \end{array} \rightarrow \begin{array}{c} \div \\ 3 \end{array} \rightarrow \cdot 2 \rightarrow \begin{array}{c} \div \\ 1 \\ 5 \end{array} \begin{array}{c} + \\ 3 \\ 6 \end{array} \rightarrow 40$$

$$\begin{array}{c} 5 \\ 0 \end{array} \rightarrow \begin{array}{c} - \\ 1 \\ 0 \end{array} \rightarrow \begin{array}{c} \div \\ 8 \end{array} \rightarrow \begin{array}{c} + \\ 1 \\ 0 \end{array} \cdot 4 \rightarrow 60$$



Восстановите цепочки
вычислений.

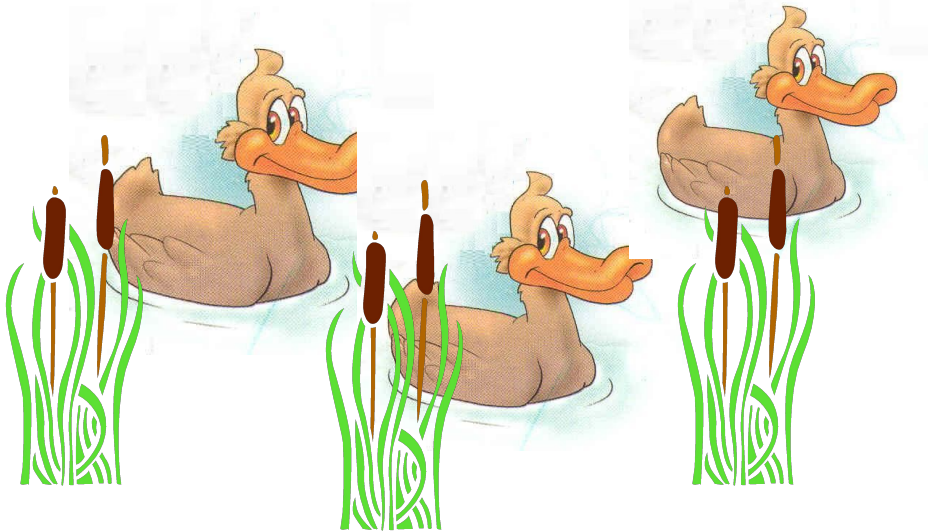


Весёлые задачки

К трём зайчатам в час обеда
Прискакали три соседа.
В огороде зайцы сели
И по семь морковок съели.
Кто считать, ребята, ловок,
Сколько съедено морковок?



Подарил утятам ёжик
8 кожаных сапожек.
Сколько ж маленьких утят
Ёжика благодарят?



Решите уравнения



Решите уравнения

Вариант 1.

$$b : 4 = 32$$

$$y + 100 = 600$$

$$*740 - y = 900 - 200$$

Вариант 2.

$$a \cdot 2 = 80 \cdot 4$$

$$y + 375 = 500$$

$$*x - 100 = 150 + 250$$

Оценивание работ:

0 ошибок- «5»,

1 ошибка- «4»,

2 ошибки- «3»,



Берегите зрение



Кроссворд




Кроссворд



Работа по учебнику

№ 4 на стр. 95.

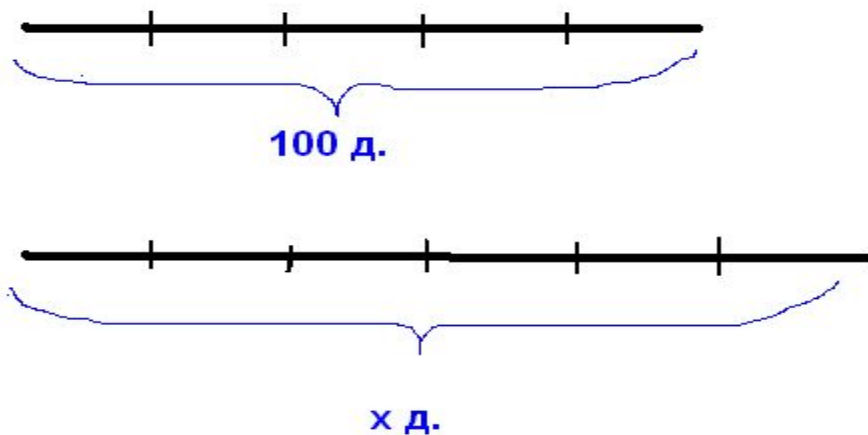


Решите задачу



Задача

В лагерь «Солнышко» приехали на 5 автобусах 100 детей, сколько детей приедут в лагерь «Лесная сказка» на 6 таких же автобусах?



$$x: 6=100:5$$

Ребусы

100 лб

7

по 2 лр 1 а

Домашнее задание.

Задача на смекалку.

Три брата – Ваня, Саша и Коля – учились в разных классах одной школы. Ваня не был старше Коли, Саша не старше Вани. Назови имя старшего из братьев, среднего, а затем младшего.



Итог урока

Продолжите фразы:

Сегодня на уроке я повторил...

Сегодня на уроке я научился...



Спасибо за урок!

Желаю успехов в учёбе!

