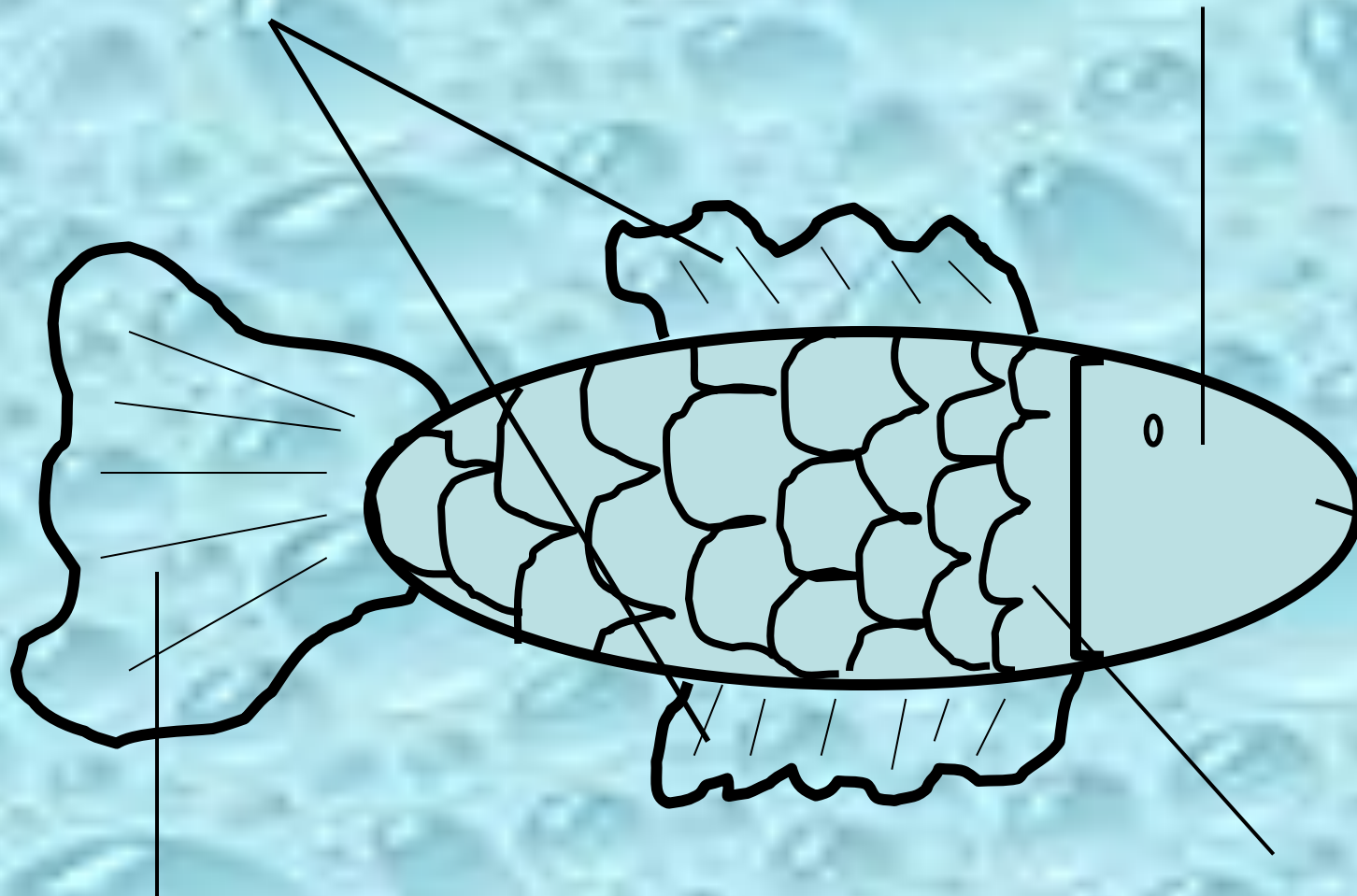


ПУТЁВКА

**КРУИЗ ПО
ПОДВОДНОМУ
МИРУ**






ПЛАВНИКИ

ГОЛОВА



ХВОСТ

ТУЛОВИЩЕ



В аквариуме:

В море:

В реке:

Гуппи

Сельдь

Карась

Меченосец

Акула


Окунь

Телескоп

Камбала

Щука

Лещ



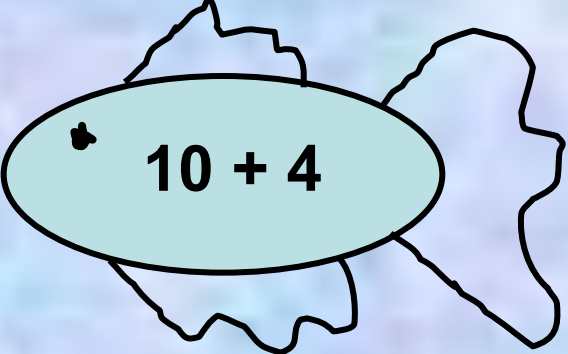
$14 - 4$



$5 + 5$




$7 + 7$




$10 + 4$



$6 + 4$



$15 - 1$



$13 + 1$



$20 - 10$

$$14 - 4 = 10$$

$$7 + 7 = 14$$

$$5 + 5 = 10$$

$$10 + 4 = 14$$

$$6 + 4 = 10$$

$$15 - 1 = 14$$

$$20 - 10 = 10$$

$$13 + 1 = 14$$

$$6 + 6 = \dots \text{Л}$$

$$7 + 8 = \dots \text{Щ}$$

$$9 + 5 = \dots \text{Е}$$

12	14	15
Л	Е	Щ

$8 + 8 = \dots$ О

$9 + 2 = \dots$ К

$7 + 5 = \dots$ Н

$16 - 1 = \dots$ у

$10 + 9 = \dots$ Ь

16	11	15	12	19
О	К	у	Н	Ь

Вася поймал 10 раков, а Саша поймал 8 моллюсков. Сколько всего обитателей подводного мира поймали мальчики? Кто из мальчиков поймал больше и на сколько? Хорошо ли сделали мальчики?



$$10 + \text{2} = 12$$

$$10 + \text{3} = 13$$

$$17 - \text{7} = 10$$

$$10 + \text{4} = 14$$

$$15 - \text{10} = 5$$

$$18 - \text{1} = 17$$

Презентацию подготовила
Ударова М. И.
учитель начальных классов,
школа №375.

