

Тема урока: « Закрепление  
вычислительных навыков, сравнения  
чисел. Нумерация в пределах 100.»



# 16 ноября. Классная работа.

Какой сегодня день недели? Какое число?

16

Запишите в порядке возрастания все  
двузначные числа, единицы которых равны 6.

16 26 36 46 56 66 76 86 96

«Математики тропинки  
одолеем без запинки.»

**Где играют дружно,  
Считают умело,  
Там и сказке можно  
Появиться смело.**

# Вычисли и расшифруй название сказки.

**А**  $\begin{matrix} 29 + \\ 1 \end{matrix}$

3  
0

**Ш**  $60 - 10$

5  
0

**К**  $9 + 9$

1  
8

**У**  $\begin{matrix} 40 + 2 \\ 0 \end{matrix}$

6  
0

**О**  $7 + 8$

1  
5

**Е**  $6 + 6$

1  
2

**З**  $\begin{matrix} 80 + 1 \\ 0 \end{matrix}$

9  
0

**Н**  $8 + 6$

1  
4

**Л**  $6 + 7$

1  
3


90	15	13	60	50	18	30
З	О	Л	У	Ш	К	А

# Шарль Перро «Золушка»




# Первое задание Мачехи:

прополоть грядки на ее огороде.




$$20 + 5 + 40 + 4 =$$




$$30 + 7 + 3 + 50 =$$

# Проверка.



$$20 + 5 + 40 + 4 = 69$$



$$30 + 7 + 3 + 50 = 90$$

# Второе задание Мачехи: отделить горох от фасоли.





Вставьте пропущенные числа  
**3, 4, 1** и **6** так, чтобы равенства и  
неравенства стали верными.

$$\square + \square + \square + \square$$

$$\square + \square + \square + \square$$

$$\square + \square + \square + \square$$

$$\square + \square + \square + \square$$

# Проверка


$$3 + 4 + 6 + 1$$

$$6 + 4 + 3 + 1$$

$$6 + 3 + 4 + 1$$

$$6 + 3 + 4 + 1$$

# Работа по учебнику.



Стр. 53 № 12.

# Третье задание Мачехи:

сшить платья для её дочерей.

У портнихи было 10 метров ситца и 5 метров шёлка.

*Дополни задачу сначала так, чтобы для её решения подошло первое из данных выражений, а потом так, чтобы подошло второе выражение.*

$$(10 - 2) + 5$$

$$10 + (5 - 2)$$

# Золушка

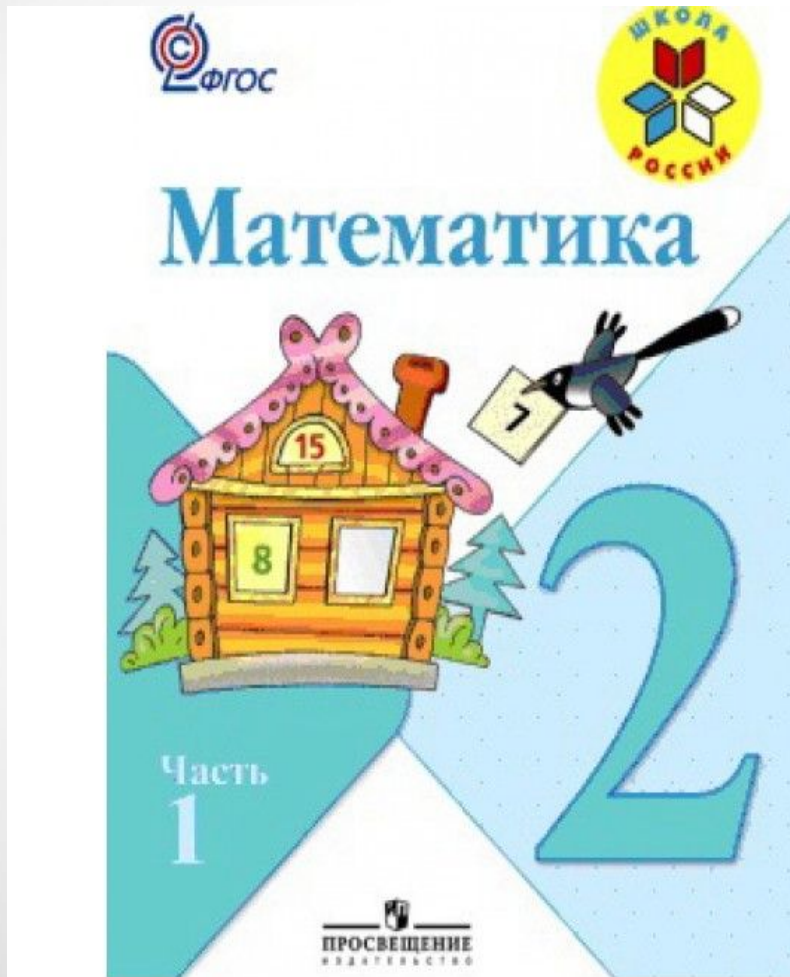


# Работа по учебнику.


**Самостоятельная  
работа**

**Стр. 52 № 6.**


**Стр. 52 № 4.**




# Шкала успеха.



Молодец, хорошо работал!



Хорошо работал, но не всё получалось!



Мне нужно быть внимательнее, кое-что повторить!

# Домашнее задание.

Стр.53 № 8,  
№ 10 ( решить  
любую задачу)





**УРОК МАТЕМАТИКИ**  
**2 КЛАСС**  
**УМК «ШКОЛА РОССИИ»**

*Ямщикова Виктория  
Владимировна  
учитель начальных  
классов  
МОУ Гимназия  
г. Фрязино*