




**МАТЕМАТИК
А**



Какое число лишнее?

7	14	21	27	28	35	42	49
5	10	11	15	20	25	30	35
4	8	12	16	17	20	24	28

Реши выражения

$35 + 20$

$80 - 14$

$79 + 20$

$100 - 12$

$40 - 18$

$57 + 20$

$60 - 16$

$100 - 12$

$80 - 14$


$60 - 16$

$40 - 18$

$79 + 20$


$57 + 20$

$35 + 20$



Составь из чисел **25, 7** как можно больше
выражений.

- $25 + 7$
- $25 - 7$
- $18 + 7 = 25$
- $32 - 7 = 25$
- $32 - 25 = 7$



На Новогодней ёлке плясали 5 медвежат и 8 зайчат. Четверо зверят ушли получать ГОСТИНЦЫ.

1. Сколько всего зверей было сначала у ёлки? $8 - 5$
2. На сколько больше зайчат, чем медвежат? $8 + 5$
3. Сколько осталось медвежат, если ушли 4 медвежонка? $8 - 4$
4. Сколько осталось зайчат, если ушли 4 зайчонка? $5 - 4$
5. Сколько всего осталось зверят? $(8 + 5) - 4$



Математическая разминка

$$5+9-8+9-8+3-6+7$$


$$75-70+12-9+30-1+10$$

$$11+9-2+7+6+8-5+6$$

Числовые ряды

15, 12, 40, 3, 21, 37, 69


Найдите лишнее число . Каждое двузначное число уменьшите на 1.



Сантиметр дециметр


- 1 см
- 1 д м = 10 см

- 1 м = 10 д м
- 1 м = 100 см



Не ошибись!

- $1\text{ дм} = ?\text{ см}$
- $7\text{ дм} = ?\text{ см}$
- $35\text{ см} = ?\text{ д м } ?\text{ см}$
- $6\text{ м } 9\text{ д м} = ?\text{ д м}$
- $8\text{ м } 3\text{ д м} = ?\text{ д м}$



Реши задачу



- Было 30 м -
отрезал 10 м



- Было 30 м -
отрезал 20 м

Вопрос:

**В каком куске
провода
осталось
больше и на
сколько ?**

Реши задачу

- Было-12 м.
- Сшила -2 сарафана,
- расходуя по 3 м на каждый сарафан.
- Сколько метров осталось?

