

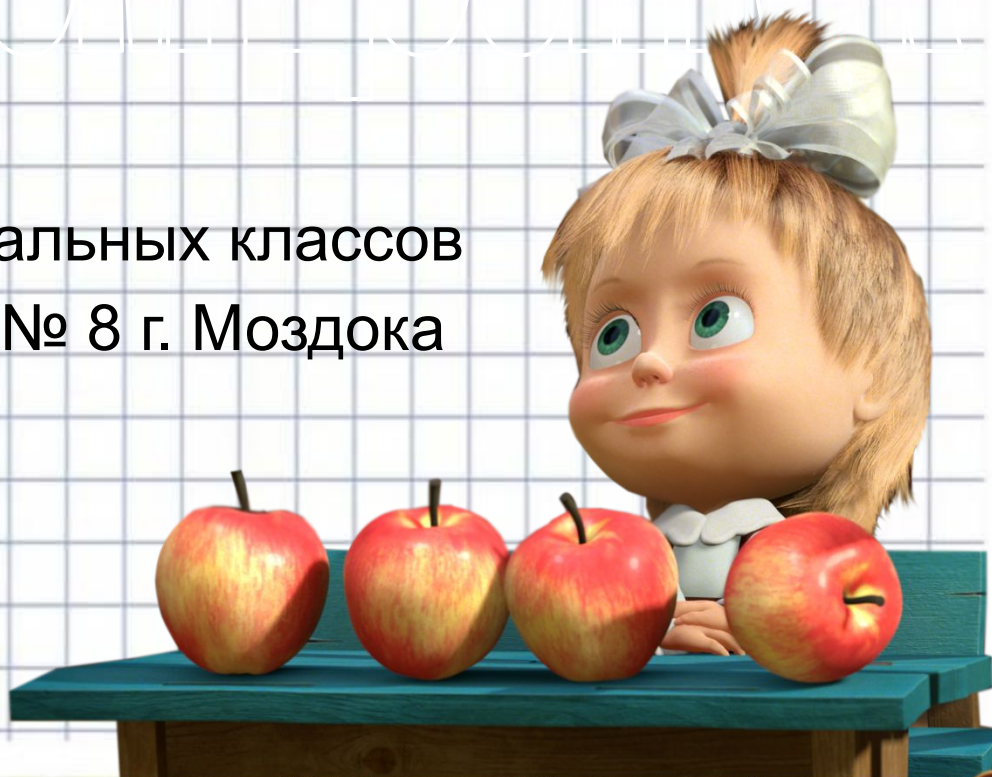


Урок

Секунда



Учитель начальных классов
МБОУ СОШ № 8 г. Моздока
Сук Н.И.



1. На день рождения Маше подарили новую игру. Там было 4 пакетика по 10 фишек. Маша дала 8 фишек Ане.



Чтобы выдать 8 фишек Вите, ей придётся вскрыть следующий пакетик. Нарисуй, сколько после этого у неё останется фишек.

- Составь и запиши равенства:

$$\text{Ане: } 40 - 8 = \dots$$

$$\text{Вите: } 32 - 8 = \dots$$

Гоше:

Диме:


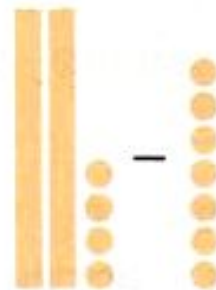
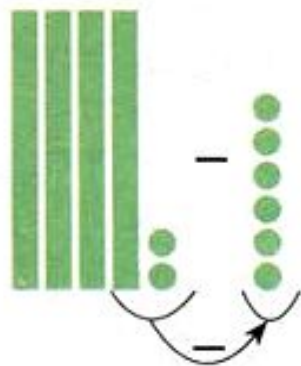
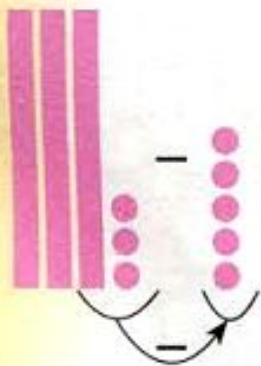


Сколько фишек останется Маше?

Закрепляй-ка

2. Столбик обозначает десяток, горошина — единицу. Мы вычитаем единицы из единиц. Если в уменьшаемом не хватает единиц, то берём ещё один десяток.

- Вычисли. Объясни, как ты считал. Запиши равенства.



3. Скажи, не вычисляя, сколько десятков будет в ответе.

$$43 - 6 \quad 65 - 3 \quad 27 - 9 \quad 51 - 5 \quad 47 - 5$$

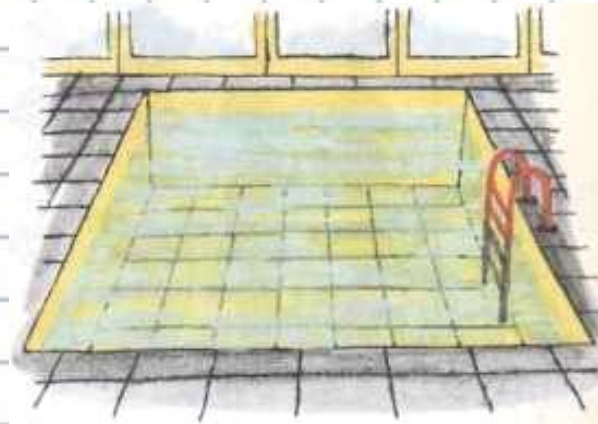
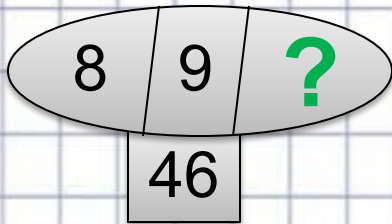
$$87 - 4 \quad 21 - 4 \quad 65 - 8 \quad 76 - 5 \quad 36 - 7$$

$$72 - 9 \quad 45 - 7 \quad 38 - 6 \quad 83 - 7 \quad 93 - 8$$





4. В бассейне занимаются 46 пловцов.
Из них 8 человек занимаются прыжками
в воду, 9 — синхронным плаванием,
остальные — скоростным плаванием.
Сколько человек занимается скоростным
плаванием?



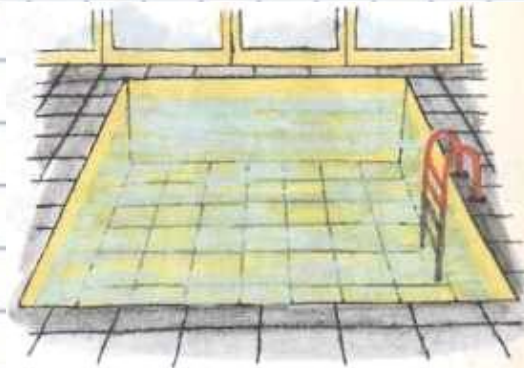
Решите задачу разными способами.





5. Дно бассейна выложили плиткой трёх цветов. Жёлтых плиток 35, голубых на 8 меньше. А белых на 9 меньше, чем голубых. Сколько плиток использовали?

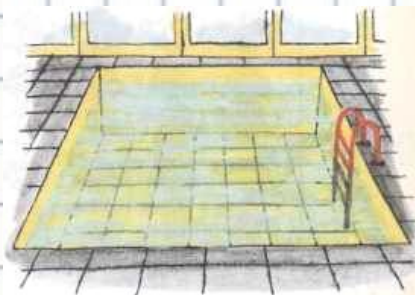
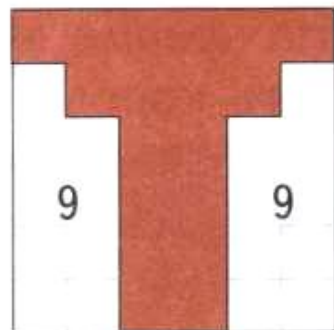
Жёлтых: 35
Голубых: 35 - ...
...



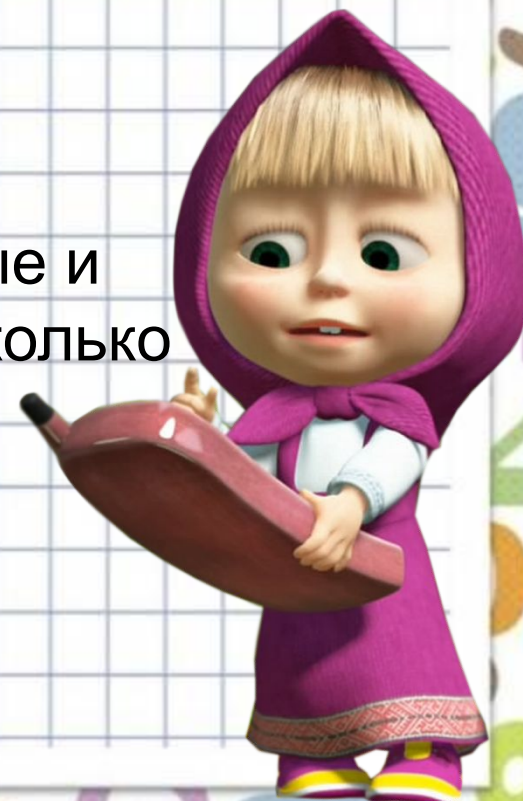

6 а) Квадратный пол выложили красными и белыми плитками. Всего 36 плиток.

Сколько использовали красных плиток?

- Посчитай разными способами.



б) В узоре использовали 44 плитки: белые и голубые. Сколько среди них голубых? Сколько белых?



7. Маша с Медведем набрали грибов. Маша — 25 грибов, из них 7 белых. А Медведь— 43 гриба, среди которых было 4 белых.

Бабушка белые грибы посушила, а остальные пожарила. Сколько грибов пожарила бабушка?

- Предложи разные способы подсчёта.



Список использованных источников

Изображение Маша за партой с яблоками:

<http://allforchildren.ru/pictures/showimg/mim/mim001gif.htm>

Изображение Маша за партой :

<http://allforchildren.ru/pictures/showimg/mim/mim012gif.htm>

Анимация Маша пишет за партой:

<http://fanparty.ru/fanclubs/masha-i-medved/pictures/1627979>

Изображение Маша 1:

<http://allforchildren.ru/pictures/showimg/mim/mim041jpg.htm>

<http://allforchildren.ru/pictures/showimg/mim/mim024gif.htm>

Изображение Маша 2:

<http://allforchildren.ru/pictures/showimg/mim/mim037gif.htm>

Анимация Маша считает яблоки:

<http://fanparty.ru/fanclubs/masha-i-medved/pictures/1627969>

Анимация Маша читает:

<http://fanparty.ru/fanclubs/masha-i-medved/pictures/1627977>

<http://fanparty.ru/fanclubs/masha-i-medved/pictures/1627975>

Анимация Маша играет в мяч:

<http://fanparty.ru/fanclubs/masha-i-medved/pictures/1627981>

Физминутка от Галкиной Инны Анатольевны:

http://luchiki.ucoz.ru/load/ehlektronnye_fizminutki_dlja_glaz/15