


Час занимательной математики

1 класс



Олисаева Светлана Дзамболатовна
Филиал МКОУ СОШ №5
г.Алагира в с.Бирагзанг
Алагирского района

Рисуем по клеточкам

Занятие 23. Медведь

На занятии ребенок рисует по клеточкам медведя.

Скороговорка:

Шапка да шубка –
Вот наш мишутка.

Мед в лесу медведь нашел,
Мало меду, много пчел.

Упражнение на расслабление мышц плечевого пояса:

Шел мишка к броду,
Бултых в воду.
Уж он мок, мок, мок.
Уж он кис, кис, кис.
Вымок, выкис, залез на колоду
И опять: бултых в воду.
И так далее.

На первой строчке изобразить походку медведя. На второй строчке наклониться и расслабить плечи, руки внизу покачиваются. На предпоследней строчке распрямиться и изобразить как мишка забирается на колоду. На последней строчке опять наклониться. И так далее.

Повтори чистоговорку:

Об-об-об – шишка мишке прямо в лоб.

Отгадай загадку:

Летом ходит по тропе,
А зимой согнут в норе.

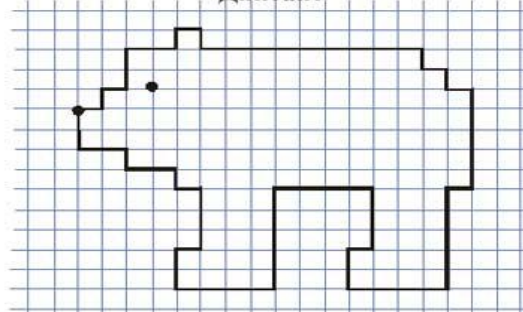
(медведь)

Хозяин лесной просыпается весной,
А зимой под вьюжий вой

Спит в избушке снеговой.

(медведь)

Диктант



Отступи 2 клетки слева, 7 клеток сверху, ставь точку и начинай рисовать:

1 →	9 →	4 ←	1 →
1 ↑	1 ↓	2 ↑	3 ↑
1 →	1 →	1 →	1 ←
2 ↑	1 ↓	3 ↑	1 ↑
2 →	1 →	4 ←	2 ←
1 ↑	5 ↓	5 ↓	1 ↑
4 →	1 ←	4 ←	2 ←
1 ↓	5 ↓	2 ↑	2 ↑

Что получилось? Нарисуй медведю глаз.

Логические концовки.

1. Если стол выше стула, то
стул ...

2. Если двое больше одного, то один ...


3. Если Саша вышел из дома раньше
Серёжи, то Серёжа...

4. Если река глубже ручейка, то ручеек

...
5. Если сестра младше брата, то брат

...

Деление на группы






Деление на группы








Ребусы



крот

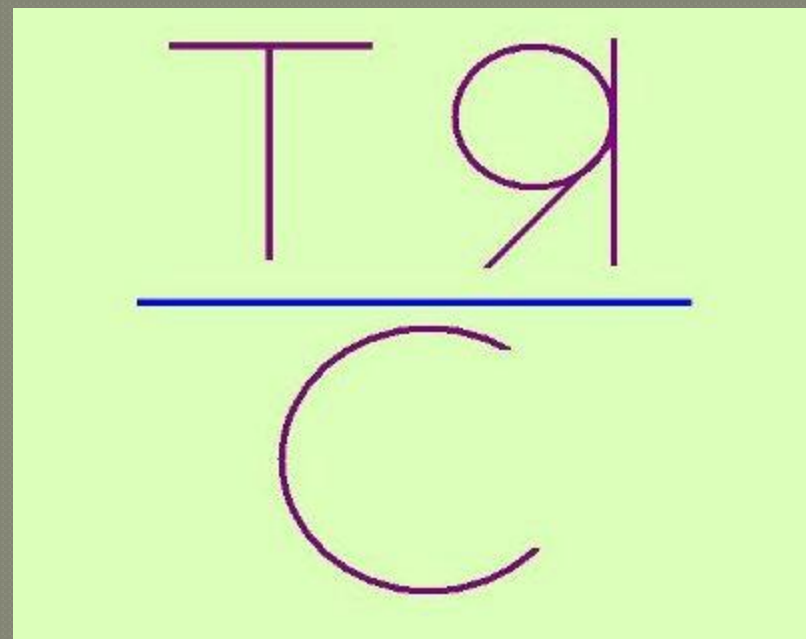


поднос

Ребусы



Натasha



Настя



Таня

К = Я



гусениц

а

Продолжи ряд.



Вставь картинки.



Логическая задача

**Рыжий и Пёстрый клоуны выступали
с мячом и шарами.**

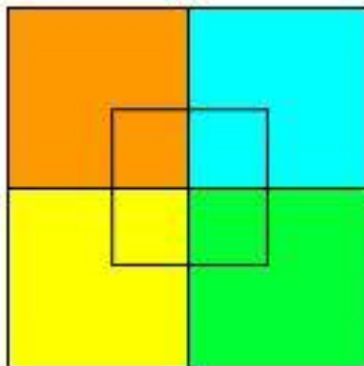
**Рыжий клоун выступал не с мячиком,
А пёстрый клоун выступал не с шарами.**

**С какими предметами выступали Рыжий и Пёстрый
клоуны?**



Будь внимателен!

Сколько квадратов
ты видишь?




8

9

10

Реши задачу.

Папа купил 3 мяча зелёного и жёлтого цвета. Зелёных мячей было больше, чем жёлтых. Сколько мячей каждого цвета купил папа?



Ответ: зелёных – 2 мяча, жёлтых 1 мяч.

