

Занимательная

математика





Объявление!!!!



Ребусы

Задачи - тесты

Логические задачи



Ребусы





чис



сч




1



2



5



8



З



Н

А

К



МИН

ус




ТОЧ



зад



СТР



СТО

Р1а

Род

ПО



под

ина



сор

1 вал



ст



СКВО

рец
1000янк

а **СТОЯ**

Отгадай ребус

и ты узнаешь о правилах личной гигиены.

ПРЕЖДЕ ЧЕМ ВСЯ

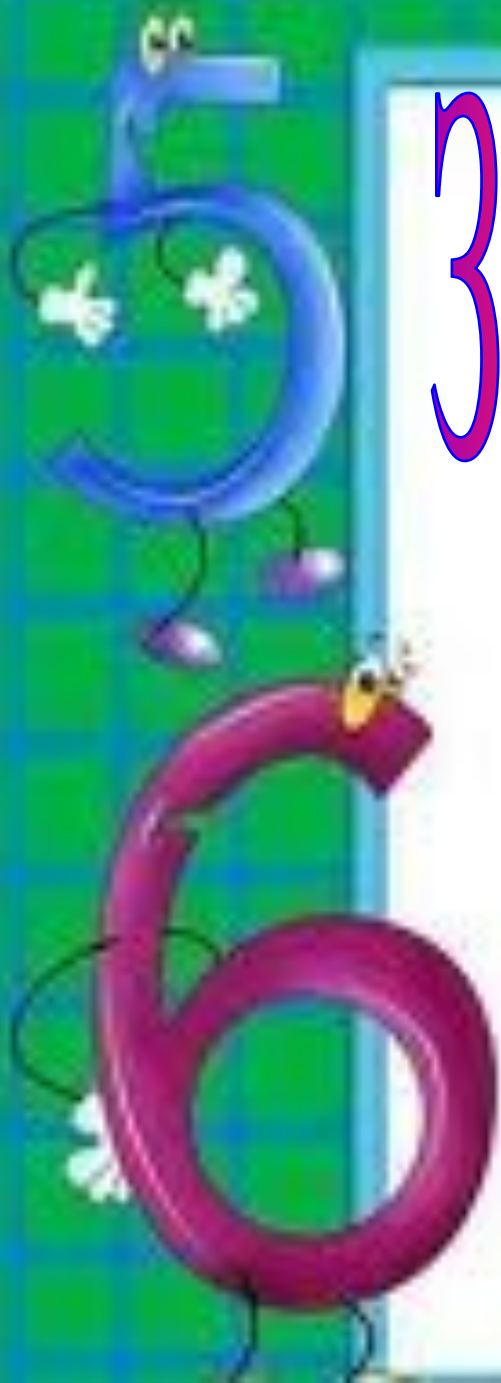
7Я 05 СЯДЕТ ЗА СТОЛ,

ПРЕ2РИТЕЛЬНО

ВЫ3 КЛЕЁНКУ.



Задачи-тесты



Выбери правильный

7 воробьи ответ спустились на
грядки,
Скачут и что - то клюют без
оглядки.

Котик - хитрюга внезапно
подкрался,
Мигом схватил одного и умчался.

Всех как паша клевать, без
оглядки!

Силько тепеь их ста
грядке:

0

6

5



Выбери правильный

ответ

Дед, баба, внучка, Жучка, кошка и мышка тянули-тянули репку и, наконец, вытянули. Сколько глаз смотрело на репку?

10

12

8



Выбери правильный




от

Два цыплёнка стоят,
Два в скорлупке сидят,
Шесть яиц под
крылом

У наседки лежат.

Сосчитай поточней,
Отвечай поскорей:

Сколько будет цыплят
У наседки моей?



9

10

8

**Выбери правильный
ответ**



**Два щенка-баловника
Бегают, резвятся,
К шалунишкам три щенка
С громким лаем мчатся.
Вместе будет веселей.
Сколько собралось
друзей?**

4

5

6

**Выбери правильный
ответ.**



Три гуся летят над нами,

**Три других – за
облаками,**

**Два спустились на
ручей.**

4

8

6

Выбери правильный
ответ

**Семь листьев Вася сам
собрал,
Два листика Алеша дал.
Скажите, сколько у него
Осенних листиков всего?**

7

9

8

**Выбери правильный
ответ**

**У стены стоят кадучки.
В каждой ровно по 2
лягушки.**

**Если было пять кадучек,
Сколько было в них
лягушек?**



10

5

8

Выбери правильный

Посадила ответ в печь

Пирожки с капустой в печь

Для Наташи, Маши, Тани,

Коли, Оли, Гали, Вани

Пирожки уже готовы.

Где еще один пирог

Кот под лавку уволок.

Да в печи четыре штуки

Пироги считают внуки.

Если можешь, помоги

Сосчитать им пироги.



10





12



11






Логические задачи



Кошки



В комнате 4 угла, в каждом углу по одной кошки, напротив каждой кошки по три кошки, на хвосте у каждой кошки, по одной кошки. Сколько кошек в комнате?



Ответ: *4 кошки. Напротив каждой кошки по три кошки в трёх углах, и каждая кошка сидит на своём хвосте!*

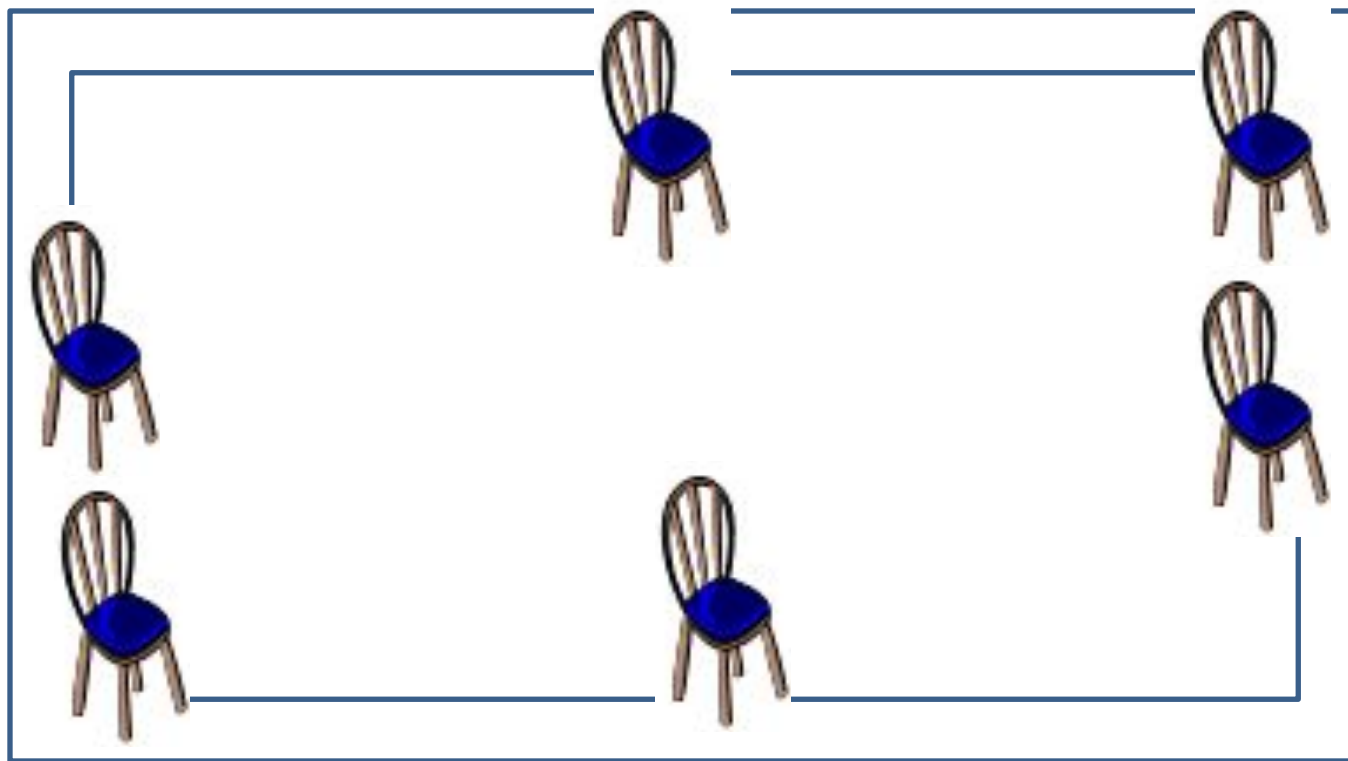
Свечи.

В комнате горело 50 свечей, 20 из них задули. Сколько останется?



Ответ: останется 20 свечей, остальные сгорят, а задутые свечи не сгорят полностью.

Расставьте в комнате 6 стульев так, чтобы у каждой стены стояло по 2 стула.



Сидят три барана, против
каждого барана - два барана,
много ль всех?




Ответ: 3 барана.

*Сестре 4 года, брату 6 лет.
Сколько лет будет брату, когда
сестре исполнится 6 лет?*



Ответ: 8 лет.

Как в комнате можно поставить 2 стула так, чтобы у каждой из четырех ее стен стояло по одному стулу.



У мальчика столько сестер, сколько и братьев, а у его сестры вдвое меньше сестер, чем братьев. Сколько всех братьев и всех сестер?



Ответ: 4 брата, 3 сестры.

