

# Математика



Считайте, ребята, точнее  
считайте!

1 КИТАСС

Хорошее дело смелей  
прибавляйте!

Плохие дела поскорей  
вычитайте!

Учебник научит вас точному  
счёту,

Скорей за работу, скорей за

*Кто я?*

Круглый, румяный.


В печке печён,

На окошке стужён.




*Колобок*

# Проверка



5, 8, 4, 6, 7, 0, 1, 2



**Молодцы!**



# Задача



Семь снегирей на ветке сидели.

Три снегиря ещё прилетели.



Дед Мороз сосчитал снегирей.



Сколько всех птичек? Ответь

поскорей!





$$7 + 3 = 10 \text{ (c.)}$$



# Задача



Семь снегирей на ветке сидели.

Три снегиря от них улетели.

- Сколько ж осталось? - подумал  
Мороз.

А ты сосчитаешь? Отвечай  
поскорей!







$$7 - 3 = 4 \text{ (c.)}$$

$$\begin{array}{rcl} 6 - 0 = & 6 & 9 - 0 = & 9 \\ 6 + 0 = & 6 & 18 + 0 = & 18 \\ 14 - 1 = & 13 & 8 - 3 = & 5 \\ 14 + 1 = & 15 & 4 + 5 = & 9 \end{array}$$







Сколько крыльев у трёх  
попугаев  
и двух петухов?



10



Сколько лапок у четырёх  
щенят и двух цыплят?



20

# Физкультминутка

а два - присядка.  
Это заячья зарядка.  
лисята, как проснутся,  
обяют долго потянутся,  
Обязательно зевнуть.  
олчата - спинку выгнуть  
пегонечко подпрыгнуть.  
у, а мишка косолапый,  
ироко расставил лапы.  
А кому зарядки мало-  
ачинает пусть сначала!



# Из каких частей состоит задача?



По тропинке шагают 5 муравьёв и 3 божьих коровки.

8 насекомых

Сколько муравьёв и божьих коровок?


$5+3=8(n)$ .

ВОПРОС

УСЛОВИЕ


РЕШЕНИЕ

ОТВЕТ





# Сколько? Как сосчитать?



По  снежинок  раза – это

$$\boxed{5} \cdot \boxed{2} = \boxed{10}$$



# Сколько всего утят?



По

2

утёнка

3

раз – это

6

утят


$$1 \text{ дм} = 10 \text{ см}$$

$$20 \text{ см} = 2 \text{ дм}$$

$$3 \text{ дм } 5 \text{ см} = 35 \text{ см}$$



$$6 \text{ дм } 5 \text{ см} = 65 \text{ см}$$



Аня



Ира



Дима



Петя

**СПАСИБО!**

**Молодцы!!!**

