

Занимательные и нестандартные  
задачи


Математика в первом классе

---

Денисова Светлана Васильевна

Учитель начальных классов ВКК

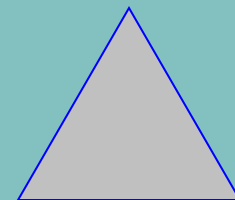
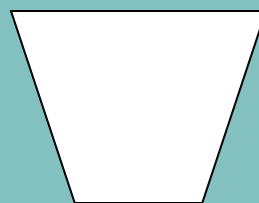


МОУ СОШ № 12



---




Воронеж 2005 год

Какую фигуру загадал Вова. Она не маленькая, не белая,  
не круг, не треугольник.




Катя. Петя и Вова начертили круг, треугольник и прямоугольник.


Катя не чертила ни круг, ни прямоугольник. Вова не чертил ни треугольник, ни круг. Кто какую фигуру начертил?



Катя. Петя и Вова начертили круг, треугольник и прямоугольник.  
Катя не чертила ни круг, ни прямоугольник. Вова не чертил ни  
треугольник, ни круг. Кто какую фигуру начертил?



**Катя**




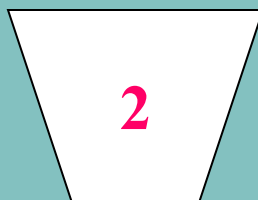



**Петя**




**Вова**


Про какую фигуру можно сказать: это четырёхугольник, у него все углы прямые, это не квадрат?



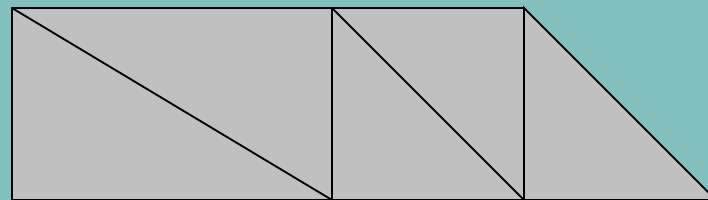
*Сколько прямоугольников  
на каждом рисунке?*



3



9



3


Петя сделал фигуру из проволоки длиной 10 см, а Вова из проволоки длиной 8 см. Кто какую фигуру сделал?



**Петя**


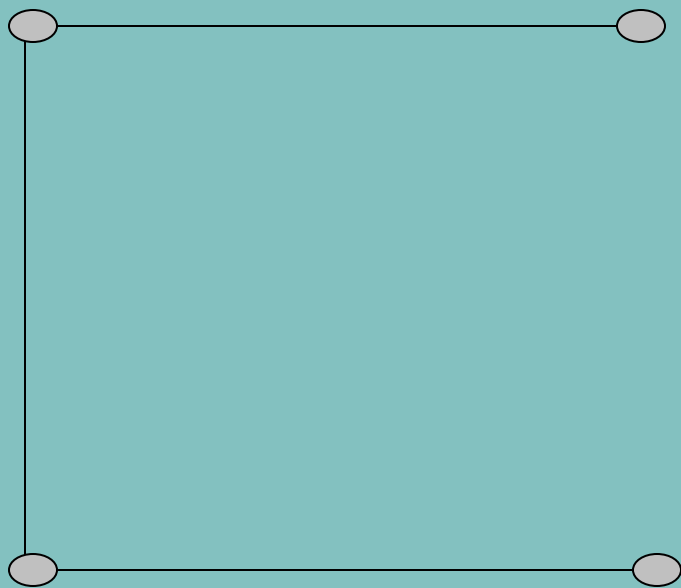


??



**Вова**

Вова начертил ломаную. Какая фигура получится, если замкнуть эту ломаную?





Вова начертил ломаную. Какая фигура получится, если замкнуть эту ломаную?

