

# Занимательные задачи

Тест по математике

1 класс

[Начать тест](#)

Автор В.В. Егорова

Сайт [viki.rdf.ru](http://viki.rdf.ru)

# Результат теста



[исправить](#)

Время: 1 мин. 10 сек.

[ещё](#)

Выбери правильный ответ.



1. Два цыплёнка стоят,  
Два в скорлупке сидят  
Шесть яиц под крылом  
У наседки лежат.  
Сосчитай поточней,  
Отвечай поскорей:  
Сколько будет цыплят  
У наседки моей?

8

10

9





Выбери правильный ответ.

2. Три гуся летят над нами,  
Три других – за облаками,  
Два спустились на ручей.  
Сколько было всех гусей?

4

8

6



Выбери правильный ответ.

3. Посадила бабка в печь  
Пирожки с капустой печь  
Для Наташи, Коли, Вовы  
Пирожки уже готовы.  
Да еще один пирог  
Кот под лавку уволок.  
Да в печи четыре штуки.  
Пироги считают внуки.  
Если можешь, помоги  
Сосчитать все пироги!



10

9

8

Выбери правильный ответ.



4. У стены стоят кадушки.

В каждой ровно по лягушке.

Если было пять кадушек,

Сколько было в них лягушек?



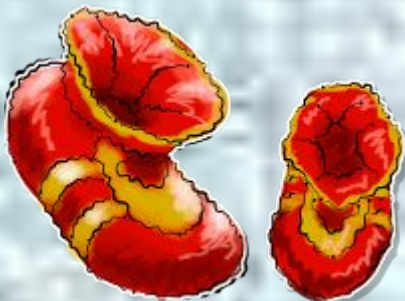
5

6

7

Выбери правильный ответ.

5. Подарил утятам ёжик  
Восемь кожаных сапожек.  
Кто ответит из ребят,  
Сколько было всех утят?



6

4

8

Выбери правильный ответ.

6. Было в детском магазине  
Десять кукол на витрине.  
Куколку одну купили  
Папа с мамой для Лили.  
Сколько кукол на витрине  
Осталось в детском магази

8

11

9





Выбери правильный ответ.

7. Дружно муравьи живут

И без дела не снуют.

Два несут травинку,

Два несут былинку,

Три несут иголки.

Сколько их под ёлкой?



6

7

8

Выбери правильный ответ.

8. Два щенка-баловника  
Бегают, резвятся,  
К шалунишкам три щенка  
С громким лаем мчатся.  
Вместе будет веселей.  
Сколько собралось друзей?



5

4

3

Выбери правильный ответ.

9. Семь листьев Вася сам собрал,  
Два листика Алеша дал.  
Скажите, сколько у него  
Осенних листиков всего?

9

8

5



Выбери правильный ответ.

10. Все мы знаем сказку «Репка»,  
Все умеем мы считать.  
Мы попробуем, ребята,  
Всех героев вам назвать:  
Внучка, Жучка, Кошка, Мышка.  
Дед и бабушка при нем.  
Ну, попробуйте, ребята,  
Всех назвать одним числом.



4

6

5

Выбери правильный ответ.

11. Я рисую Кошкин дом:

Три окошка, дверь с крыльцом.

Наверху еще окно,

Чтобы не было темно.

Посчитай окошки

В домике у кошки.



4

5

3

Выбери правильный ответ.

12. Яблоки в саду поспели,  
Мы отведать их успели:  
Пять румяных, наливных,  
Три с кислинкой.  
Сколько их?



6

7

8

Выбери правильный ответ.

13. Расставил Андрюшка  
В два ряда игрушки.  
Рядом с мартышкой –  
Плюшевый мишка.  
Вместе с лисой – заяка косой.  
Следом за ними – ёж и лягушка.  
Сколько игрушек  
Расставил Андрюшка?



6

5

4

Выбери правильный ответ.

14. Очень дружно мы живем,  
В школьном хоре все поем:  
Миша, Коля, Аллочка,  
Света, Таня, Галочка,  
Два Сережи и Марат.  
Сколько в хоре нас ребят?



7

8

9



Выбери правильный ответ.

15. Я нашел в дупле у белки  
Пять лесных орехов мелких,  
Вот еще лежит один.  
Ну и белка! Вот хозяйка!  
Ты орешки сосчитай-ка!



6

7

4