



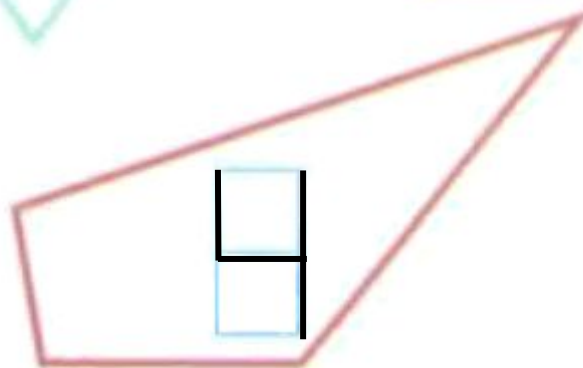
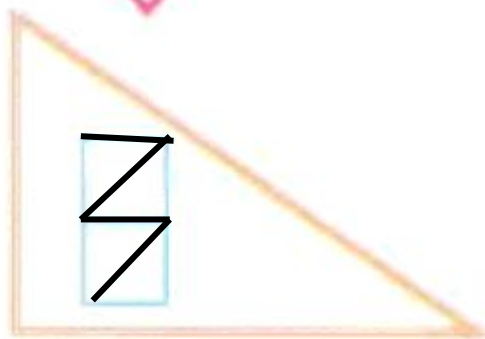
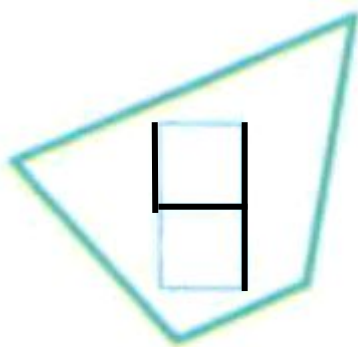
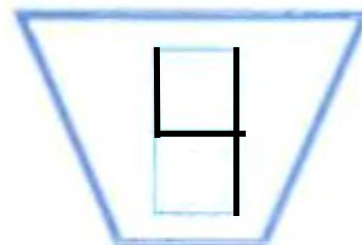
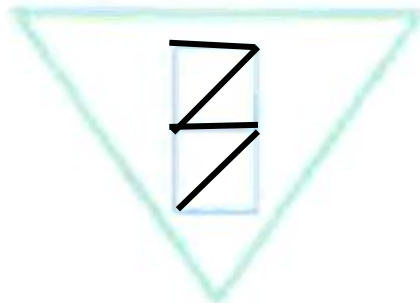
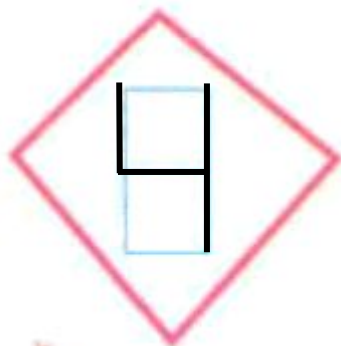
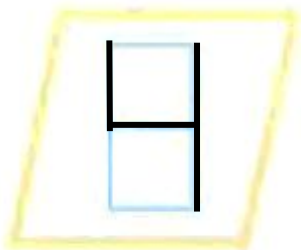
Число и цифра 4

Занятие 16



1

В каждом многоугольнике запиши количество его сторон и углов.



2 Вставь пропущенные числа. Обведи целое, а части подчеркни.

$$4 - \frac{1}{\square} = 3$$

$$3 + 1 = \frac{\square}{4}$$

$$2 + 2 = \frac{4}{\square}$$

$$4 - \frac{\square}{2} = 2$$

$$\frac{4}{\square} - 1 = 3$$

$$\frac{\square}{2} + 1 = 4$$

3

Сравни. На сколько больше? На сколько меньше?



4

>

2

>, <, =



1

<

4



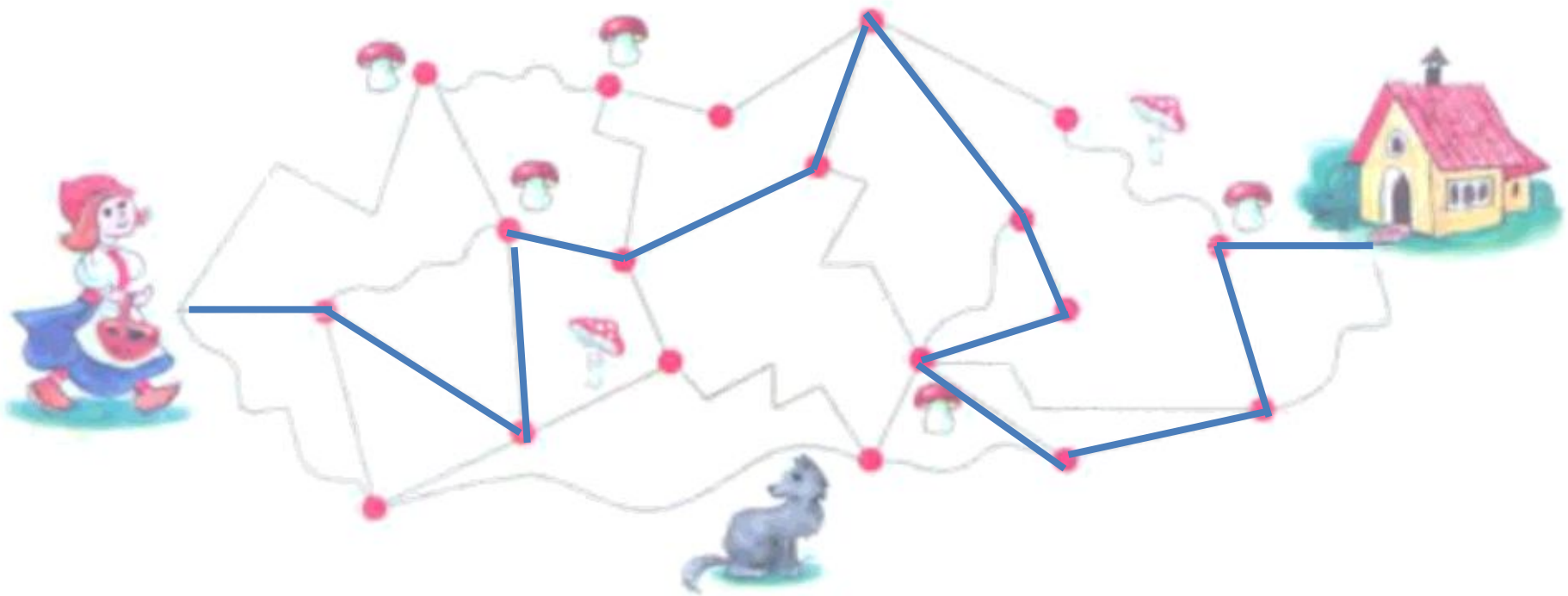
4

>

3

4

Сколько грибов соберёт Красная шапочка, пока дойдёт до бабушки? Идти можно только по прямым линиям. Дважды по одной дорожке проходить нельзя.



3

5

Сделай дома одинаковыми.

