


Слева, справа

Занятие 20

1

Обведи синим карандашом тех, кто поднял правую руку, и красным тех, кто поднял левую.




2 Нарисуй путь Вани до дома, если он обходит высокие ёлки справа, а низкие слева. Какая линия получилась?




3

Края полоски с нарисованным на ней числовым отрезком оборваны. Самое маленькое число подчеркни, самое большое — обведи. Расшифруй числа.



$$\text{flower} - 1 = 3$$



Дай мальчику, стоящему справа от девочки, синий шар, а девочке, стоящей слева от учительницы, жёлтый шар. Дай девочке в красном платье синий шар в правую руку, а мальчику в жёлтой рубашке – в левую. Раздели шары по цвету и составь равенства.



$$\begin{array}{|c|c|c|} \hline \bullet & \bullet & \bullet \\ \hline \end{array} + \begin{array}{|c|} \hline \bullet \\ \hline \end{array} = \begin{array}{|c|c|c|c|} \hline \bullet & \bullet & \bullet & \bullet \\ \hline \end{array} \quad \begin{array}{|c|} \hline 3 \\ \hline \end{array} + \begin{array}{|c|} \hline 1 \\ \hline \end{array} = \begin{array}{|c|} \hline 4 \\ \hline \end{array}$$

$$\begin{array}{|c|} \hline \bullet \\ \hline \end{array} + \begin{array}{|c|c|c|} \hline \bullet & \bullet & \bullet \\ \hline \end{array} = \begin{array}{|c|c|c|c|} \hline \bullet & \bullet & \bullet & \bullet \\ \hline \end{array} \quad \begin{array}{|c|} \hline 1 \\ \hline \end{array} + \begin{array}{|c|} \hline 3 \\ \hline \end{array} = \begin{array}{|c|} \hline 4 \\ \hline \end{array}$$

$$\begin{array}{|c|c|c|c|} \hline \bullet & \bullet & \bullet & \bullet \\ \hline \end{array} - \begin{array}{|c|c|c|} \hline \bullet & \bullet & \bullet \\ \hline \end{array} = \begin{array}{|c|} \hline \bullet \\ \hline \end{array} \quad \begin{array}{|c|} \hline 4 \\ \hline \end{array} - \begin{array}{|c|} \hline 3 \\ \hline \end{array} = \begin{array}{|c|} \hline 1 \\ \hline \end{array}$$

$$\begin{array}{|c|c|c|c|} \hline \bullet & \bullet & \bullet & \bullet \\ \hline \end{array} - \begin{array}{|c|} \hline \bullet \\ \hline \end{array} = \begin{array}{|c|c|c|} \hline \bullet & \bullet & \bullet \\ \hline \end{array} \quad \begin{array}{|c|} \hline 4 \\ \hline \end{array} - \begin{array}{|c|} \hline 1 \\ \hline \end{array} = \begin{array}{|c|} \hline 3 \\ \hline \end{array}$$

5

