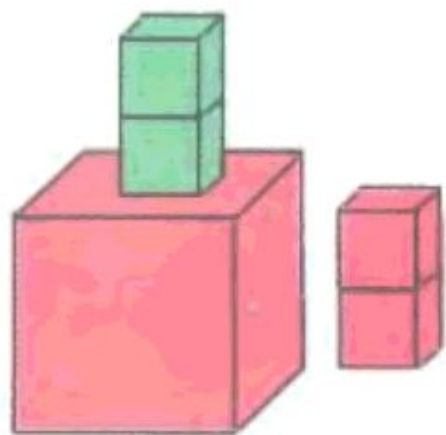


Число 5

Занятие 22



1

Разложи 5 яблок на тарелки по-разному. Запиши выражения.



$$\begin{array}{|c|} \hline \\ \hline \end{array} + \begin{array}{|c|} \hline \\ \hline \end{array}$$



$$\begin{array}{|c|} \hline \\ \hline \end{array} + \begin{array}{|c|} \hline \\ \hline \end{array}$$




$$\begin{array}{|c|} \hline \\ \hline \end{array} + \begin{array}{|c|} \hline \\ \hline \end{array}$$




$$\begin{array}{|c|} \hline \\ \hline \end{array} + \begin{array}{|c|} \hline \\ \hline \end{array}$$

1


Разложи 5 яблок на тарелки по-разному. Запиши выражения.




$$1 + 4$$



$$2 + 3$$



$$4 + 1$$



$$3 + 2$$

2

Найди признаки разбиения. Составь выражения.

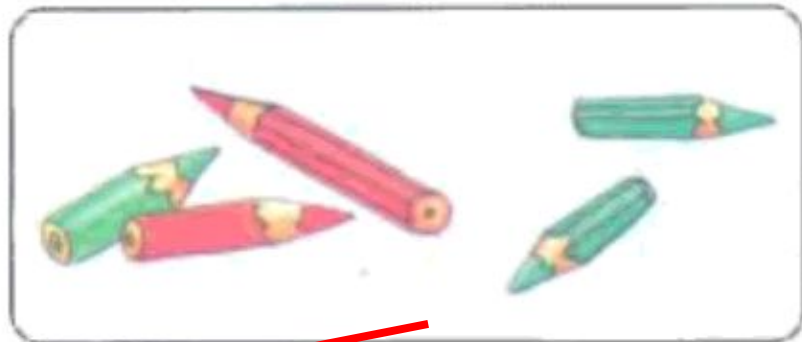



$$\boxed{2} + \boxed{3}$$

$$\boxed{1} + \boxed{4}$$

3

Составь задачи по картинкам. Реши их и соедини с нужными равенствами.


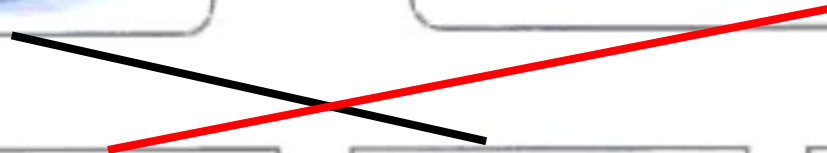


$$5 - 1 = 4$$

$$2 + 3 = 5$$

$$5 - 3 = 2$$

$$1 + 4 = 5$$



4

Между домами с номером 5 проведи дорожки прямой линией, между домами с номером 4 — кривой, с номером 3 — ломаной. Дорожки не должны пересекаться.

