

**Числа и цифры 1–5**

**Занятие 25**

1

На полоске нарисован числовой отрезок. Вставь пропущенные знаки.



$$\star + 1 = \text{flag}$$

$$\text{flag} + 1 = \text{balloon}$$

$$\text{flower} - 1 = \text{tree}$$

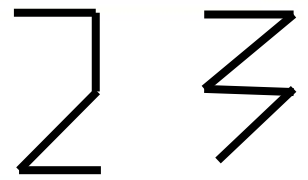
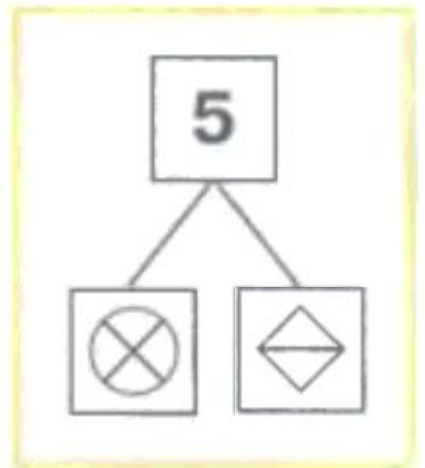
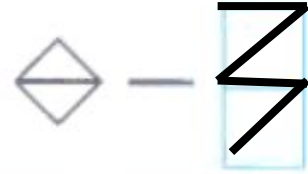
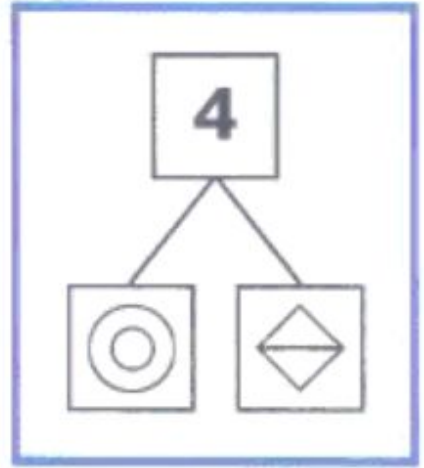
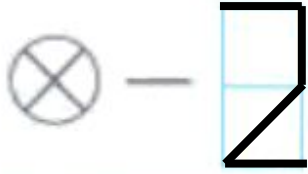
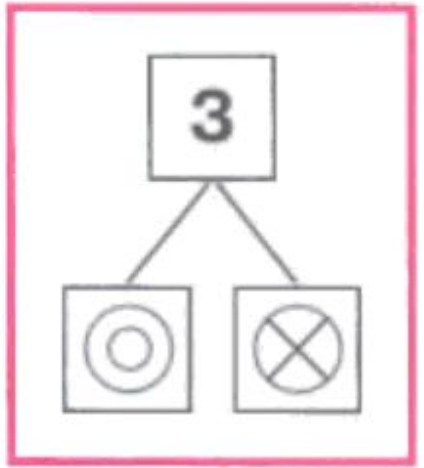
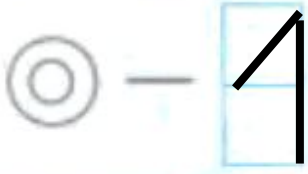
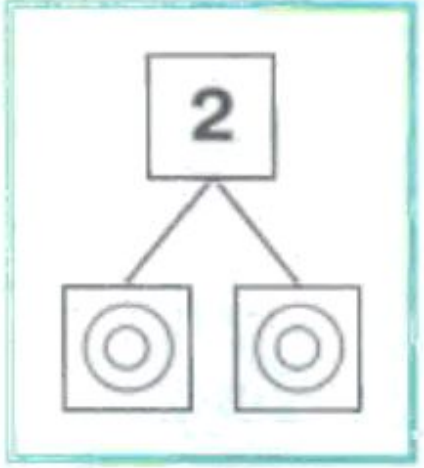
$$\text{diamond} - 1 = \text{flower}$$



Подчеркните значок, который показывает самое маленькое число.

А самое большое – обведите.

2 Расшифруй числа. Запиши состав числа 5, используя зашифрованные числа.



**3**

Сравни с помощью знаков  $>$ ,  $<$  или  $=$ .



$$5 > 2$$

$$3 < 4$$

$$1 < 5$$

$$4 < 5$$

$$2 = 2$$

$$5 > 3$$

$$3 > 1$$

$$5 = 5$$

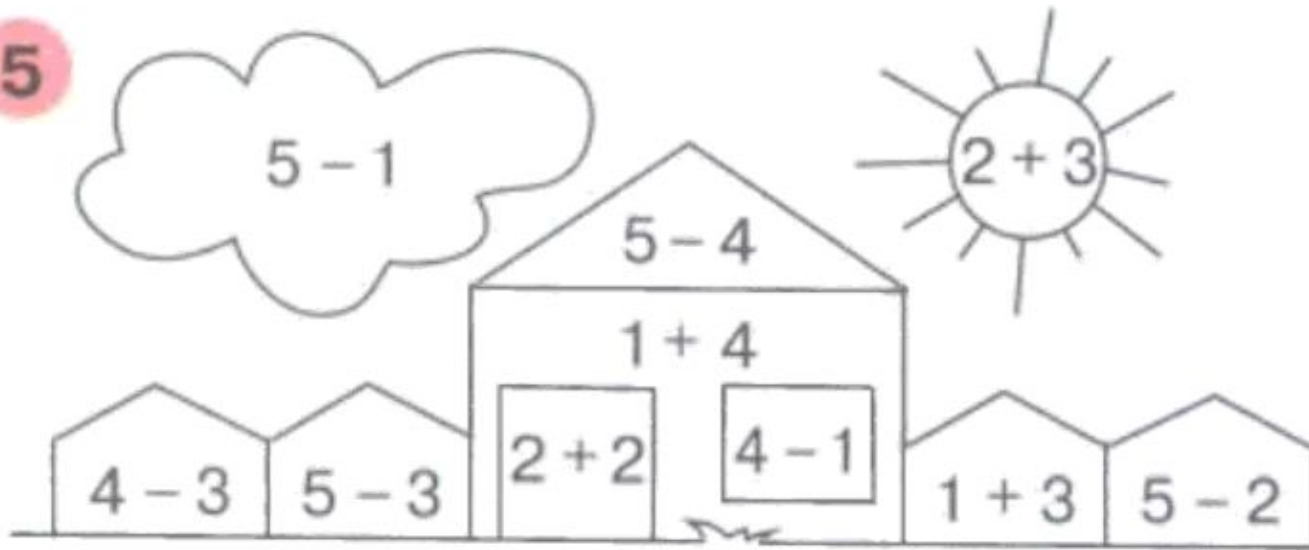
$$4 > 2$$

4 Нарисуй стрелки так, чтобы будильники показывали то же время, что электронные часы.

→ минутная  
→ стрелка  
→ часовая  
→ стрелка








5



5



-  — 1
-  — 2
-  — 3
-  — 4
-  — 5

6 Продолжи ряд.

