

**Число и цифра 6**

**Занятие 29**



1 Расшифруй числа.






$$\text{Green Circle} + \text{Green Circle} = 6$$

$$\text{Yellow Circle} + \text{Yellow Circle} = 4$$

$$\text{Green Circle} + \text{Yellow Circle} = \text{Red Circle}$$

$$\text{Red Circle} + 1 = \text{Blue Circle}$$

$$\text{White Circle} - \text{Yellow Circle} = \text{Yellow Circle}$$

	-	3
	-	2
	-	5
	-	0
	-	4

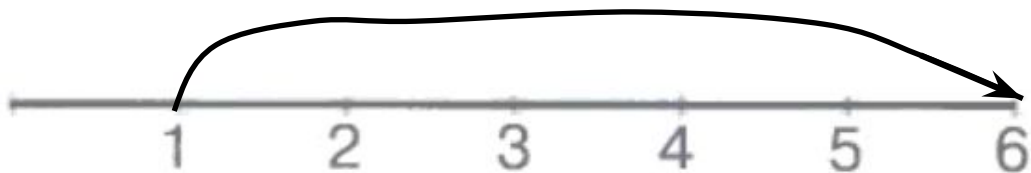


**3**

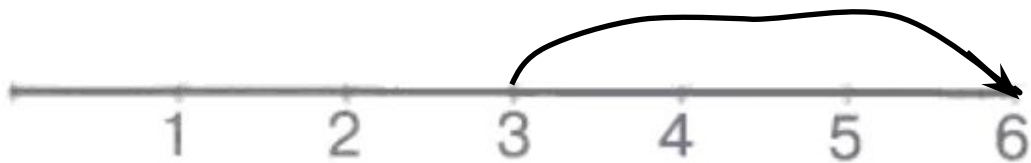
Выполни действия с помощью числового отрезка.



$$6 - 4 = \boxed{\phantom{00}}$$



$$1 + 5 = \boxed{\phantom{00}}$$



$$3 + 3 = \boxed{\phantom{00}}$$

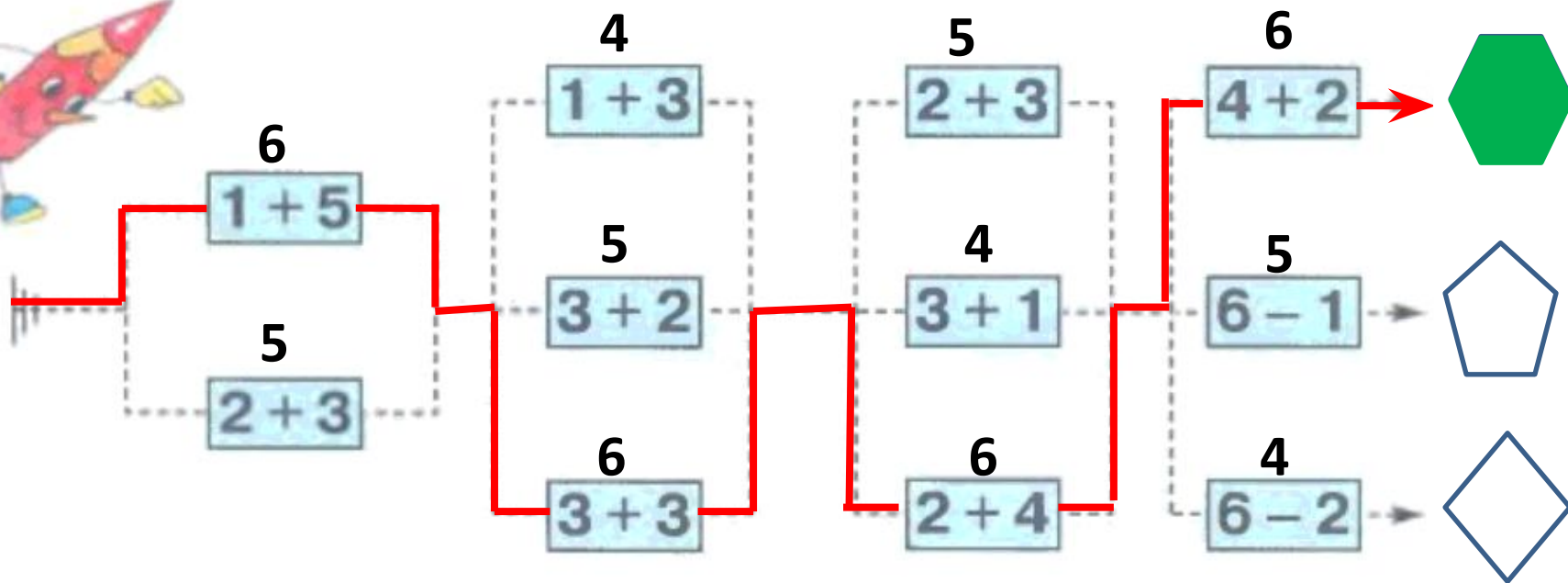


$$6 - 2 = \boxed{\phantom{00}}$$



4

Раскрась фигуру, которую найдёшь, двигаясь по маршруту  $6 \rightarrow 6 \rightarrow 6 \rightarrow 6$ .



5

Допиши цифры 5 и 6 и продолжи закономерность.

