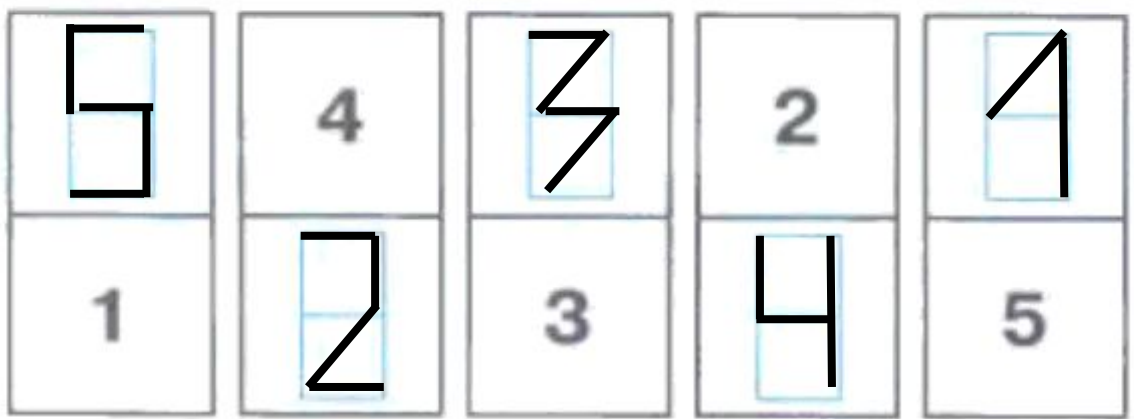
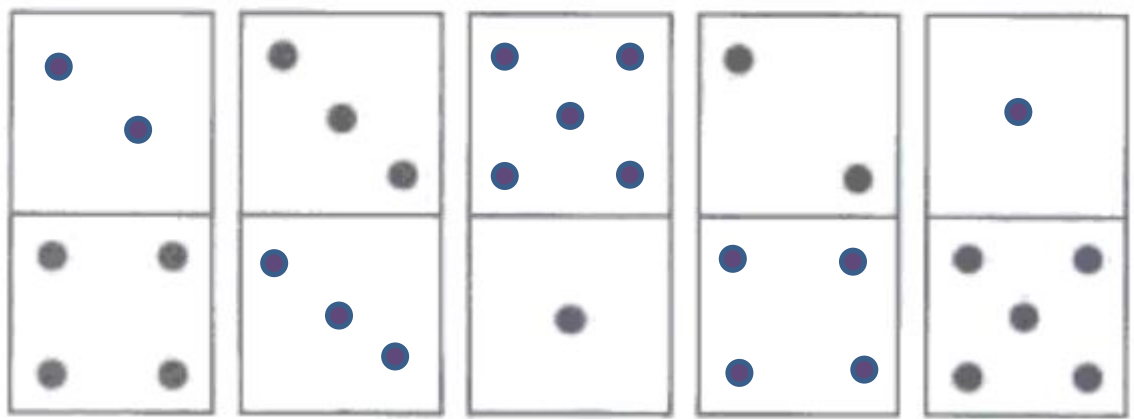


Число и цифра 6

Занятие 30

1 Дополни до шести.



2 Составь и реши задачи.



$$1 + 5 = 6$$






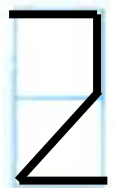
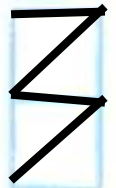





$$6 - 2 = 4$$



$$6 - 3 = 3$$

3 Расшифруй числа.

4 Дopiши равенства.



карандашей



карандашей

6 карандашей

$$\text{circle with pencil} + \text{circle with pencil} = \boxed{\text{6}}$$

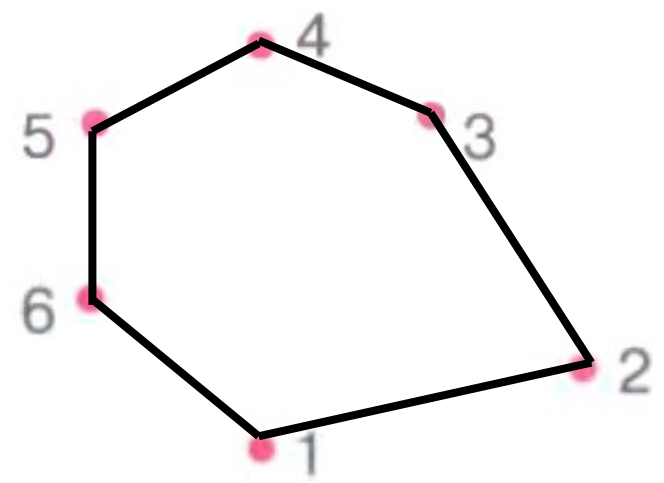
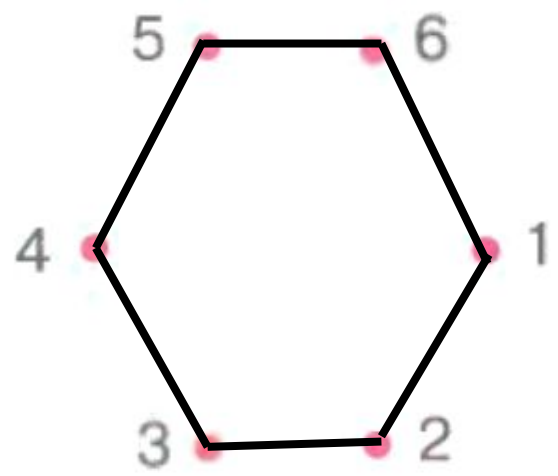
$$6 - \text{circle with pencil} = \text{circle with pencil}$$

$$6 - \text{circle with pencil} = \underline{\text{circle with pencil}}$$

$$\text{circle with pencil} + \text{circle with pencil} = \boxed{\text{6}}$$

5

Соедини числа по порядку. Какие линии получились? Сделай линии замкнутыми. Как можно назвать получившиеся фигуры?



6

Запиши количество углов в каждом многоугольнике. Какая фигура должна быть следующей? Нарисуй её.

