

ЗАКРЕПЛЕНИЕ. РЕШЕНИЕ ЗАДАЧ

2 класс 2 часть

Урок 76 с.15



МОУ Анненская
СОШ

Анискина И.С.

цели

- ▣ Формировать навык решения задач, устного счёта
- ▣ отрабатывать вычислительные навыки
- ▣ Развивать смекалку

Устный счёт

Начинаем мы опять

Решать, отгадывать, смекать!

Почтовый голубь развивает скорость до 90 км/ч, а ласточка- на 25 км/ч меньше. С какой скоростью может летать ласточка?



Длина тела самого большого кальмара из рода архитеутис- 3м, а длина его щупалец- 15м. На сколько метров длина тела меньше длины щупалец?



Составь задачу


- ▣ Привезли – 26 ящиков и 14 ящиков
- ▣ Продали – 31 ящик
- ▣ Осталось - ?



Угадай зверюшку

▣ $14+7$ $80-5$ $72-6$ $27+9$ $100-8$


▣ 75 92 21 66 36




Решение задач

№ 5 с.15


- ▣ Сколько метров было в каждом рулоне?
- ▣ Сколько таких рулонов купил папа?



10



10



10

▣

физкультминутка

Дружно встали. Раз!

Два! Три!

Мы теперь богатыри!

(руки в стороны)

Мы ладонь к глазам

приставим,

Ноги крепкие

расставим.

Поворачиваясь вправо,

(поворот вправо)

Оглядимся величаво,

И налево надо тоже

(поворот влево)

Поглядеть из-под
ладошек.

И направо, и ещё

(поворот вправо)

Через левое плечо

(поворот влево)

Решение примеров

- №1

К каждому примеру сделайте проверку.

- №2

Восстановить пропущенные скобки.

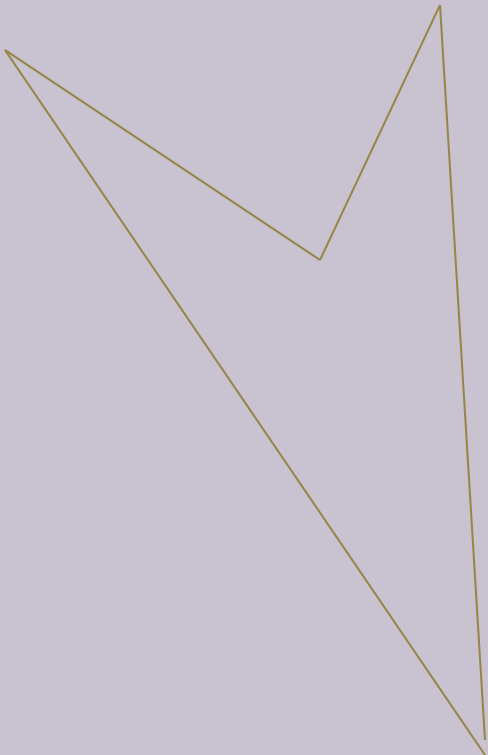


Геометрический материал

- №7 с. 15
- Найти периметр каждой фигуры и вырази его в миллиметрах.
- 1 ряд – первая фигура
- 2 ряд – вторая фигура
- Третья фигура – вместе

Задание на смекалку

- ▣ Сделай такой чертёж:
- ▣ Проведи отрезок так, чтобы получилось два треугольника.



Спасибо за работу!

- ▣ Домашнее задание
- ▣ № 6, 3 с.15

