
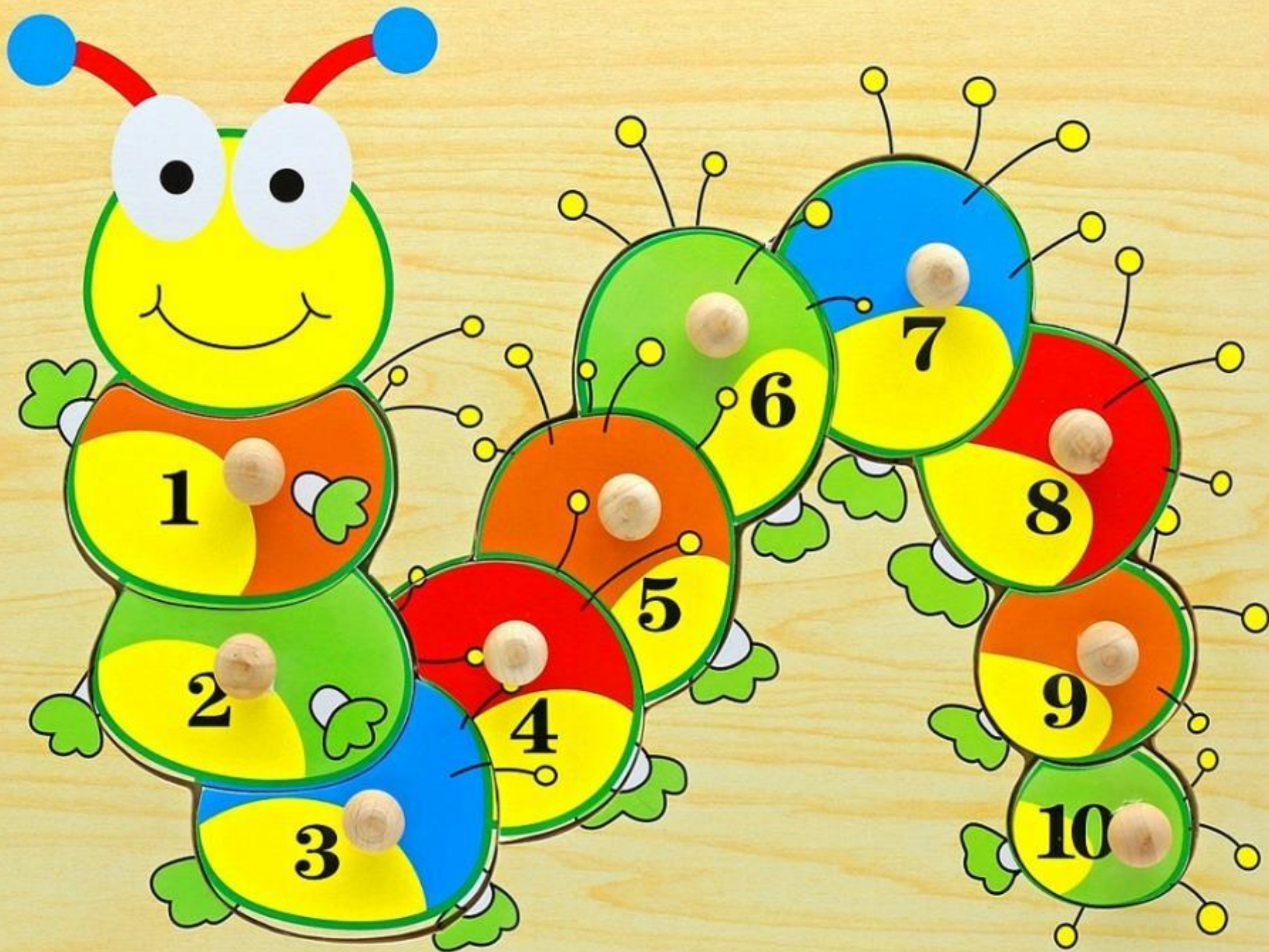


# ***ЗНАКОМИМСЯ С ЗАДАЧЕЙ.***





1

2

3

4

5

6

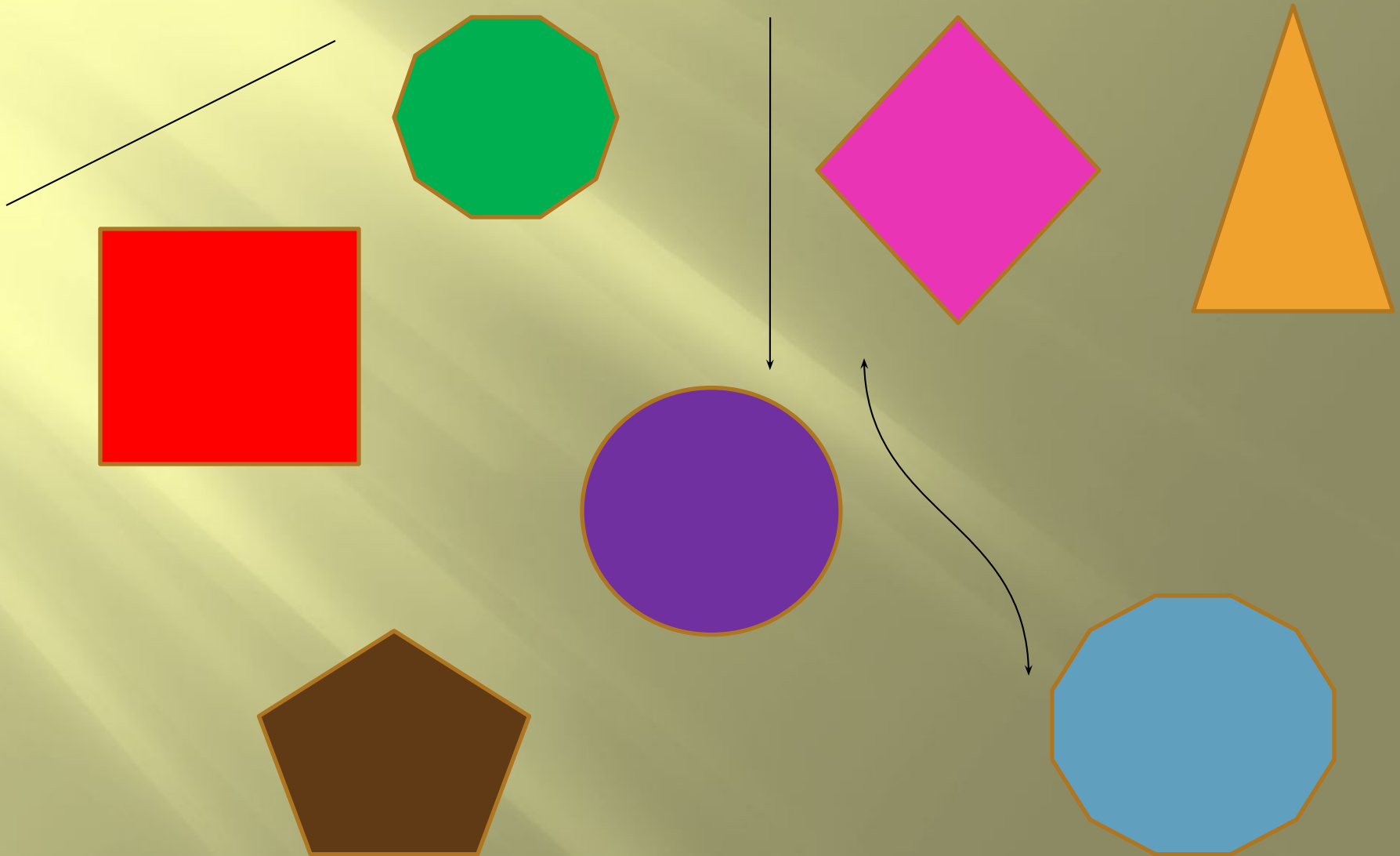
7

8

9

10

# Найдите многоугольники:



# Работа по учебнику № 7



Нина, Аня и Катя взяли по одной фигуре.



Нина выбрала не круг и не треугольник. У Кати не  
треугольник. Какую фигуру взяла каждая девочка?



На пруду плавало 3 гуся.



Прилетело еще 5 гусей.




# Условие задачи.

- На пруду плавало 3 гуся.
- Прилетело еще 5 гусей.



# Сколько стало гусей?





# Вопрос задачи:

- Сколько стало гусей?

# Решение задачи.

□  $3 + 5 = 8$  (г.)

# Ответ:

- 8 гусей стало на пруду.



# Задача:

- Условие
- Вопрос
- Решение
- Ответ

# Работа в тетради № 1

Соедини линией условие и вопрос задачи.

Покрасили 8 игрушечных машинок: 5 в синий цвет, а остальные — в красный.

Сколько машинок выложили из коробки?

Из коробки выложили сначала 6 машинок, а потом ещё 3.

Сколько машинок красного цвета?





# Работа в тетради № 3

В стручке гороха 9 горошин. Стручок раскрылся. Объясни, сколько горошин надо дорисовать. Дорисуй горошины.



$$9 = 4 + \square$$



$$\square = \square + \square$$




$$\square = \square + \square$$



# Работа в тетради № 3

В стручке гороха 9 горошин. Стручок раскрылся. Объясни, сколько горошин надо дорисовать. Дорисуй горошины.



$$9 = 4 + 5$$



$$\square = \square + \square$$




$$\square = \square + \square$$





# Работа в тетради № 3

В стручке гороха 9 горошин. Стручок раскрылся. Объясни, сколько горошин надо дорисовать. Дорисуй горошины.



$$9 = 4 + 5$$




$$9 = 3 + 6$$



$$\square = \square + \square$$

# Работа в тетради № 3


В стручке гороха 9 горошин. Стручок раскрылся. Объясни, сколько горошин надо дорисовать. Дорисуй горошины.



$$9 = 4 + 5$$



$$9 = 3 + 6$$



$$9 = 2 + 7$$

**МОЛОДЦЫ!**