

Мультимедийное пособие по математике 2 класс

Тема: «Знакомство с геометрическими фигурами:
прямой угол, прямоугольник, квадрат»

Составила:
учитель начальных классов
МОУ СОШ № 23
Г. Новороссийск

Ушакова О.В.

Что такое прямой угол?

Что такое прямоугольник?

Что такое квадрат?

Математика 2 класс

Что такое прямой угол?

Составила:

учитель начальных классов


МОУ СОШ № 23

Ушакова Ольга Владимировна




Королевство

Геометрия



Уменьшаемое	90	80	70	60	60	60
Вычитаемое	10	10	10	20	30	40
Разность	80	70	60	40	30	20

Было -



Улетело -



Осталось - ? аист.

$$6 - 3 = 3 \text{ (аист.)} - \text{осталось.}$$

Ответ: 3 аиста.

2 «А» класс побывал в кабинете зубного врача, и ему вырвали 12 молочных зубов. После этого в кабинете зубного врача побывал 2 «Б» класс, и ему вырвали на 4 молочных зуба больше. Сколько молочных зубов оставили оба класса в кабинете зубного врача, если известно, что один второклассник свой вырванный зуб унёс домой?

Г. Остер

Вырвали - 12 зуб. и ?, на 4 зуба больше

Унёс - 1 зуб

Осталось - ? зуб.

1) $12+4=16$ (зуб.)-вырвали 2 «Б»

2) $12+16=28$ (зуб.)-всего вырвали

3) $28-1=27$ (зуб.)-осталось в кабинете врача


Ответ: 27 зубов.



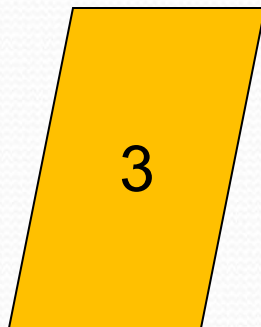

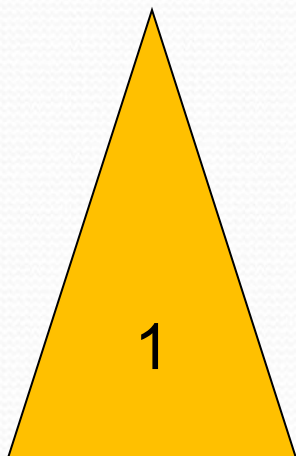




Королевство

Геометрия








Многоугольники

Углы



Прямой угол



Математика 2 класс

Что такое прямоугольник?

Составила:

учитель начальных классов

МОУ СОШ № 23


г. Новороссийска

Ушакова Ольга Владимировна



Королевство

Геометрия



Найдите значения выражений

$54+20=$

$94-30=$

$59-31=$

$79-11=$

$32+23=$

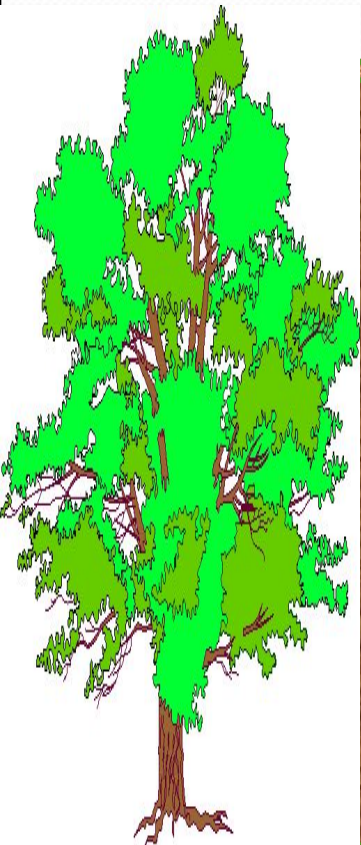


$42+30=$

$87-50=$


$73-22$

$64-12=$

$67+22=$



Несколько белок-летяг обитало у лесного озера. Когда у них родилось 8 бельчат, то на этом участке леса стало жить 12 белок-летяг. Сколько белок жило у озера до рождения малышей?



$12 - 8 = 4$ (бел.) – жило у озера до рождения малышей.

Физминутка

Столько раз в ладоши хлопнем. $3+3$

Столько раз ногою топнем. $7-4$

Мы присядем столько раз. $11-6$

Мы наклонимся сейчас. $12-8$


Мы подпрыгнем ровно столько. $12-10$

Ну и счёт! Игра и только!



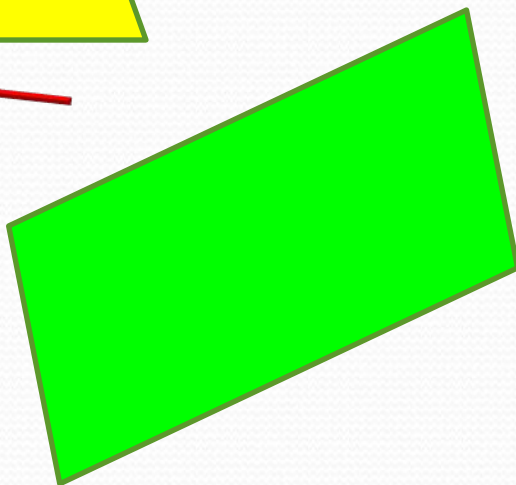
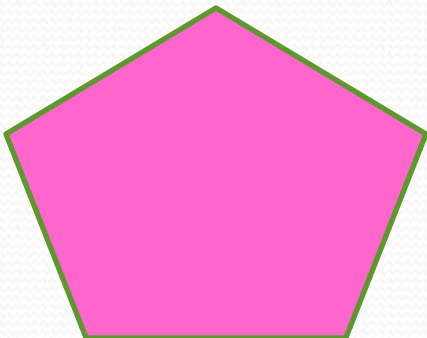

Королевство

Геометрия










Жители «Королевства Геометрия»



Прямоугольник



До новых встреч!



Математика 2 класс

Что такое квадрат?


Составила:

учитель начальных классов

МОУ СОШ № 23


г. Новороссийска

Ушакова Ольга Владимировна



Королевство

Геометрия



Из разных цифр я сделал бусы,
А в тех кружках, где чисел нет,
Поставьте минусы и плюсы,
Чтоб данный получить ответ.

54 + 6 - 11 = 49

72 - 20 + 5 = 57

49 - 9 - 8 = 32

23 + 6 - 13 = 16

Ребусы

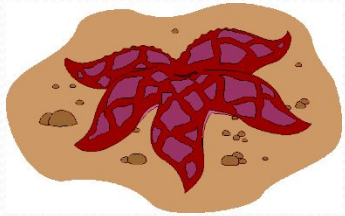
$$\begin{array}{r} + 60 \\ 25 \\ \hline 85 \end{array}$$

$$\begin{array}{r} - 84 \\ 36 \\ \hline 48 \end{array}$$


$$\begin{array}{r} + 66 \\ 23 \\ \hline 89 \end{array}$$

$$\begin{array}{r} - 84 \\ 20 \\ \hline 64 \end{array}$$


В морском аквариуме живёт 7 морских звёзд, 13 морских коньков, а рыбок-клоунов столько, сколько звёзд и коньков вместе. Сколько рыбок-клоунов живёт в аквариуме?



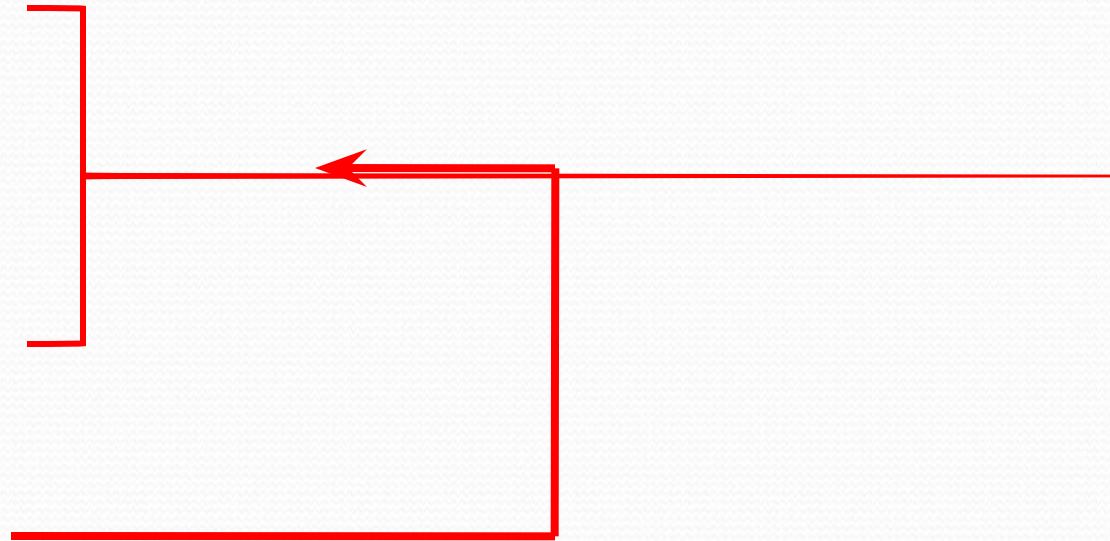
- 7 штук



- 13 штук



- ? штук




$7+13=20$ (шт.) – рыбок-клоунов живёт в аквариуме.





Королевство

Геометрия



Найдите квадрат



Помни!

В квадрате в нашем мире
Есть прямых угла четыре.
И четыре стороны-
Одинаковой длины.



До новых встреч!

