

* Назови фигуру



квадрат



круг



прямоугольник



пятиугольник



треугольник



овал

2. Подумай – ка!



Пассажир такси ехал в село. По дороге он встретил 5 грузовых и 3 легковых машины. Сколько всего машин шло в село?



Ответ:

- одна машина – такси



1. Загадка от мудрой черепашки





Вставьте пропущенную букву и пропущенное число

1	В	5	?
А	3	Д	?

Ответ:



1	В	5	Ё
А	3	Д	7



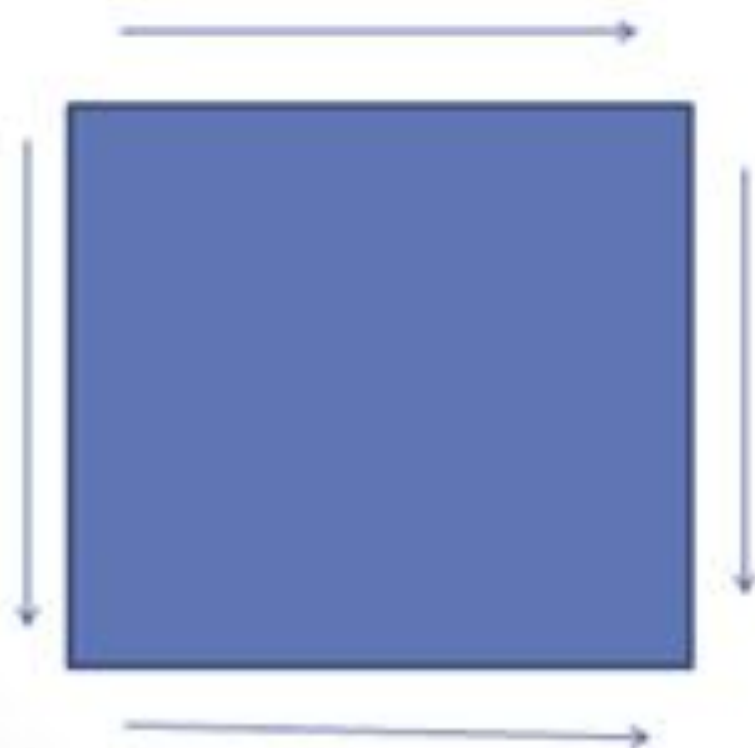
У многоугольника много углов и
сторон.

пятиугольник
шестиугольник
семиугольник
восьмиугольник

У прямоугольника
противоположные стороны
равны



У квадрата все
стороны равны.



Сколько у треугольника углов?
А сторон?






НАЗОВИ ФИГУРЫ

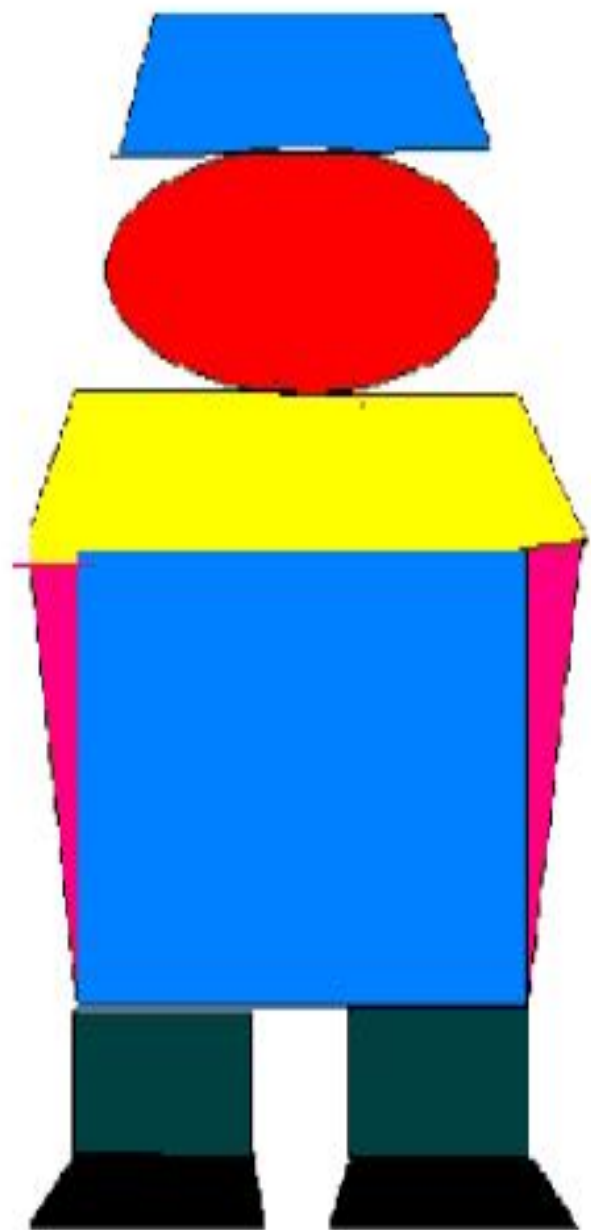


4. Посмотрите на этот рисунок и найдите две одинаковые фигуры. Чем они отличаются?





“Составь робота”.



- * - Мне сегодня было интересно?
- * - Что я повторил?
- * - Что узнал нового?
- * - Как я сегодня работал?
- * - Я сегодня молодец?

*** Подумай и ответь.**