


Урок математики
УМК «Гармония»

2 класс, ноябрь, 2010 г.



3 ноября.
Классная работа.

4 11 4 11 4 11 4 11



$17 - 10 = 7$ **р**

$14 - 1 = 13$ **г**

$7 + 5 = 12$ **м**

$16 - 10 = 6$ **е**



$18 + 1 = 19$ **а**

$15 - 5 = 10$ **т**

$9 + 9 = 18$ **л**

10 6 18 6 13 7 19 12 12 19

Т Е Л Е Г Р А М М А

Телеграмма

ПОМОГИТЕ УЗНАТЬ ЧТО ТАКОЕ
ЗАДАЧА

Миша Маша




Тема урока «Задача: содержание понятия, структура».

Цель урока:

- знакомство с задачей и её структурой.

Задачи:


- закрепить знания по нумерации чисел в пределах 20 и умение пользоваться линейкой



Найдите задачу.

- У Пети 5 машинок, а у Васи 6 машинок.

- У Пети 5 машинок, а у Васи 6 машинок.
Сколько всего машин у мальчиков?



ЗАДАЧА

УСЛОВИЕ

ВОПРОС

РЕШЕНИЕ

ОТВЕТ



На полке было



Поставили ещё



Сколько кукол стало на полке?

РАСТВЕРЖИТЕ

На полке стояло 5 кукол.

Поставили ещё 3 куклы.

Сколько кукол стало на полке?

$$5 + 3 = 8 \text{ (к)}$$

Ответ: 8 кукол.



Страница 49 - 50



Проверим знания + / -





М О Л О Д Ц Ы !

Итог урока

- Что нового узнали на уроке?
- Что повторяли?
- Каково ваше настроение?

