

Экспресс-контроль к урокам 4 и 5 «Культура Месопотамии и Древнего Египта»

разработаны по учебнику Л.Г. Емохоновой
«Мировая художественная культура» для
учащихся 10 класса, изучающих предмет
на профильном и базовом уровне




Из предложенных вариантов ответа,
выберите верный и отметьте в карточке
/возможно несколько вариантов ответа/

Карточка №

1

Пример:


	А	Б	В	Г	Д
1	<input type="checkbox"/>				
2		<input type="checkbox"/>	<input type="checkbox"/>	<input type="checkbox"/>	<input type="checkbox"/>
3			<input type="checkbox"/>		
4		<input type="checkbox"/>	<input type="checkbox"/>		
5					



**По легенде женой и сестрой
Осириса была**

1

- а) Нут**
- б) Исида**
- в) Нефтида**
- г) Немезида**
- д) Мокошь**



Перед вами

- а) Осирис
- б) Сет
- в) Гор
- г) Ра
- д) Анубис



2

**Сфинкс –
это**

3

- а) небольшая ступенчатая пирамида**
- б) скульптура с телом льва и головой человека (или барана)**
- в) специальное помещение для статуи умершего**
- г) скальная гробница**
- д) Мумия**

Среди представленных изображений отметьте **египетскую** архитектуру

4

а



б

в




г

Мумификация - это

5

- а) Сохранение тела умерших
- б) Вера в родство с животными
- в) Захоронение
- г) Магический обряд
- д) Изготовление погребальных одежд




Из предложенных вариантов ответа,
выберите верный и отметьте в карточке
/возможно несколько вариантов ответа/

Карточка №

2

Пример:


	А	Б	В	Г	Д
1				<input type="checkbox"/>	
2		<input type="checkbox"/>	<input type="checkbox"/>		
3					<input type="checkbox"/>
4	<input type="checkbox"/>				
5					



Суд в загробном мире древних египтян вершил


1

- а) Анубис
- б) Осирис
- в) Тот
- г) Аид
- д) Сет



Среди представленных изображений
отметьте **египетскую** скульптуру


2



а



б



в




г

В основе религиозных верований египтян лежит

3

- а) Культ солнца**
- б) Культ воды**
- в) Культ огня**
- г) Культ мертвых**
- д) Культ земли**





Зиккурат - это

4

- а) Гробница месопотамских правителей**
- б) Многоступенчатый храм**
- в) Большая египетская скульптура**
- г) Обелиск**
- д) Мавзолей**




[Увеличить](#)

Канон - это

5

- а) Музыкальное произведение**
- б) Закон**
- в) Стихотворение**
- г) Мораль**
- д)) Правило изображения, исполнения
чего-либо**




Из предложенных вариантов ответа,
выберите верный и отметьте в карточке
/возможно несколько вариантов ответа/

Карточка №

3

Пример:


	А	Б	В	Г	Д	
1	<input type="checkbox"/>					
2		<input type="checkbox"/>	<input type="checkbox"/>	<input type="checkbox"/>	<input type="checkbox"/>	
3			<input type="checkbox"/>			
4					<input type="checkbox"/>	<input type="checkbox"/>
5	<input type="checkbox"/>	<input type="checkbox"/>				



Зиккурат внешне похож на

1

- а) Пирамиду Хеопса**
- б) Пирамиду Джосера**
- в) Пирамиду Хефрена**
- г) Пирамиду Снофру**



Перед вами реконструкция

2


- а) Ворота Иштар
- б) Ворота Этеменанки
- в) Дороги процессий



**Главный вавилонский бог –
«Владыка ветер», царь
богов и людей- это**

3


- а) Энлиль**
- б) Энки**
- в) Инанна**
- г) Мардук**



Рельеф - это

4


- а) Вид живописи
- б) Вид архитектурного сооружения
- в) Выпуклое или вогнутое скульптурное изображение на плоскости
- г) Статуя
- д) Географическое понятие, связанное с неровностью поверхности почвы



Среди представленных изображений отметьте рельефы Месопотамии

5

а



б



в



г





Источники материалов:

- Емохонова Л.Г. Мировая художественная культура : учебник для 10 класса : среднее (полное) общее образование (базовый уровень) / Л.Г. Емохонова. – 5-е изд., перераб. и доп. – М. : Издательский центр «Академия», 2007
- CD-приложение к данному учебнику, содержащее иллюстрации к урокам