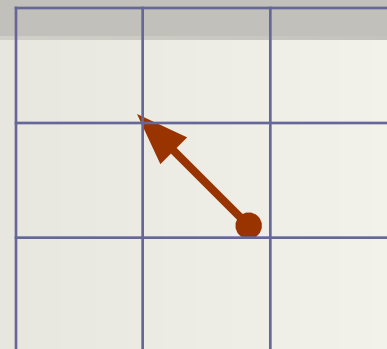
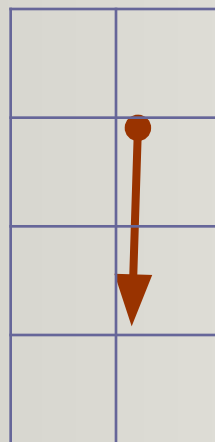


Внимание!

Выбрав правильный ответ, сделайте ход в соответствии с указаниями. Например, один шаг по диагонали влево вверх:



Или, два шага вниз:



Победитель должен первым нарисовать правильный маршрут. Желаем удачи!



1. Назовите сооружение, где были установлены «Львиные ворота».



Крепость в Тиринфе

(два шага влево)

Дворец в Кноссе

(три шага вправо)


Дворец-крепость в Микенах

(один шаг по диагонали вправо вверх)


**2. В архитектуре античности применялась
ордерная система. Какой из
представленных ордеров называется
дорическим?**



(один шаг по
диагонали
влево вверх)



(четыре шага
вверх)



(два шага
вниз)

3. Какой ордер применен в декоре здания научной библиотеки ЮФУ в Ростове-на-Дону?



Дорический

(два шага влево)

Ионический

(четыре шага вверх)

Коринфский

(два шага
по диагонали вправо
вниз)

4. Назовите период культуры Древней Греции, когда возникла ордерная система в архитектуре, появилась лирика и Олимпийские игры.



архаический

(один шаг по диагонали вправо
вверх)

классический

(четыре шага вверх)

эллинистический

(три шага вправо)

5. Главный храм на афинском акрополе:



Парфенон

(два шага вверх)


Храм Артемиды

(четыре шага вверх)

Пантеон


(один шаг вниз)

6. Герой поэмы Гомера «Илиада»:



Ромул

(три шага
вправо)



Агамемнон

(один шаг по
диагонали
влево вверх)



Спартак

(один шаг по
диагонали вправо
вверх)

7. Одна из известнейших скульптур Древней Греции:



Дорифор

(три шага вправо)



Август

(два шага влево)



Марк Аврелий

(два шага вниз)

8. Кто является автором скульптуры «Дискобол»?



Фидий

(три шага вправо)

Мирон

(один шаг по диагонали влево вниз)

Поликлет

(четыре шага вверх)

9. Один из 12 подвигов Геракла:



Победа над Минотавром

(три шага вправо)

Чистка Авгиевых конюшен

(два шага вниз)

Освобождение Андромеды

(один шаг по диагонали
вправо вверх)

10. Кому из древнеримских поэтов посвящено стихотворение «Памятник» А. С.Пушкина ?



Вергилий

(три шага влево)



Овидий

(четыре шага
вниз)



Гораций

(один шаг по диагонали
вправо вниз)

11. Какая из трех поэм повествует об истоках Римской империи?




«Илиада»
(три шага
вправо)

«Одиссея»
(четыре шага
вверх)

«Энеида»
(четыре шага
вниз)

12. В III веке императором Каракаллой возводится одно из крупнейших сооружений. Назовите это сооружение:



Термы

(один шаг по диагонали влево вниз)

Пантеон

(четыре шага вверх)

Колизей

(три шага влево)

13. В 125 году по приказу императора Адриана возводится храм всех богов – Пантеон. Что представляет собой «око Пантеона»?



Отверстие в купольном перекрытии

(один шаг по диагонали
вправо вниз)

Проем в стене

(три шага вправо)

Вход в здание

(два шага вниз)


14. К какому архитектурному памятнику можно отнести эти строчки: «Примером художественного применения арочно-сводчатых конструкций в архитектурном сооружении огромного масштаба является....»?



Пантеон



Триумфальная арка



Колизей

(два шага вниз)

(четыре шага вверх)

(три шага влево)

**Сдайте свои путевые листы для
проверки**



***Если вы правильно
ответили на все
вопросы, на ваших
рисунках:***

***Поздравляем
победителей!***

