

РАЙОННАЯ ИНТЕЛЛЕКТУАЛЬНАЯ

ИНТЕРАКТИВНАЯ ИГРА - ВИКТОРИНА



"ЛЮБИ И ЗНАЙ СВОЙ КРАЙ"

МКОУ ДО УСТЬ-ТАРКСКИЙ ДДТ

педагог - организатор работы музея

Дахова О.М.

2018 Г.



Что?

К 80-ЛЕТИЮ

Где?

УСТЬ-ТАРКСКОГО РАЙОНА

Когда?



БЕРЕЗКА

ОСИНКА

0

0



Сектор 2

В нашем районе есть замечательное озеро, которое в переводе с тюркского, наиболее древнего
языка наших п



Бахтай

Правильны
й ответ



Сектор 8

**Назовите Героев Советского Союза,
уроженцев Усть-Таркского района**



Алексей Григорьевич Иванов

Федор Дмитриевич Костенко

**Правильный
ответ**



Сектор 11

Этот человек, уроженец нашего района,
двукратный
Олимпийский чемпион мира.
Где он родился? Чьё фото в ящике?



Дубровино

Правильный
ответ



Сектор 5

***В каких населенных пунктах нашего района
в годы Великой Отечественной войны
были открыты
детские дома и когда?***

***Угуй – 1943г., Еланка – 1944г.,
Щербаки – 1945г.***


**Правильны
й ответ**



Сектор 6


В Усть-Таркском районе есть памятники героям землякам, погибшим в годы Великой Отечественной войны. Узнай

1



Памятник Герою Советского

2



Памятник Герою Советского Сою

3



Памятник Воинам – зе

4



Памятник Воинам –земл



Сектор 12

Сколько за годы войны тружениками нашими района было отправлено на



Сектор 3

Родился 30 октября 1948 года.

Работал воспитателем в СПТУ – 73.

Окончил Новосибирский сельскохозяйственный институт.

С 1976 по 1994 – директор совхоза «Галинское»

Чей портрет в чёрном ящике?



Николай Николаевич

Ха

Правильны
й ответ



Сектор 9

Разделите слова на две тематические группы по общим признакам. Обоснуйте свой выбо

Амур

Хумми

Уссури

Эворон

Амгунь

Болонь

В Хабаровском крае
Амур, Амгунь, Уссури – *реки*.
Хумми, Эворон, Болонь – *озёра*.

Правильны
й ответ



Сектор 10



**Александр Б
аев солист Саратовского**

Правильны
й ответ



Сектор 4

Здесь изображено шесть из семи чудес Хабаровского края. Узнайте их по картинкам и назовите каждое чудо.



1

Озеро «Амур»



2

**Амурский
тигр**




3

Цветок лотоса



4

**Шантарские
острова**



5

Мост через Амур



6

Петроглифы



Сектор 7

Объедините эти слова в одну
тематическую группу



Ново-
Никольск
НовосилишВе
рхне-Омка К
ушагиКамышево
Поб
едаЕла




Села Усть-Таркского района


Правильны
й ответ



Сектор 1



Щ	Ч	Е	Б	Б	А	Н	О	О	Г
У	К	А	А	О	З	Ё	С	Р	А
А	М	Т	К	Л	А	Т	Р	Б	Л
Т	У	О	Т	О	С	А	Ш	У	Ь
А	Р	Л	С	К	А	К	А	М	У
Й	М	Е	Н	Ь	Р	Е	Т	И	Г
С	О	М	Ь	С	А	Н	А	Л	А



ЗДЕСЬ ЗАШИФРОВАНО ПЯТЬ ВИДОВ РЫБ,
КОТОРЫЕ ВОДЯТСЯ В ВОДОЕМАХ УСТЬ-ТАРКСКОГО РАЙОНА



