

Занимательные задачи

МАТЕМАТИК

А

Хозяйка в корзине несла на базар сто яиц, а дно упало.

Сколько осталось яиц в корзине?

1. На груше росло 50 груш, а на иве — на 12 меньше. Сколько груш росло на иве?



Что тяжелее: килограмм ваты или килограмм железа?





Если курица стоит на одной ноге, она весит 2 кг.

Сколько будет весить курица, если будет стоять на двух ногах?



Вася с Сашей
играли
в шашки
4 часа подряд.
Сколько часов
играл каждый из
них?




4

8




На дереве сидело 2 сороки, 3
воробья и 2 белки. Вдруг два
воробья вспорхнули и улетели.
Сколько птиц осталось на
дереве?

***Сколько концов у двух
с половиной палок?***





Летела стая уток. Охотник выстрелил и убил одну. Сколько уток осталось?



РАЗМИНКА. №1

"Стоит в поле дуб. На дубе три яблока. Ехал добрый молодец и сорвал одно яблоко. Сколько яблок осталось?"



4. У нас очень дружная семья: у семи братьев по одной сестрице. Сколько всего детей?



Два мужика шли из деревни в город, а навстречу им еще три мужика и одна баба. Сколько мужиков шли из деревни в





Бабушка купила на базаре две пары туфель, три яблока и пять груш. Одну пару туфель бабушка подарила своей внучке. Сколько всего фруктов купила бабушка?



А: 3


В: 8

С: 10

Д: 9



- К двум зайчатам в час обеда
Прискакали 3 соседа.
В огороде зайцы сели
И по три морковки съели.
Кто считать ребята, ловок,
Сколько съедено морковок?



**8. Маша с Таней не скучают:
По 3 чашки выпивают.
Забежал к девчонкам Сашка,
Выпил сразу 3 он чашки.
Сколько чашек за столом
Было выпито
втроем?**



**10. В нашем классе пять Наташ,
Два Сережи и пять Саш.
Есть Аленка и Кондрат.
Сколько в классе всех ребят?**



**11. Наконец созрела вишня,
Десять вишенок на ней
Для двоих моих друзей.
Поспеваает мандарин:
Каждому из них — один.
Сколько ж фруктов для ребят
Приготовил
добрый сад?**



**12. Вот под крышей в нашем доме
Поселилось 3 вороны,
2 синицы, 5 галчат.
Просто целый детский сад!
Там живут еще две мыши.
Сколько птиц под нашей крышей?**



**13. В зал мы стулья отнесли
И 3 ножки отломали.
Если стульев было 5,
Надо ножки сосчитать!**



**14. В нашем доме пять ребят,
Любят все они играть.
Сколько надо им сандалий?
Очень трудно сосчитать.**

