

**Хочу  
всё  
знать!**



**Математика - есть  
гимнастика ума ...**



**Человек, не знающий математики, не способен ни к каким другим наукам.**



# РАЗМИНКА

Б) Вспомогательные глаголы  
2) Запишите в столбик по 5 глаголам  
вспомогательные глаголы в 20  
разряде по 10 частям в каждой группе  
на по 10 разрядов в каждой группе  
во 2-ю группу глаголы в 20 разряде  
та же группа глаголы в 20 разряде  
крайняя группа глаголы в 20 разряде  
вьев зацвело 10 разрядов  
несколько

# МОЛОДЦЫ!!!



# I тур

1) Саше и Даше вместе 10 лет. Сколько лет будет им вместе через 10 лет.

Отметь правильный ответ.

- а) 20;
- б) 30;
- в) нельзя определить





## II тур

2) У Светы позавчера был день рождения. Какой это был день недели, если завтра – суббота?  
Отметь правильный ответ.

- а) вторник;
- б) среда;
- в) четверг.

<b>Позавчера</b> – <b>среда</b>	<b>Вчера –</b> <b>четверг</b>	<b>Сегодня –</b> <b>пятница</b>	<b>Завтра –</b> <b>суббота</b>
---------------------------------------	----------------------------------	------------------------------------	-----------------------------------



# III тур




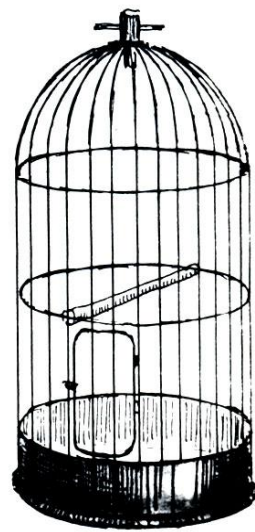
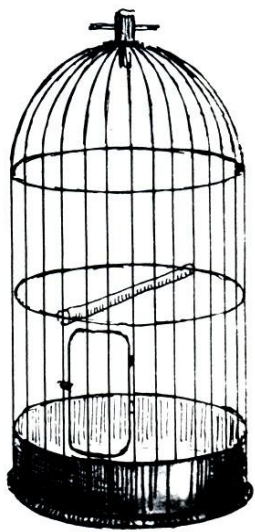
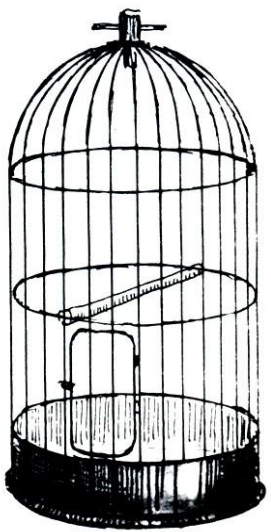
3) В двух корзинах лежало по одинаковому количеству яблок. Из первой корзины переложили во вторую 10 яблок. На сколько больше стало яблок во второй корзине по сравнению с первой?

- а) на 10 яблок;
- б) на 20 яблок;



# IV тур

В зоомагазине 6 клеток: первые три – пустые, а следующие три – с попугаями. Выполнив только одно действие, сделай так, чтобы пустые клетки чередовались с клетками с попугаями.



# V тур

У Оли и Коли было по 10 ягод клубники. Оля съела 6 ягод, а Коля столько, сколько осталось у Оли. Сколько всего ягод съели Оля и Коля?

1)  $10 - 6 = 4$  (ягоды) – осталось у Оли

2)  $10 - 4 = 6$  (ягод) – осталось у Коли

3)  $4 + 6 = 10$  (ягод)

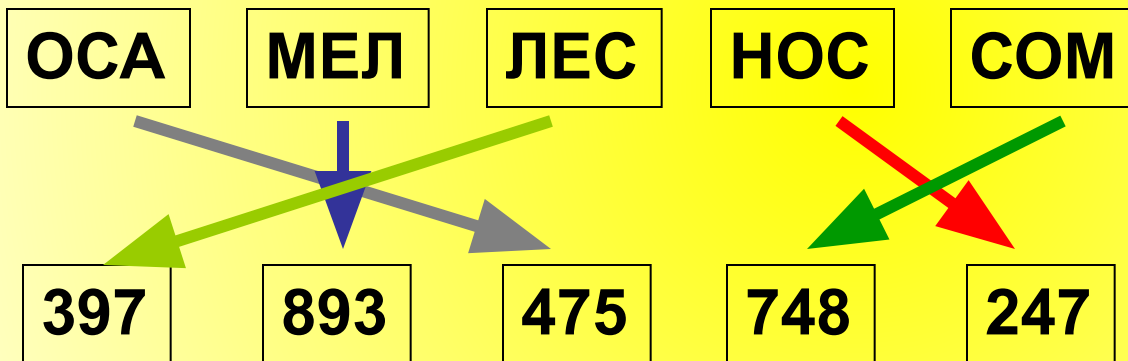
Ответ: 10 ягод съели Оля и Коля.





# VI тур

Коля зашифровал несколько слов. Шифр и слова он написал на карточках. Соедините слово и его шифр.




# VII тур

Три рыбака поймали 30 рыб. Пётр Фомич и Илья Лукич вместе поймали 21 рыбку, а Пётр Фомич и Фёдор Ильич – 18 рыб. По сколько рыб поймал каждый рыбак?

30  
рыб

 Илья Лукич		12 рыб
 Пётр Фомич	21 рыбу	9 рыб
 Фёдор Ильич	18 рыб	9 рыб



1)  $30 - 21 = 9$  (рыб) – поймал Фёд 2)  $30 - 18 = 12$  (рыб) – поймал Илья Луки 3)  $30 - (12 + 9) = 9$  (рыб)

**Величие человека –  
в его способности мыслить.**

**(Б. Паскаль)**



**Счет и вычисления –  
основа порядка в голове.  
(Песталоцци)**



# Источники информации:

## Картинки:

- Знайка –<https://yandex.ru/images/search?text>
- Незнайка -<https://yandex.ru/images/search?text>
- Доска -<https://yandex.ru/images/search?text>

## Анимированные картинки:

- Рыбаки – <http://animashky.ru/index/0-11?311-16>