



Создание дидактической игры "Дом знаний"
на основе шаблона Г.О. Аствацатурова



Автор: Фокина Лидия Петровна,
учитель начальных классов МБОУ «СОШ ст. Евсино»
Искитимского района Новосибирской области
2021



Первый этаж

Добро пожаловать в наш дом!

Второй этаж

Русский язык

Третий этаж

Окружающий мир

Четвёртый этаж

Математика

Пятый этаж

Русский язык

Шестой этаж

Окружающий мир

Седьмой этаж

Математика

Восьмой этаж

Русский язык

Девятый этаж

Окружающий мир

Десятый этаж


Математика


Добро пожаловать в наш дом!

Жильцы каждой квартиры приготовили для вас много вопросов по предметам «Математика», «Русский язык», «Окружающий мир».

По дому мы будем передвигаться на лифте. Нажимая на кнопки в лифте, вы можете попасть на любой этаж.

Желаю вам удачи!





Какая часть речи отсутствует в предложении?

Зимой ребята катаются на лыжах и санках.




глагол

существительное

союз

прилагательное



Укажи главные члены предложения.

За розовыми колоннами
приятно звенели струи фонтана.


фонтана звенели

приятно звенели

струи звенели

за колоннами звенели






Животное, которое развивается так:
яйцо – личинка (гусеница) – куколка – взрослая
особь, относится к группе:

насекомые

земноводные

птицы

рыбы



Вращение Земли вокруг Солнца обуславливает:

смену времени суток

смену погоды

климат

смену времён года






Коля вышел на прогулку в 10 ч 40 мин
и пришёл домой в 12 ч 15 мин.
Вычисли время Колиной прогулки.

2 ч 25 мин

2 ч 35 мин

2 ч 5 мин

1 ч 35 мин



Найди частное чисел 29.526 и 42


703

73

803

7.003





5
ЭТАЖ

Укажи падеж выделенного существительного.

Вот прыгнул под куст испуганный заяц.




В.п.

И.п.

Р.п.

П.п.




Укажи слово с непроизносимой согласной **т**

вкус..ный

радос..ный

прекрас..ный

воскрес..ный





В нашей стране зону лесов к югу сменяет:




степь

пустыня

арктика

тундра



Орган, относящийся к пищеварительной системе:


МОЗГ

лёгкие

желудок

сердце






Укажи верно выполненное сравнение.

$$7 \text{ т } 450 \text{ кг} = 745 \text{ кг}$$

$$7 \text{ дм } 7 \text{ мм} = 707 \text{ мм}$$

$$8 \text{ ц } 5 \text{ кг} > 805 \text{ кг}$$

$$9 \text{ м } 80 \text{ см} < 9.008 \text{ см}$$



Укажи действие, которое нужно выполнять последним в выражении $100 : (25 - 20) + 7 \cdot 15$.


умножение

деление

вычитание

сложение





8
ЭТАЖ

Укажи части речи выделенных слов.

Корабль дал течь, вода стала течь.




существительное, существительное

глагол, существительное

глагол, глагол

существительное, глагол



Какие слова не являются словосочетанием?

По весеннему небу плывут белые облака.

по весеннему небу

плывут по небу

плывут облака

белые облака





9
ЭТАЖ


Самое глубокое озеро России:

Каспийское

Селигер

Балхаш

Байкал



Горючее полезное ископаемое:


гранит

каменный уголь

известняк

мрамор






Периметр прямоугольника 28 см,
длина одной из его сторон равна 11 см.
Найди площадь прямоугольника.

30 см²

33 см²

44 см²

40 см²



Как изменится пятизначное число,
если число единиц в разряде десятков тысяч
уменьшится на одну, а число единиц в разряде
сотен увеличится на одну?

уменьшится на 990

увеличится на 990

увеличится на 9.900

уменьшится на 9.900





Информационные источники

Красная Шапочка

Волк

Кот Леопольд

Мыши

Мальвина

Буратино

Маша

Медведь

Доктор Айболит

Зайчонок

Нерепяха

Логотип СУП <https://easyen.ru/logotip/logo.png>

Львенок

Шаблон игры

Мальчи

<http://didaktor.ru/novogodnij-podarok-ot-didaktora/>

Карлсон

Шарик

Матроскин

Волк

Заяц



Free themes and templates for **Google Slides** or **PowerPoint**

NOT to be sold as is or modified!

Read [FAQ](#) on slidesmania.com

Do not remove the slidesmania.com text on the sides.

Sharing is caring!

