

Если хочешь быть здоров

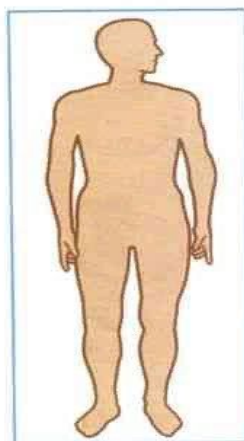


Строение человека

ЗДОРОВЬЕ И БЕЗОПАСНОСТЬ

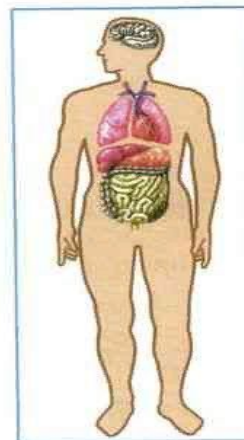
СТРОЕНИЕ ТЕЛА ЧЕЛОВЕКА

1. Рассмотрите рисунки. На каком из них показано внешнее строение тела человека, а на каком — внутреннее? Впишите в таблички. Укажите стрелками внешние части тела и внутренние органы на соответствующих рисунках.



_____ строение

Голова
Головной мозг
Шея
Грудь
Лёгкие
Сердце
Руки
Живот
Печень
Желудок
Кишечник
Ноги

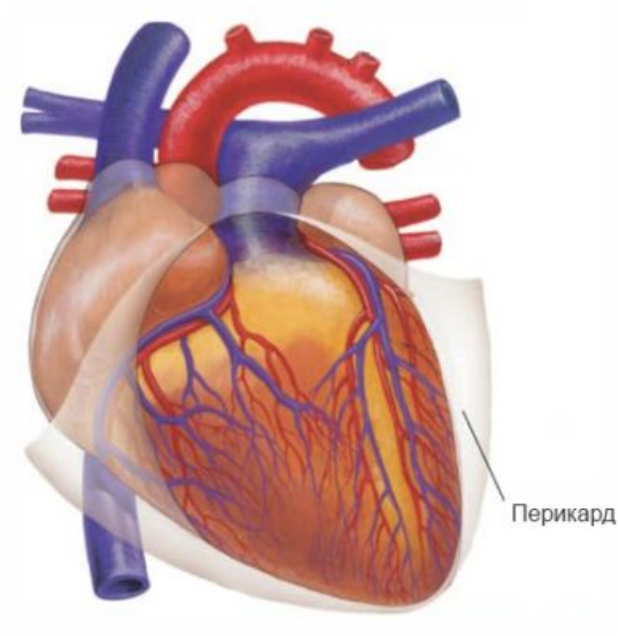


_____ строение

С соседом по парте проведите взаимную проверку работы.

Орган, который управляет всем организмом

1.



2.



3.

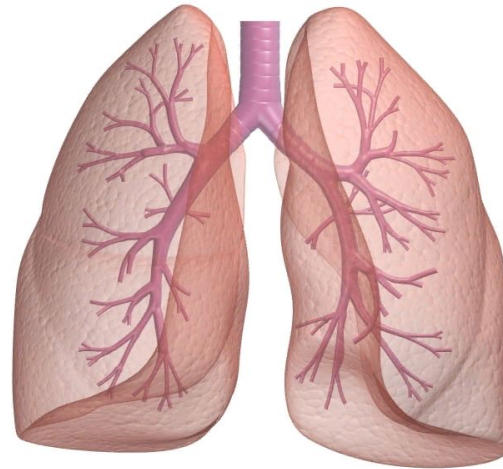


Орган, с помощью которого человек ДЫШИТ.

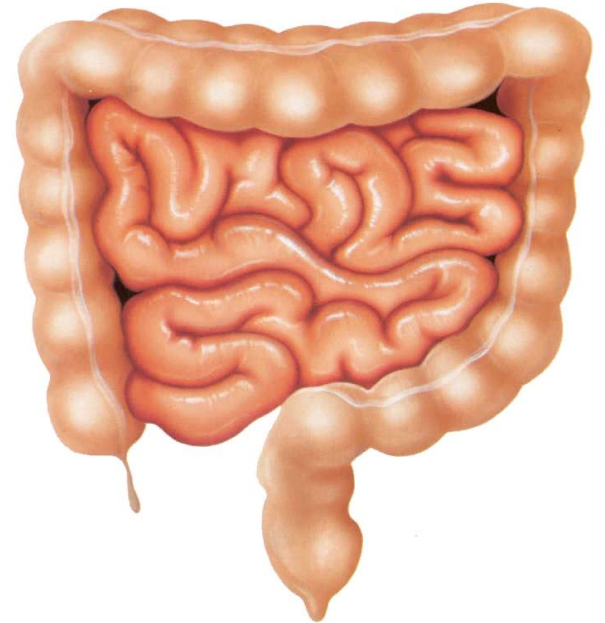
1



2.

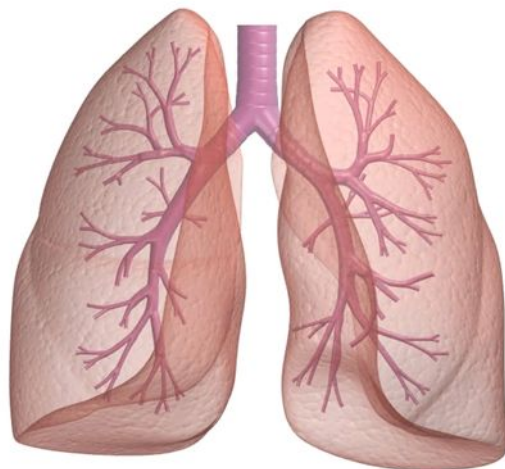


3.

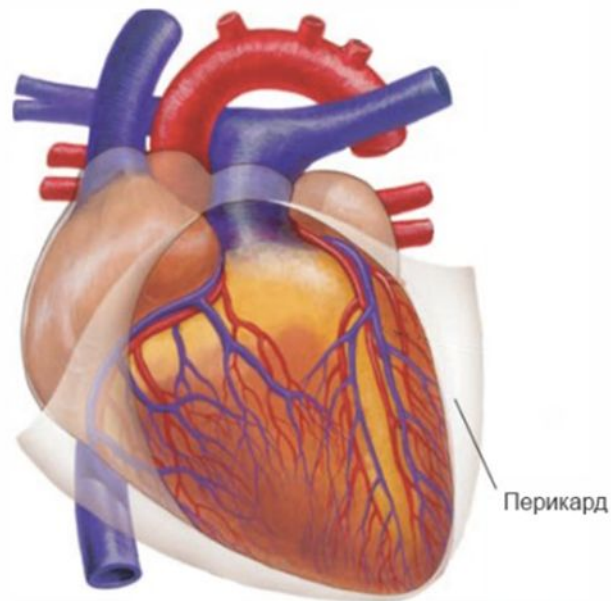


Орган, который гонит кровь по всему телу

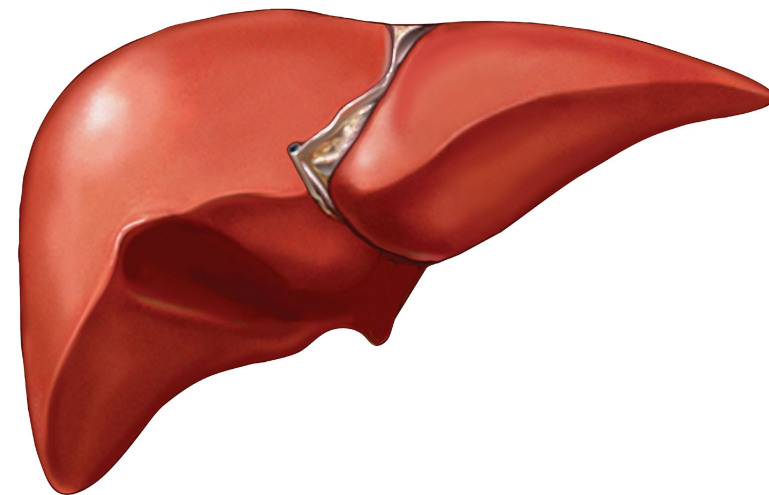
1.



2.



3.

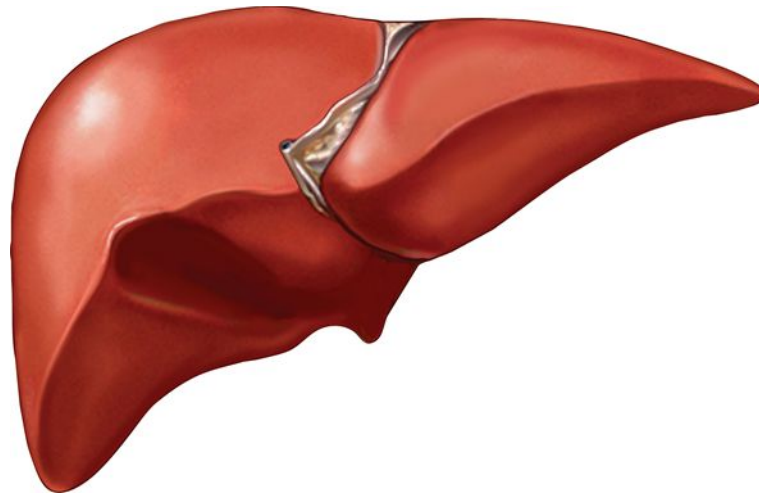


Длинный извилистый орган, по которому перемещается пища.

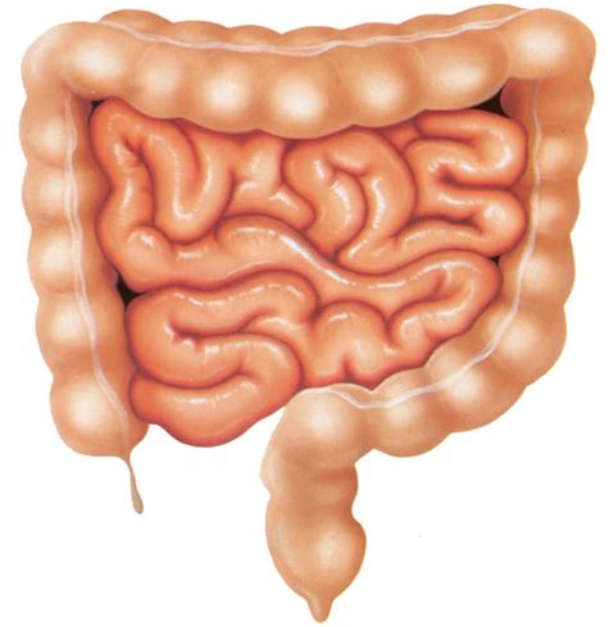
1.



2.

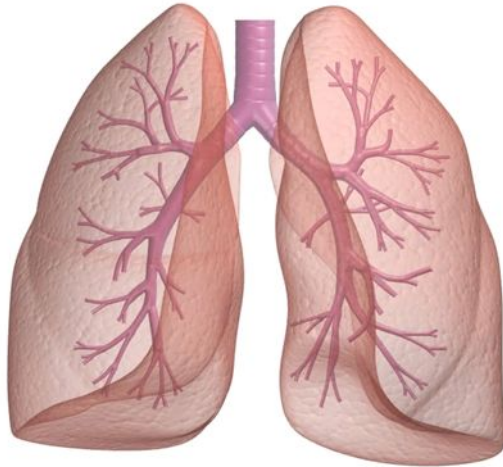


3.

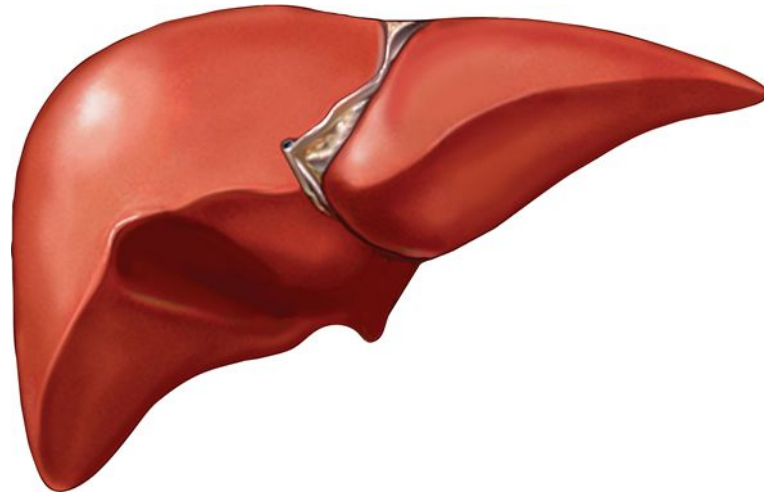


Орган, который помогает переварить пищу

1.



2.



3.





Режим дня школьника



Личная гигиена

Гигиена человека

• 1



2.



3.



Гигиена человека

1.



2.



3.



Какие продукты полезны для зубов?



Правила гигиены

Как поел, почистил зубки!
Делай так два раза в сутки.
Предпочти конфетам фрукты
Очень важные продукты!
К стоматологу идем
В год два раза на прием.
И тогда улыбки свет
Сохранишь ты много лет!





А. А. Плешаков

Окружающий МИР

Рабочая
тетрадь

Blank lined area for writing, consisting of a white rounded rectangle with four horizontal lines.

2

Часть
2