




Shibu Iijack



**Три храбрых таракана  
Отправились в поход:  
Моря и океаны  
Переходили в брод,  
Ползли через обвалы,  
Сквозь тундру и снега,  
Туда, где не ступала  
Еще ничья нога.**



Три путешественника шли  
К неведомому берегу.  
И на рассвете вдруг  
нашли...  
Ура! Нашли Америку!

Великое событие -  
Америку открытие! -  
Подпрыгнули приятели:  
- Мы - первооткрыватели!

Один сказал: - Нарочно  
Нам врут учителя.  
Теперь я знаю точно:  
КВАДРАТНАЯ - земля!



Другой кивнул: - Как тумба!..  
Воскликнул третий: - Да!  
А ихнего Колумба  
Не видно и следа...

Тут в класс ученики вошли.  
Загрохотали парты...

И покорители Земли  
Удрали мигом с карты.  
(А. Усачев)



# Географическое положение Северной Америки.

## История открытия и исследования материка.



Плывем к неведомому берегу  
Хотим увидеть целый свет  
Какое небо над Америкой?  
Когда наступит там рассвет?  
Как это здорово и правильно  
Что среди множества наук  
Мы изучаем географию  
Чтоб стал понятен мир вокруг



Иллюстрированная Классика

# ВОКРУГ СВЕТА ЗА 80 ДНЕЙ

Жюль Верн



[www.street-tm.ucoz.ru](http://www.street-tm.ucoz.ru)

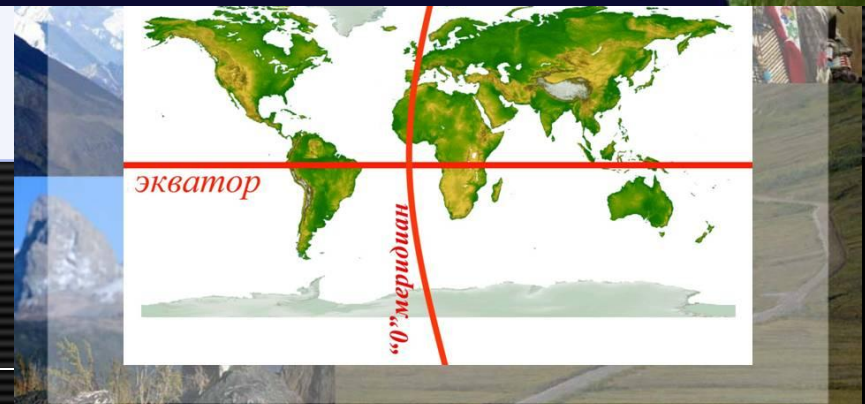
ДАНИЕЛЬ  
ДЕФО

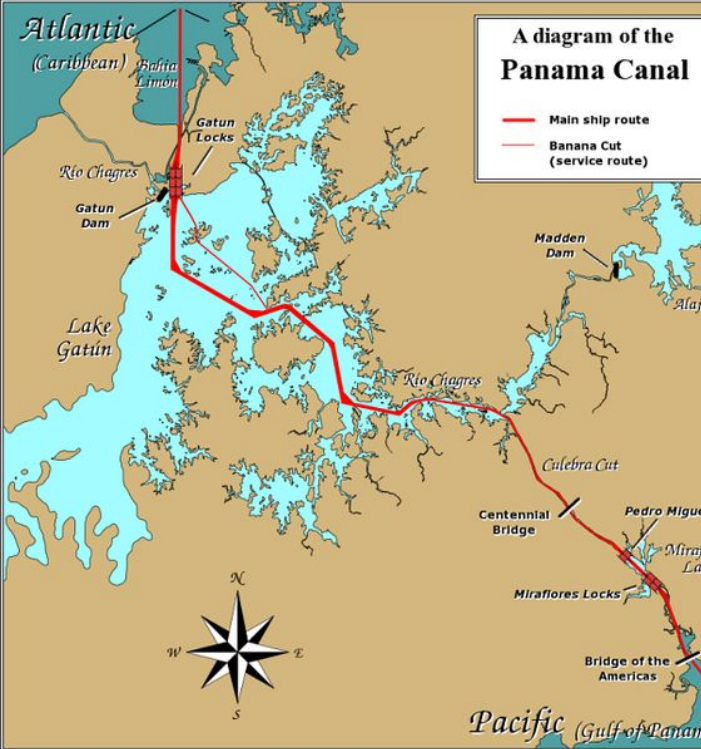
↓  
Робинзон Крузо



✦ ЗАРУБЕЖНАЯ КЛАССИКА ✦

Материки	Площадь	
	млн. км <sup>2</sup>	% от площади суши
Евразия	54,6	36,7
Африка	30,3	20,4
Северная Америка	24,3	16,3
Южная Америка	17,8	12,0
Антарктида	14,1	9,5
Австралия	7,7	5,1





Строительство Панамского канала в 1888 году



Строительство Панамского канала в 1911 году





# Крайние точки Северной Америки



**Задание 4.** Отметить на физической карте Северной Америки (у доски) изучаемые объекты и поставить фишку в место их нахождения.



Задание № 5. Прочитайте тест учебника на стр.207 и  
заполните систематизирующую таблицу.



Год географических событий	Открыватели	Географические объекты

Э.Кортес



Джон Кабот



Г.Гудзон



## Задание № 5. Прочитайте тест учебника на стр.207 и заполните систематизирующую таблицу.

Год географических событий	Открыватели	Географические объекты
1519 г.	Э.Кортес	Завоевание государства ацтеков (где находится современная Мексика)
15 век	Джон Кабот	Открыл остров Ньюфаундлен и побережье полуострова Лабрадор
17-18 век	Г.Гудзон, А.Макензи	Северные и восточные части материка
В нач.20 века	Руаль Амундсен	Плавание вдоль северного побережья.
1741 г.	Витус Беринг, Алексей Чириков	Морской путь от Алеутских островов до п-ва Аляска.
19 век.	Григорий Шелехов	Создал первые поселения в Америке.



Задание № 6. Найдите на карте Северной Америки географические объекты названные в честь мореплавателей и путешественников.

Джорж Ванкувер – остров Ванкувер

Гудзон Генри (известный английский исследователь путешественник полярных территорий – Гудзон и пролив


Барроу Джон (1764-1848, английский географ) – мыс Барроу

Баффин Уильям (английский исследователь)- о. Баффинова Земля

Беринг Витус Ионанссен (1681-1741, офицер русского флота, по национальности датчанин)- Берингов пролив

Чириков Алексей Ильич (1703-1748, русский мореплаватель капитан- командор)- о. Чирикова


Шелехов Григорий Иванович (1747-1795, русский купец- предприниматель)- пролив Шелехова



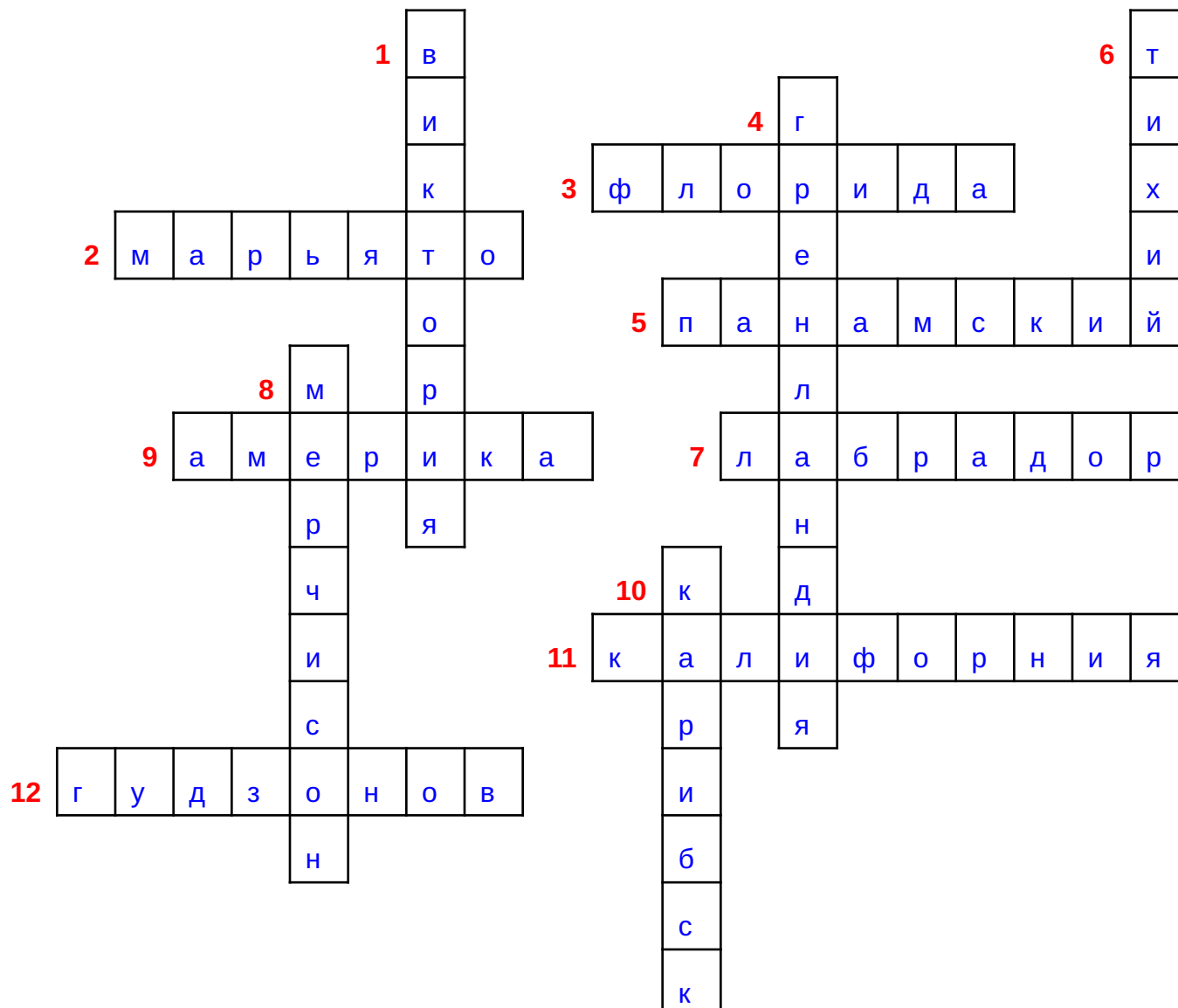
Г.И. Шелехов — «Колумб Российский»



# Задание №7. Кроссворд



# Задание №7. Кроссворд (проверка)



## **Задание №8. Тестирование по теме «Географическое положение Северной Америки. Из истории открытия и исследования материка.**

### **1. Выберите верные утверждения.**

1. Северная Америка омывается Северным ледовитым океаном на севере.
2. Северная Америка омывается водами Атлантического океана на востоке.
3. Северная Америка омывается водами Атлантического океана на западе.
4. Северная Америка омывается водами Тихого океана на западе.

### **2. Верно ли, что крайней северной точкой Северной Америки является мыс Марьято?**

1. Да
2. Нет.

### **3. Верно ли, что крайней точкой на западе Северной Америки является мыс Принца Уэльского?**

1. Да
2. Нет

### **4. Верно ли, что русские мореплаватели и предприниматели внесли огромный вклад в исследование и освоение Северной Америки?**

1. Да
2. Нет

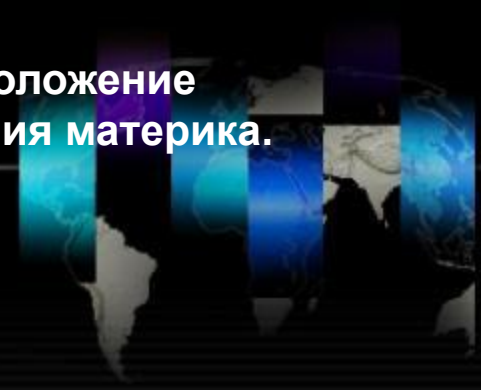
### **5. Верно ли, что разнообразие природы Северной Америки объясняется ее большой протяженностью с севера на юг?**

1. Да
2. Нет





Задание №8. Тестирование по теме «Географическое положение Северной Америки. Из истории открытия и исследования материка.



Ответы:

1. 1,2,4
2. 2
3. 1
4. 1
5. 1



# Домашнее задание:

---



1. §51 (прочитать ,ответить на вопросы стр.208)





Я знала, всё у нас получится,  
Америку мы с вами будем знать.  
А вам, ребята, знаю точно,  
В журнал поставлю «хорошо» и «пять».

И в заключение хочу сказать,  
Что лучше географии предмета не сыскать.  
Мир географии огромен,  
Стремитесь вы его познать.

