



МАТЕМАТИЧЕСКАЯ ГОНКА



ПОДГОТОВКА К ГОНКА

1 команда



2 команда



08.04.2018

2

КОНКУРС КАПИТАНОС



ГОНКИ-ЛАБИРИНТ

1 команда

1. Решите уравнения:

1) $-8,15x = 3,26$; 2) $\frac{2}{15} + x = -4$; 3) $-41 - x = 13,4$.

2 команда

1. Решите уравнения:

1) $7,5 - y = 11\frac{1}{3}$; 2) $6\frac{19}{20} + x = 1\frac{3}{5}$; 3) $-2,2b = 1,54$.



08.04.2018



ЭТАП С ПРЕПЯТСТВИЯ

1

2

3

4

5

6





””



3 = Л



08.04.2018





4 = T

,



,



08.04.2018





08.04.2018





1 = P



08.04.2018







“



”

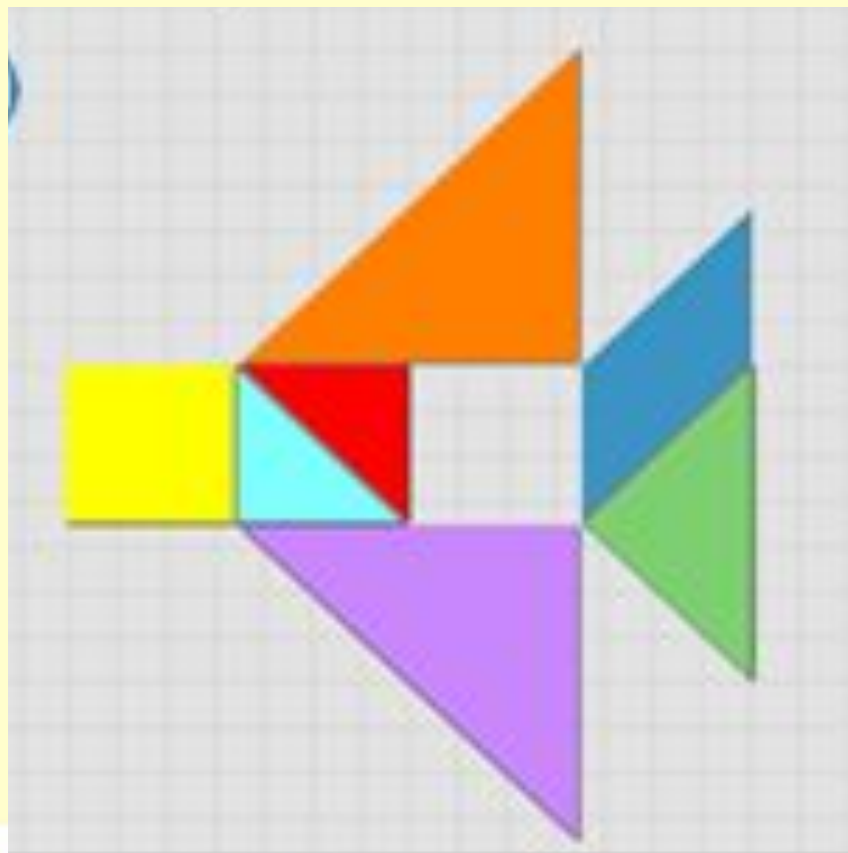
”





КОНКУРС МЕХАНИКО

СОБРАТЬ ФИГУРУ, ИСПОЛЬЗУЯ ВСЕ
ЧАСТИ ТАНГРАМА



08.04.2018



12

ПРОДОЛЖЕНИЕ ГОНИ

1 команда

2. Выполните действия:

4) $48 - 13,9 + 14,1 - 50,3;$

5) $-54,4 : (-4) + 8,7 \cdot (-2,5);$

6) $-2,1 \cdot (-1\frac{2}{3});$

7) $3,5 - 4;$

2 команда

2. Выполните действия:

4) $56 : (-100) + 0,39;$

5) $1\frac{1}{6} \cdot (-\frac{3}{7}) + 1,3 : (-2\frac{3}{5});$

6) $-0,17 \cdot \frac{5}{17} - (-7);$

7) $-3\frac{5}{6} - (-5);$



ФИНИШ

КТО БОЛЬШЕ СОСТАВИТ СЛОВ
ИЗ СЛОВА

МАТЕМАТИК



СПАСИБО Э
ВНИМАНИЕ



08.04.2018