

Раскраска «Устный счёт в пределах 100»

Математика
3 класс УМК любой

Автор презентации:
Чолак Елена Геннадьевна,
учитель начальных классов
МКОУ Газ – Салинская средняя общеобразовательная школа



Ребята!

**Я очень люблю рисовать.
Давайте посчитаем вместе и
раскрасим мой рисунок.**



Старт

На сколько 35 больше, чем 5?




30

40

7

Во сколько раз 35 больше, чем 5?



59

71

7

Найдите разность, если
уменьшаемое 35, а вычитаемое 6.



19

29

41

На сколько уменьшили 31,
если получили 4?




35

27

17

Увеличьте 32 на 29.



61

3

51

Какое число увеличили на 9,
если получили 50?



31

41

59

Какое число надо прибавить к 18,
чтобы получить 38?



20

56

66

Произведение каких двух чисел
равно 21?



20 и 1

7 и 4

7 и 3

Уменьшите 24 в 6 раз.




18

4

30

Уменьшите 24 на 6.



4

18

30

Из 38 вычесть наибольшее
однозначное число.



28

29

47

Во сколько раз 32 больше, чем 8?



40

24

4

Делимое 42, делитель 7. Чему
равно частное?



49

6

35

Найди сумму двух одинаковых слагаемых, одно из которых 16.



16

32

0

На сколько 85 больше 15 ?



70

100

5

Какое число надо увеличить на 10, чтобы получить 100 ?



10

90

80

Найди сумму двух одинаковых слагаемых, одно из которых 29.



29

0

58

Уменьшаемое 46, вычитаемое 24.
Найди разность



70

30

22



Молодцы!
Спасибо, ребята!



Используемые источники:

Рудницкая В.Н. Математика в начальной школе: устные вычисления: методическое пособие./В.Н.Рудницкая, Т.В. Юдачева.-М.:Вентана –Граф, 2009.

Кот Леопольд

<http://www.pics-zone.ru/img.php?url=http://funforkids.ru/pictures/leopold/leopold12.gif>

Фон http://pedsovet.su/_ld/396/25855617.jpg

ТМ

["Технологические приемы создания дидактических игр"](#)

Раскраска http://domraskrasok.ru/wp-content/uploads/2016/04/tom_jer

