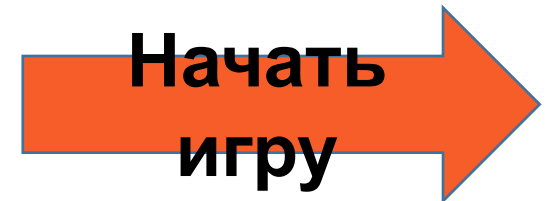


Дидактическая игра «Три попытки» по теме «Страны Азии»

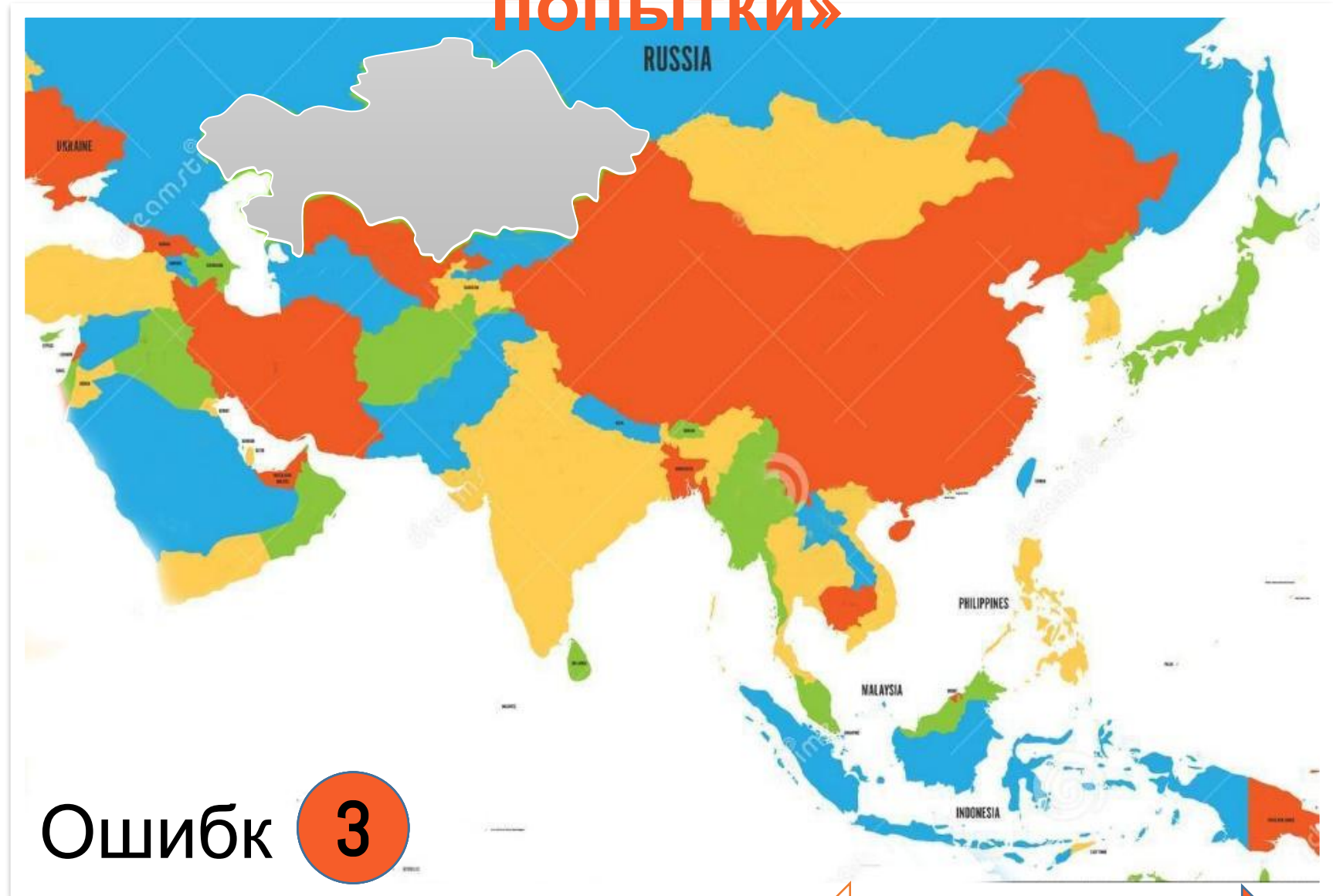
Правила игры

1. Перейдите к заданию по кнопке «Начать игру».
2. Прочитайте задание и выберите ответ, кликнув ее по ее контуру на карте.
3. В случае правильного ответа- контур государства окрасится в серый цвет.
4. В случае неверного ответа- появится текст «Ошибка 1». Всего можно допустить при ответе на вопрос 3 ошибки.
5. Если Вы не знаете верный ответ, то его можно посмотреть, нажав кнопку «Показать ответ».
6. Переход к следующему вопросу происходит по кнопке «далее».



Дидактическая игра «Три

ПОПЫТКИ»



Ошибк

3

а

Задание: определите страну Азии по ее описанию, кликнув по ее контуру на карте.

Самая большая по площади страна Центральной Азии. Самая протяженная граница с Россией. Имеет разнообразные природные ресурсы. Многонациональный состав населения. В 50-х годах здесь были распаханы огромные площади целины.

Показать ответ

← назад

далее →

Дидактическая игра «Три

ПОПЫТКИ»



Ошибк **3**

а

Задание: определите страну Азии по ее описанию, кликнув по ее контуру на карте.

Южная страна Центральной Азии. Большая часть занята пустыней Каракумы. В заливе Каспийского моря Кара-Богаз-Гол ведется добыча глауберовой соли. Также в стране добывают газ и нефть.

Показать ответ

← назад

далее →

Дидактическая игра «Три

ПОПЫТКИ»



Ошибк **3**

а

Задание: определите страну Азии по ее описанию, кликнув по ее контуру на карте.

Большую часть страны занимают горы, здесь часты землетрясения, есть действующие вулканы. Страна бедна полезными ископаемыми. Из-за большой вытянутости её территории климатические условия разнообразны.

Показать ответ

← назад

далее →

Дидактическая игра «Три

ПОПЫТКИ»



Ошибк **3**

а

Задание: определите страну Азии по ее описанию, кликнув по ее контуру на карте.

Эта страна протянулась узкой полосой вдоль п-ова Индокитай. Здесь часты тайфуны и наводнения. Недра богаты полезными ископаемыми. Большую часть экономически активного населения занята в с/х; растениеводство специализируется на производстве риса, сахарного тростника, чая, кофе и натурального каучука.

Показать ответ

← назад

далее →

Дидактическая игра «Три

ПОПЫТКИ»



Ошибк

3

а

Задание: определите страну Азии по ее описанию, кликнув по ее контуру на карте.

Страна относится к числу развивающихся, но при этом входит в десятку крупнейших стран по миру по территории и численности населения. Пересекается Северным тропиком, большая ее часть находится на полуострове. В рельефе преобладают равнины, в северной части находятся высокие горы.

Показать ответ

← назад

далее →

Дидактическая игра «Три

ПОПЫТКИ»



Ошибк **3**

а

Задание: определите страну Азии по ее описанию, кликнув по ее контуру на карте.

Территория страны расположена в двух частях света и омывается водами трёх морей. Это одна из наиболее развитым в промышленном отношении стран Юго-Западной Азии. В настоящее время страна является республикой, хотя ещё в начале XX в. на этой территории располагалась крупная империя.

Показать ответ

← назад

далее →

Дидактическая игра «Три

ПОПЫТКИ»



Ошибк **3**

а

Задание: определите страну Азии по ее описанию, кликнув по ее контуру на карте.

Страна богата нефтью.
Расположена она на низменности, по которой протекают две реки, сливающиеся в одно русло.

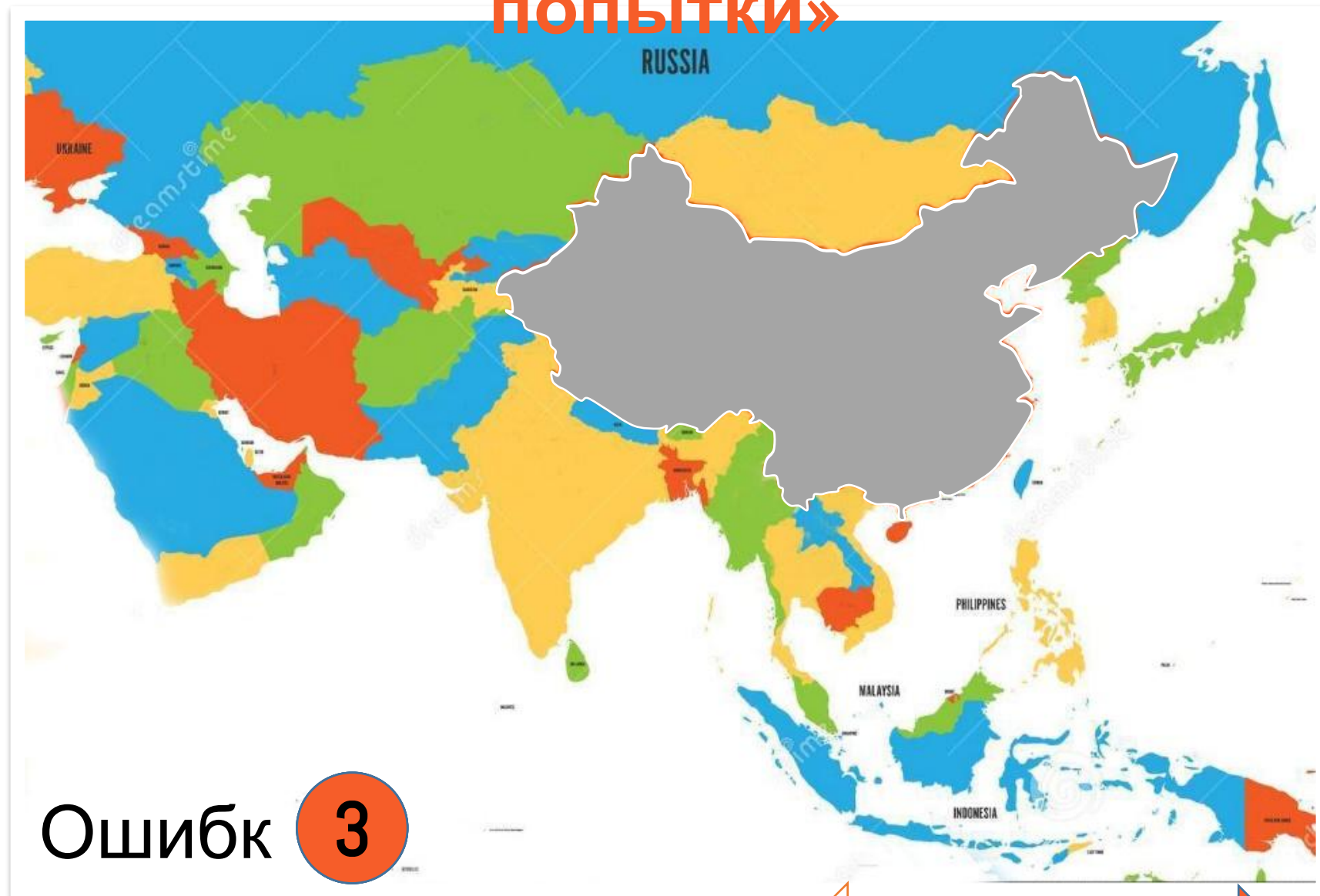
Показать ответ

← назад

далее →

Дидактическая игра «Три

ПОПЫТКИ»



Ошибк **3**

а

← назад

▶ далее

Задание: определите страну Азии по ее описанию, кликнув по ее контуру на карте.

Крупная страна Центральной и Восточной Азии. Большая часть населения живет на востоке. Здесь муссонный климат. По территории страны протекают две крупные реки. Население выращивает рис, пшеницу, сою, овощи.

Показать ответ

Дидактическая игра «Три

ПОПЫТКИ»



Ошибк **3**

а

Задание: определите страну Азии по ее описанию, кликнув по ее контуру на карте.

Страна расположена на самом большом полуострове мира. Рельеф пустынный. Большая часть населения исповедуют ислам. Страна занимает 1 место по добыче нефти.

Показать ответ

← назад

далее →

Дидактическая игра «Три

ПОПЫТКИ»



Ошибк

3

а

Задание: определите страну Азии по ее описанию, кликнув по ее контуру на карте.

Страна граничит с Китаем и Россией, не имеет выхода к морю. Страна кочевого скотоводства. Жилище-юрта. Зима холодная, а лето жаркое. В питании раньше преобладали молоко и мясо, земледелием народ не занимался. На территории страны находится пустыня Гоби.

Показать ответ

← назад

далее →

Молодец!
Ты справился со
всеми заданиями!



Источники информации

1. <https://www.youtube.com/watch?v=2O0P79Nm-24&t=950s>
2. <https://www.dreamstime.com/colorful-political-map-western-southern-eastern-asia-simple-flat-vector-illustration-colorful-political-map-western-image107569600>
3. Е.А. Жижина «Поурочные разработки по географии» 7 класс
4. Атлас 7 класс. Издательство Дрофа.



В начало