

10 ↓



Дом знаний
по теме
«Хозяйство России»

9 класс

0

9

10

7

8

5

6

3

4

1

2

0



1 этаж Правила игры «Дом знаний»

2 этаж РФ на карте мира

- 2.1. Государственная территория РФ
- 2.2. Административно-территориальное устройство РФ

3 этаж ТЭК

- 3.1. Топливная промышленность
- 3.2. Электроэнергетика

4 этаж Машиностроение

- 4.1. Факторы размещения
- 4.2. География машиностроения

5 этаж Metallургия

- 5.1. Черная металлургия
- 5.2. Цветная металлургия



6 этаж Химическая пром-ть

- 6.1. Центры химической пром-ти
- 6.2. География химической пром-ти

7 этаж Лесная пром-ть

- 7.1. Центры химической пром-ти
- 7.2. География химической промышленности

8 этаж АПК

- 8.1. Растениеводство
- 8.2. Животноводство

9 этаж Сфера услуг

- 9.1. Транспорт
- 9.2. Нематериальная сфера

10 этаж Тюменская область

- 10.1. ТО на карте
- 10.2. Промышленность ТО

Игра «Дом знаний»

Правила игры

1. Для перехода на игровое поле необходимо щелкнуть на дверь лифта.
2. На игровом поле расположены кнопки номеров этажей, при нажатии на которые Вы попадаете на соответствующий этаж.
3. На каждом этаже расположено по 2 квартиры. На каждой двери указана категория задания.
4. По щелчку на дверь Вы попадаете в комнату, на стене которой размещено задание.
5. Чтобы проверить правильность ответа, необходимо щелкнуть по цветку.
6. Для выхода из квартиры необходимо щелкнуть по двери.



Россия на карте мира

Государственная
территория
РФ

Административно-
территориальное
устройство
РФ

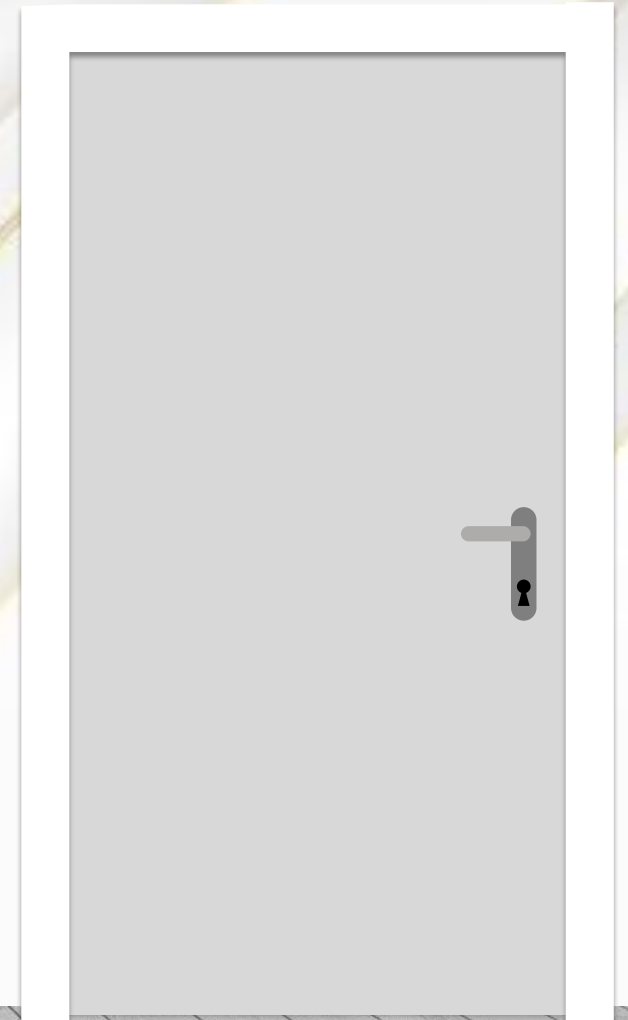
2
этаж



**Установите соответствие:
субъект РФ- административный центр- старое название.**

Субъект РФ	Административный центр	Старое название адм. центра
1. респ. Марий Эл	А. Краснодар	а. Белоцарск
2. респ. Тыва	Б. Йошкар-Ола	б. Царицын
3. Пермский край	В. Пермь	в. Екатеринодар
4. Краснодарский край	Г. Кызыл	г. Царёвококшайск
5. Волгоградская обл.	Д. Волгоград	д. Молотов

№	1	2	3	4	5
БУКВА	Б	Г	В	А	Д
Буква	г	а	д	в	б



Установите, каким субъектам РФ принадлежат флаги и их площадь.
Обоснуйте возможный принцип выбора данных субъектов.

Равенство

Обоснование
выбора



1. Общий статус субъектов РФ- республики;
2. Расположены в степных районах;
3. Преобладающая религия- буддизм




Топливо-энергетический комплекс

Топливная
промышленность

Электро-
энергетика

3
этаж



Проанализируйте карту и назовите:

1. Основные районы добычи нефти;
2. Крупнейшие месторождения нефти;
3. Важнейшие центры переработки нефти.



Заполните пропуски в тексте, используя диаграммы

По объему производства электроэнергии Россия занимает 4 место в мире после Китая, США и Индии, суммарно производящих 11 765 млрд кВт/ч.

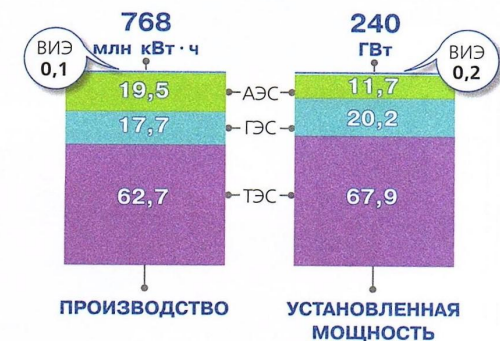
В структуре производства электроэнергии среди Российских электростанций в 2017г. С большим отрывом лидируют ТЭС (62,7 %). На долю ГЭС приходится 17,7%, АЭС- 19,5 %.

Главными потребителями электроэнергии остаются Уральский, Центральный и Сибирский федеральные округа.


Производство электроэнергии по странам мира в 2016 г., млрд кВт·ч



Структура производства и установленных мощностей по типам электростанций за 9 мес. 2017 г., %



Потребление электроэнергии в РФ по федеральным округам за 9 мес. 2017 г., %




Машиностроение


Факторы
размещения

География
машиностроения


4
этаж



**Почему автомобильный завод построен
в Тольятти, а не в Красноярске?
Почему судостроительный завод работает
в Санкт-Петербурге,
а приборостроительные заводы построены
в Воронеже, Пензе и Рязани?**



По логотипу определите в каких городах выпускаются транспортные средства и к каким экономическим районам они относятся?



				
Город	Нижний Новгород (Горький)	Тольятти	Ульяновск	Набережные Челны
ЭР	Волго-Вятский	Поволжский	Поволжский	Поволжский



Металлургия

Черная
металлургия

Цветная
металлургия

5
этаж



**Выявите ошибки в
обозначении городов-
центров черной металлургии
на карте. Исправьте ошибки.**

~~1- Златоуст~~

Магнитогорск

~~2- Магнитогорск~~

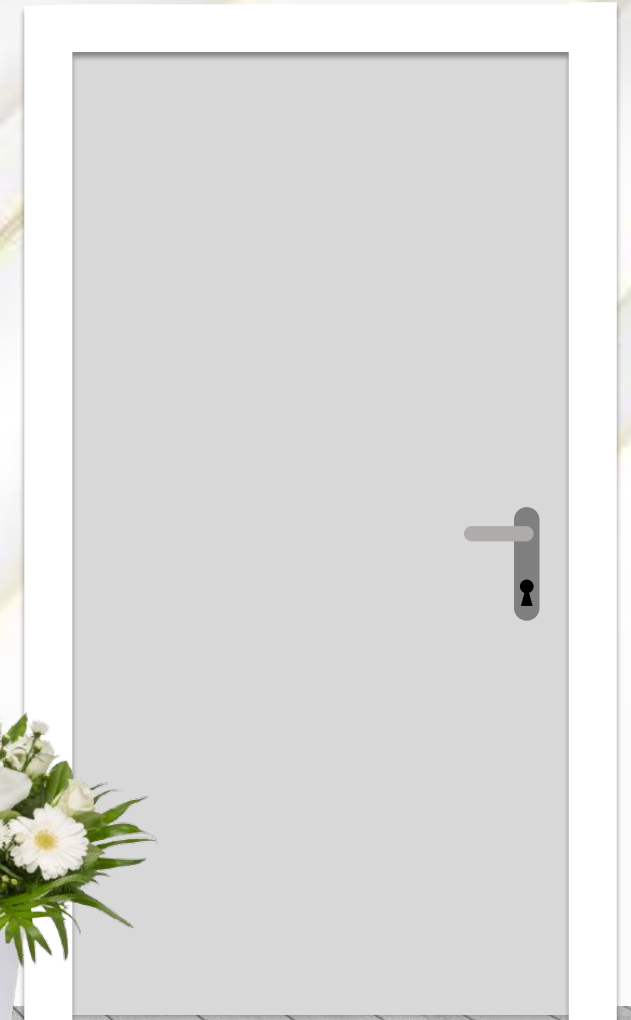
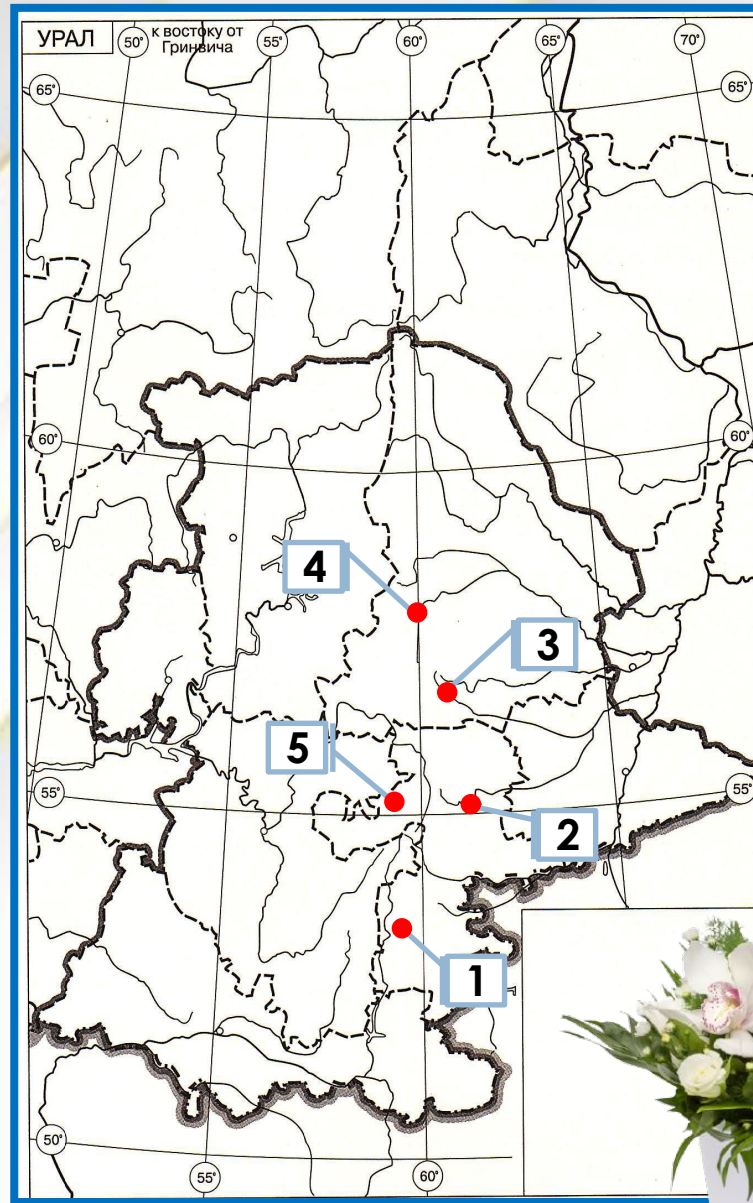
Челябинск


3- Екатеринбург

4- Нижний Тагил

~~5- Челябинск~~

Златоуст





Установите соответствие между предприятиями металлургического комплекса и факторами размещения.

Предприятие	Факторы размещения
1. Алюминиевый завод	А) строят у сырья
2. Медеплавильный комбинат	Б) строят у ГЭС В) строят у топлива
3. Титановый завод	Г) строят на потоках сырья и топлива
4. Завод полного цикла	
5. Передельный завод черной металлургии	Д) строят у потребителя
6. Цинковый завод	

1Б, 2А, 3Б, 4АВГ, 5Д, 6А

Химическая промышленность

Центры
химической
промышленн
ости

География
химической
промышленн
ости

6
этаж



Определите названия городов- центров химической промышленности РФ, по специализации, отраженной в геральдике. Объясните, как отражена в геральдике химическая специализация города.



1



2

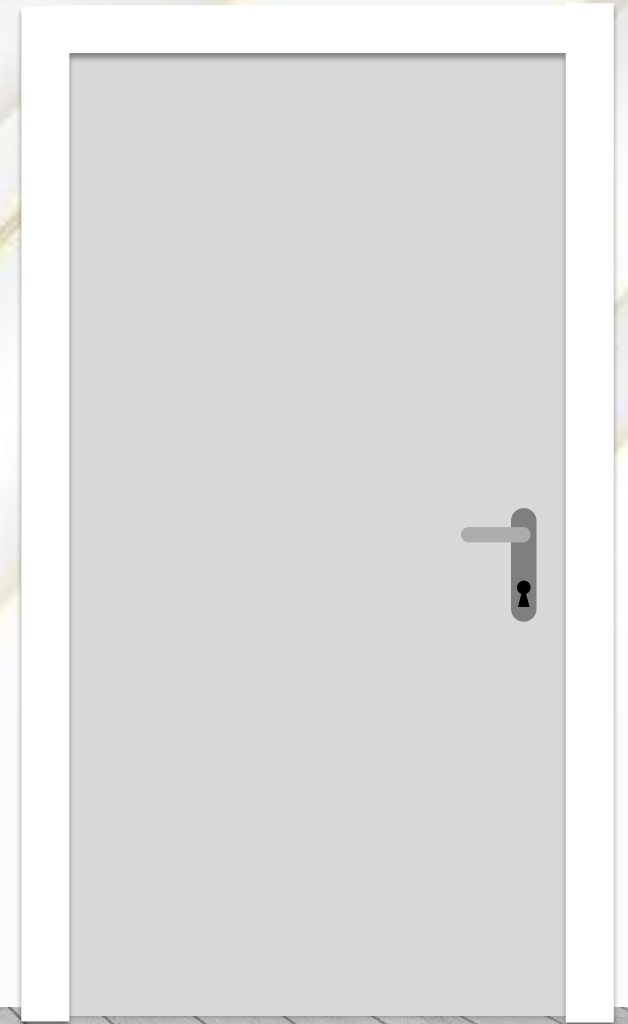


3

3 Кемерово

2 Апатиты

1 Соликамск



Определите субъект РФ по предложенному описанию

Этот субъект РФ входит в состав Европейского севера. Ведущими отраслями хозяйства области являются горнодобывающая, химическая промышленность и цветная металлургия. Территория области располагается в пределах Балтийского щита, благодаря чему в её границах присутствует уникальный набор полезных ископаемых. В частности, здесь находится крупное месторождение нефелин-апатитовых руд. Присутствуют также месторождение железных и медно-никелевых руд. Кроме того на территории области находится крупнейшее в России месторождение редкоземельных металлов.

Республика Карелия




Лесная промышленность

Факторы
размещения

География
лесной
промышленности

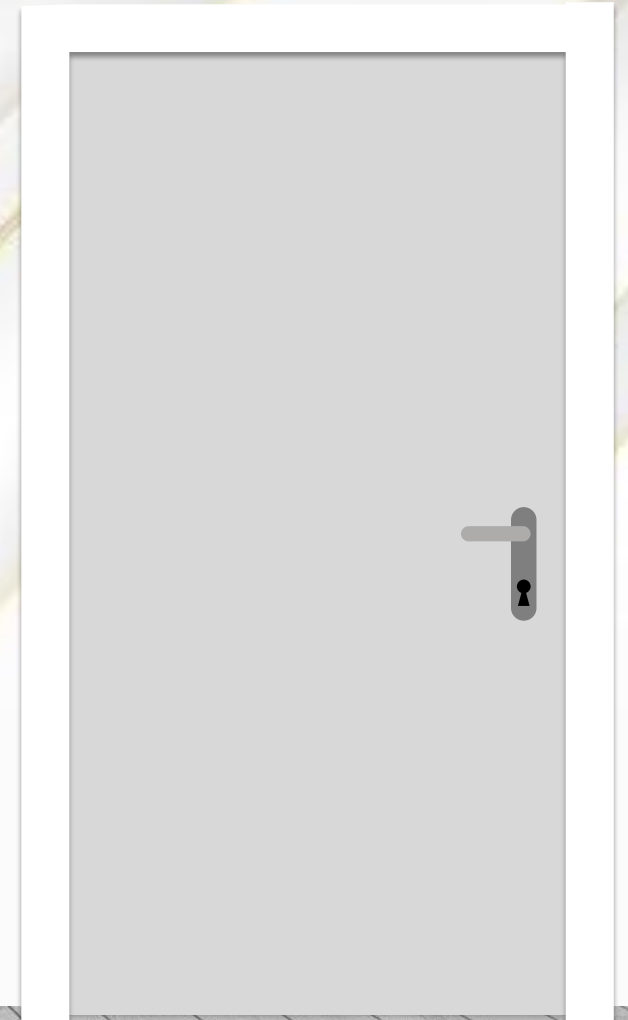
7
этаж



Установите соответствие между отраслями лесной промышленности и необходимыми факторами размещения

Предприятие	Факторы размещения
1. Производство мебели	А) Источникам сырья
2. Целлюлозно-бумажная	Б) Потребителю
3. Лесохимия	В) Водным и ж/д путям
4. Лесопиление	Г) Водным ресурсам
5. Лесозаготовка	Д) Дешевой электроэнергии


1Б, 2АГД, 3ВГ, 4АВ, 5А



Определите субъект РФ по предложенному описанию

Этот субъект РФ входит в состав Европейского севера. Область является крупнейшей по площади в Европейской части России. Основными отраслями хозяйства области являются лесная промышленность, судостроение и рыбная промышленность. Доля области в общем производстве целлюлозы в России составляет около трети.

Архангельская область



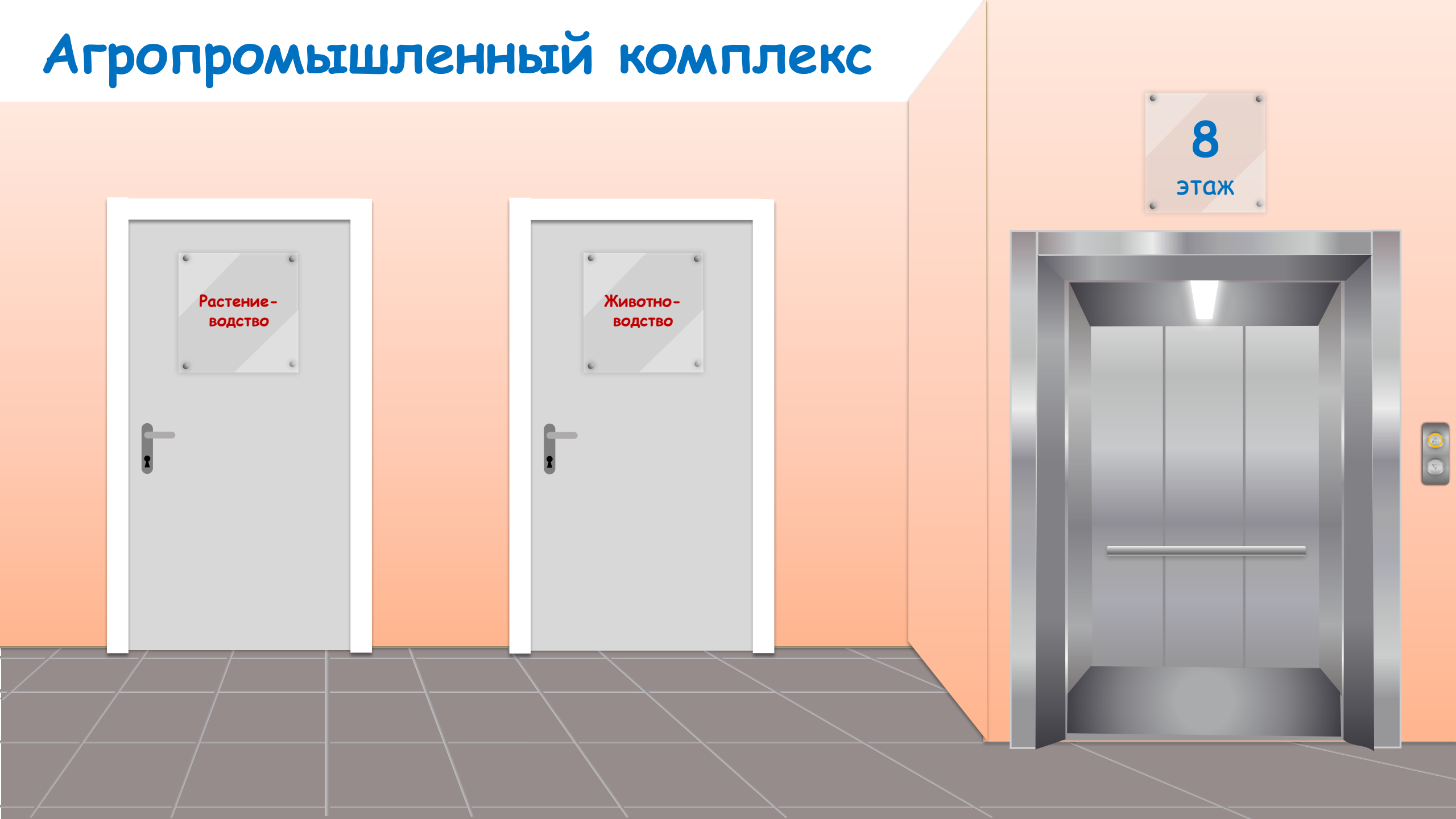
Агропромышленный комплекс

Растение-
водство

Животно-
водство

8

ЭТАЖ



По горизонтали:

1. Представитель семейства пасленовых, по производству которого в мире лидирует



, в то время, как РФ

занимает 3 место.

5. Возделывание таких культур, как



называется...

				3		4				2		
1	К	А	Р	Т	О	Ф	Е	Л	Ь			
		Ш			Д			Ь				
		Н			С			Н				
		Я			О			О				
					Л			В				
					Н			О				
5	Б	А	Х	Ч	Е	В	О	Д	С	Т	В	О
					Ч			С				
					Н			Т				
					И			В				
					К			О				

По вертикали:



Разгадайте кроссворд



2. Отрасль растениеводства, занимающаяся выращиванием технической культуры, во многом определила облик Вологодской, Тверской, Смоленской областей.

3. На долю этого вида с/х угодий в РФ приходится 8%.

4. Абсолютным лидером по производству этой технической культуры в РФ является



Установите соответствие между субъектами РФ и отраслью животноводства, в котором они получили устойчивое развитие.

1. Республика Дагестан, республика Калмыкия, Ставропольский край;
2. Республика Марий Эл, республика Башкортостан, республика Алтай;
3. Астраханская область, республика Калмыкия, республика Бурятия;
4. Ростовская область, Карачаево-Черкесская республика, Кабардино-Балкарская республика.

А



Б

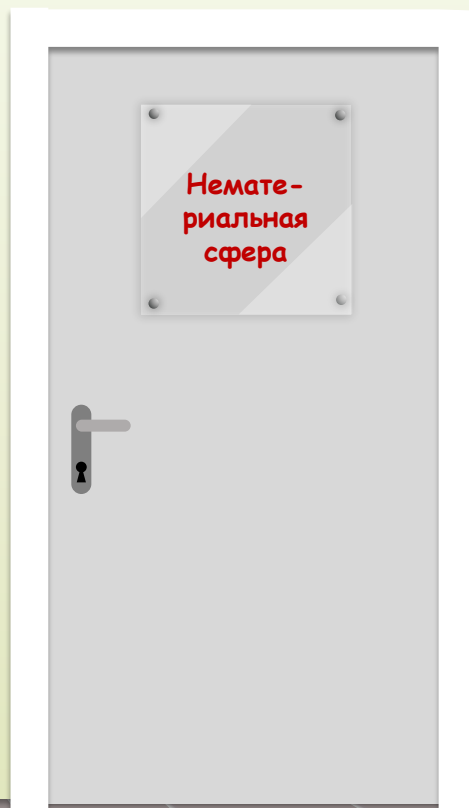


В



1В, 2А, 3Б, 4В

Инфраструктурный комплекс



Что изображено на карте?
По контуру определите субъекты РФ.

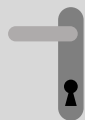
Как они связаны с
представленной
картой?



Какие три из перечисленных отраслей хозяйства относятся к нематериальной сфере?

- | | |
|--------------------------|-----------------------|
| А) здравоохранение | Г) сельское хозяйство |
| Б) образование | Д) торговля |
| В) легкая промышленность | Е) транспорт |

АБД




Тюменская область


Тюменская
область
на карте

Промышлен
ность
Тюменской
области

10
этаж



Назовите соседей Тюменской области, включая ХМАО и ЯНАО



Установите соответствие между отраслью специализации и их центром в Тюменской области

Отрасль специализации	Центры
1. Нефтяная, нефтехимия	А) Сургут, Нижневартовск и др. города в долине р. Обь
2. Газовая	Б) Новый Уренгой, Ямбург
3. Лесная, деревообработка	В) Сургут, Нижневартовск, Тюмень, Тобольск

1В, 2Б, 3А



Используемые источники

- <http://didaktor.ru/novogodnij-podarok-ot-didaktora/>
- <https://www.remove.bg/ru>
- <https://biouroki.ru/workshop/crossgen.html>
- <http://www.heraldry.hobby.ru/>
- <https://www.megaflag.ru/information/spravochnaya-informaciya/flagi-gorodov-rf>
- Колечкин И. С. Сборник заданий и упражнений по географии. 8-11 классы. (часть 1, 2)
- Банников С.В., Молодцов Д.В. Тетрадь-практикум к учебнику Е.М. Домогацких, Н. И. Алексеевского, Н.Н. Клюева «География» 9 класс (часть 1, 2)
- Домогацких Е.М., Домогацких Е.Е. Рабочая тетрадь к учебнику Е.М. Домогацких, Н.И. Алексеевского, Н.Н. Клюева «География» 9 класс (часть 1, 2)
- Дронов В.П. Рабочая тетрадь к учебнику В.П. Дронова, В.Я. Рома «География. Население и хозяйство» 9 класс
- Жижина Е.А. Поурочные разработки по географии. 9 класс

