

Ю-З Азия

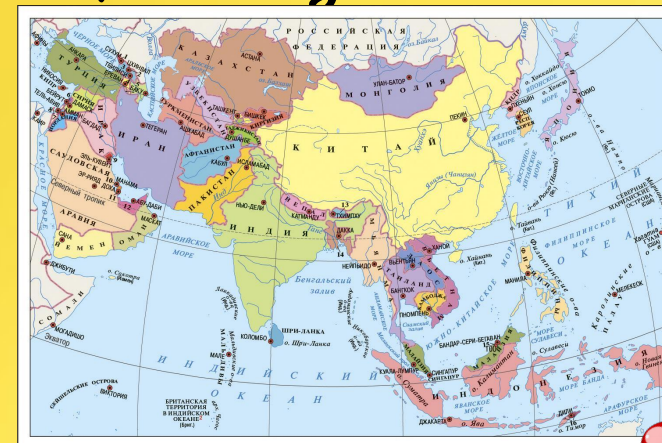
Центральная Азия

Восточная Азия

Южная Азия

Ю-В Азия


# Игра «Страны Азии»



7 класс

**ПРАВИЛА  
ИГРЫ**

Ю-З Азия



Центральная Азия




Восточная Азия




Южная Азия



Ю-В Азия



## ПРАВИЛА ИГРЫ

1. Для перехода на игровое поле необходимо щелкнуть на ручку ящика.
2. На игровом поле карточки с заданиями. В каждом ящике 4 идентичных задания.
3. По щелчку на карточку в ящике- Вы переходите к тексту заданию.
4. По щелчку на текст задания- Вы переходите к игровому полю задания.
5. Чтобы проверить правильность ответа, необходимо щелкнуть на канцелярскую кнопку .
6. Для перехода к другому игровому полю- нажмите на соответствующий ящик.

*Желаю успехов!*




Ю-З Азия




Восточная  
Азия



Южная  
Азия



Ю-В Азия



Страны  
Юго-Западной Азии

A yellow sticky note with a red pushpin at the top center. The note is pinned to a corkboard background. The text "Страны Юго-Западной Азии" is written in black cursive script. The note has a light blue and light green border on the left and right sides.



КАРТА

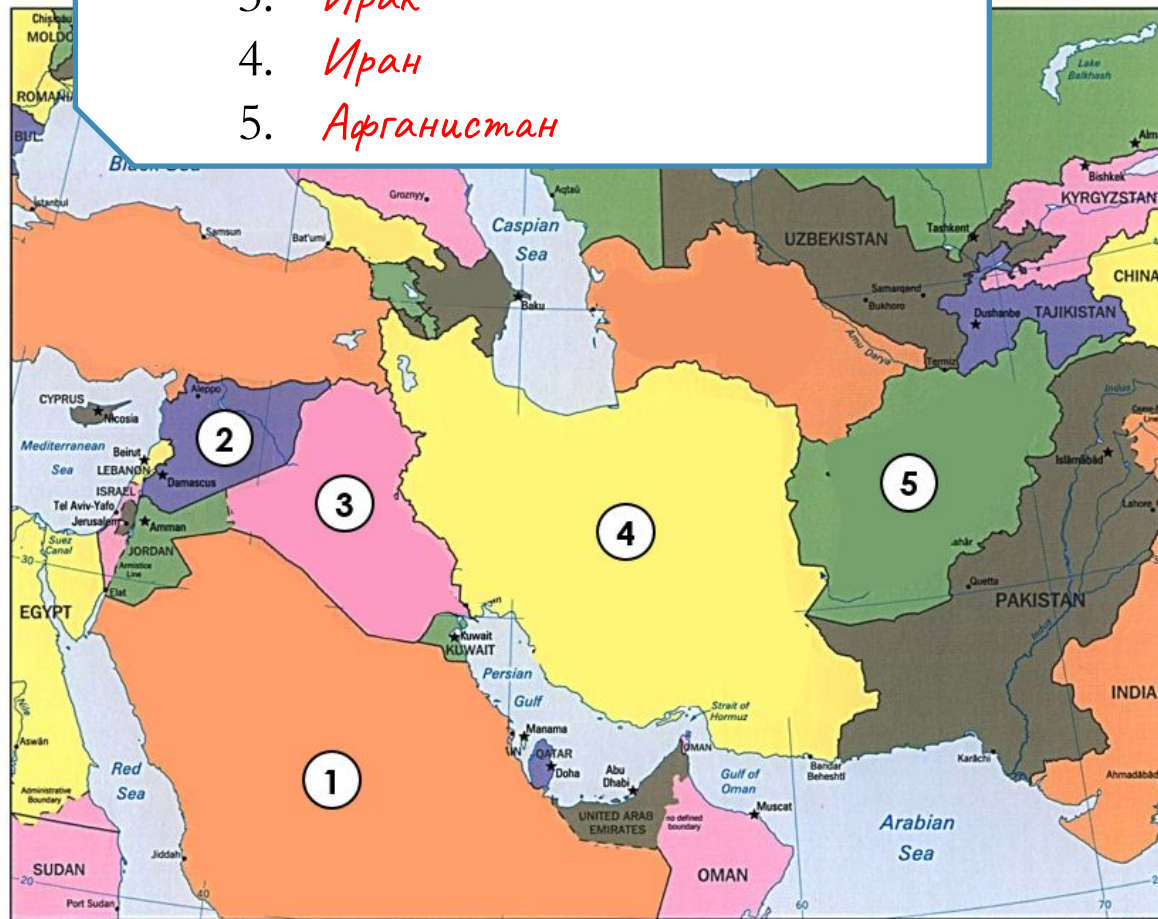
**Определите страны,  
спрятавшиеся под цифрами**

*max- 5 баллов*

КАРТА




1. Саудовская Аравия
2. Сирия
3. Ирак
4. Иран
5. Афганистан



Ю-З Азия

Восточная  
Азия



ФЛАГ

# Разгадайте кроссворд

*max- 5 баллов*

ФЛАГ



	3	2	
1	И	Р	А
	Н		
	Р		Ф
	А		Г
	К		А
			Н
			И
			С
			Т
4	А	З	Е
	Р	Б	А
	Й	Д	Ж
	А	Н	
	Н		

1



2



3




4



5  
О  
М  
А

5



Ю-З Азия

Восточная Азия

СТРАНА

КАРТА

+/-



СТРАНА

**Определите страну Юго-  
Западной Азии по  
предложенному  
описанию**

*max- 1 балл*



Ю-З Азия

Восточная  
Азия

СТРАНА

*Израиль*

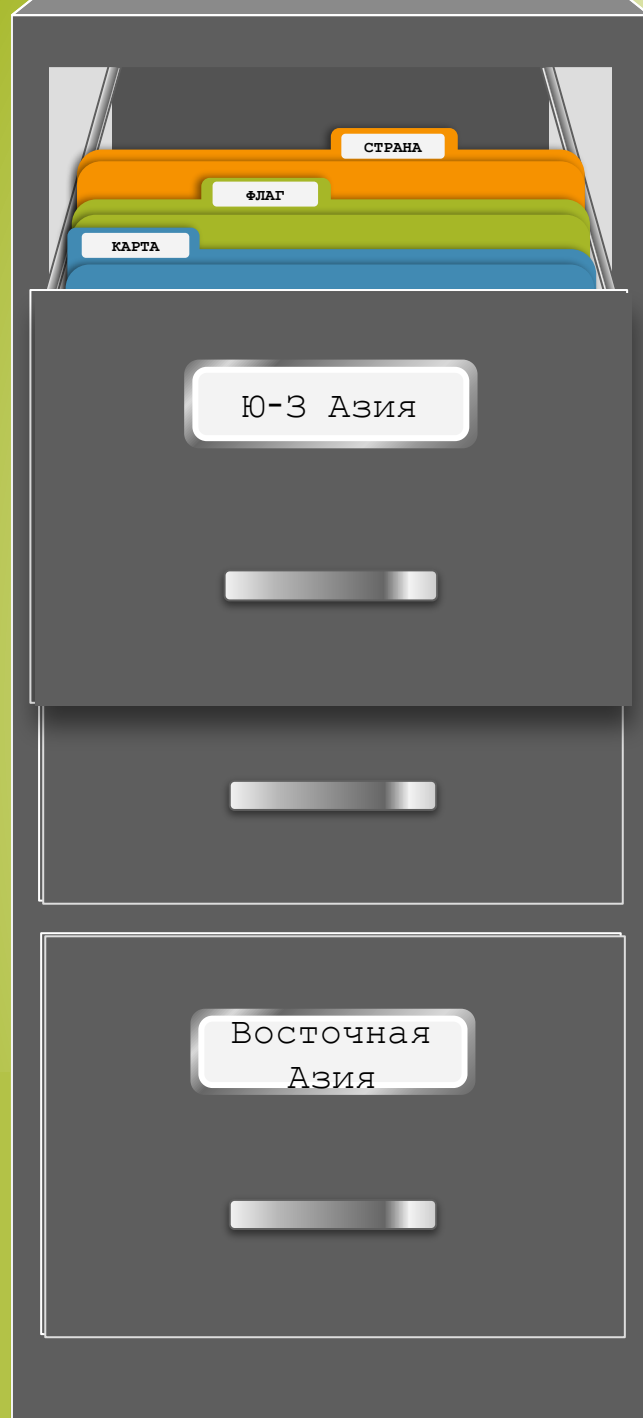
Её берега омывает  
Средиземное море. Это  
единственное государство в  
Юго-Западной Азии, где  
живут Евреи.



+/-

# Выберите верные утверждения


*max- 3 балла*




+/-

1. Нефть является важнейшим полезным ископаемым для стран Юго-Западной Азии.
2. Афганистан не имеет выхода к морю.
3. Центром трех религий является Тбилиси.
4. Высеченный в песочниках город Петра находится в Иордании.
5. В большинстве стран Юго-Западной Азии исповедуют иудаизм.

Ю-З Азия



Центральна  
я Азия



Южная  
Азия



Ю-В Азия



Страны  
Центральной Азии

Ю-В Азия

КАРТА

СТРАНА

ФЛАГ

Центральна  
я Азия

**Определите страны,  
спрятанные под цифрами**

*max- 5 баллов*

Ю-З Азия

СТРАНА

ФЛАГ

Центральна  
я Азия

КАРТА



1. *Туркменистан*
2. *Ўзбекистан*
3. *Таджикистан*
4. *Киргизия*
5. *Казахстан*



Ю-З Азия

ФЛАГ

СТРАНА

КАРТА

Центральна  
я Азия

# Разгадайте кроссворд

*max- 5 баллов*

Ю-З Азия

СТРАНА

КАРТА

Центральна  
я Азия

ФЛАГ

1



2



3



4



5

У  
З  
Б  
Е  
К  
И  
К

4

К  
З  
А  
Х  
С  
Т  
А  
Н

2

3 Т У Р К М Е Н И С Т А Н

3

А  
Д  
Ж

1 К И Р Г И З И Я


К  
И  
С  
Т  
А  
Н

5






Ю-В Азия



ФЛАГ

КАРТА

Центральна  
я Азия



СТРАНА

**Определите страну  
Центральной Азии по  
предложенному  
описанию**

*max- 5 балл*

Ю-З Азия

ФЛАГ

КАРТА

Центральна  
я Азия


СТРАНА



*Туркме-нистан*

Южная страна Центральной Азии, бóльшая часть занята пустыней Каракумы. В заливе Каспийского моря Кара-Богаз-Гол ведется добыча глауберовой соли. Также в стране добывают газ и нефть.

Ю-З Азия




СТРАНА

ФЛАГ

КАРТА

Центральна  
я Азия



+/-

**Выберите верные  
утверждения**

*max- 3 балла*

Ю-З Азия

СТРАНА

ФЛАГ

КАРТА

Центральна  
я Азия

+/-

1. Узбекистан и Туркмения омываются водами Каспийского моря.
2. Ташкент- самый большой город в Центральной Азии.
3. Города в Узбекистане расположены в оазисах.
4. Столица Казахстана- Алматы.
5. Озеро Иссык-Куль- жемчужина Киргизии

Ю-З Азия

Центральная Азия

Южная Азия

Ю-В Азия

Восточная Азия

Страны  
Восточной Азии

СТРАНА

ФЛАГ

КАРТА

+/-

Ю-З Азия

Центральн  
ая Азия

Восточная  
Азия

КАРТА

**Определите страны,  
спрятавшиеся под цифрами**

*max- 5 баллов*

Ю-В Азия

Центральная Азия

СТРАНА

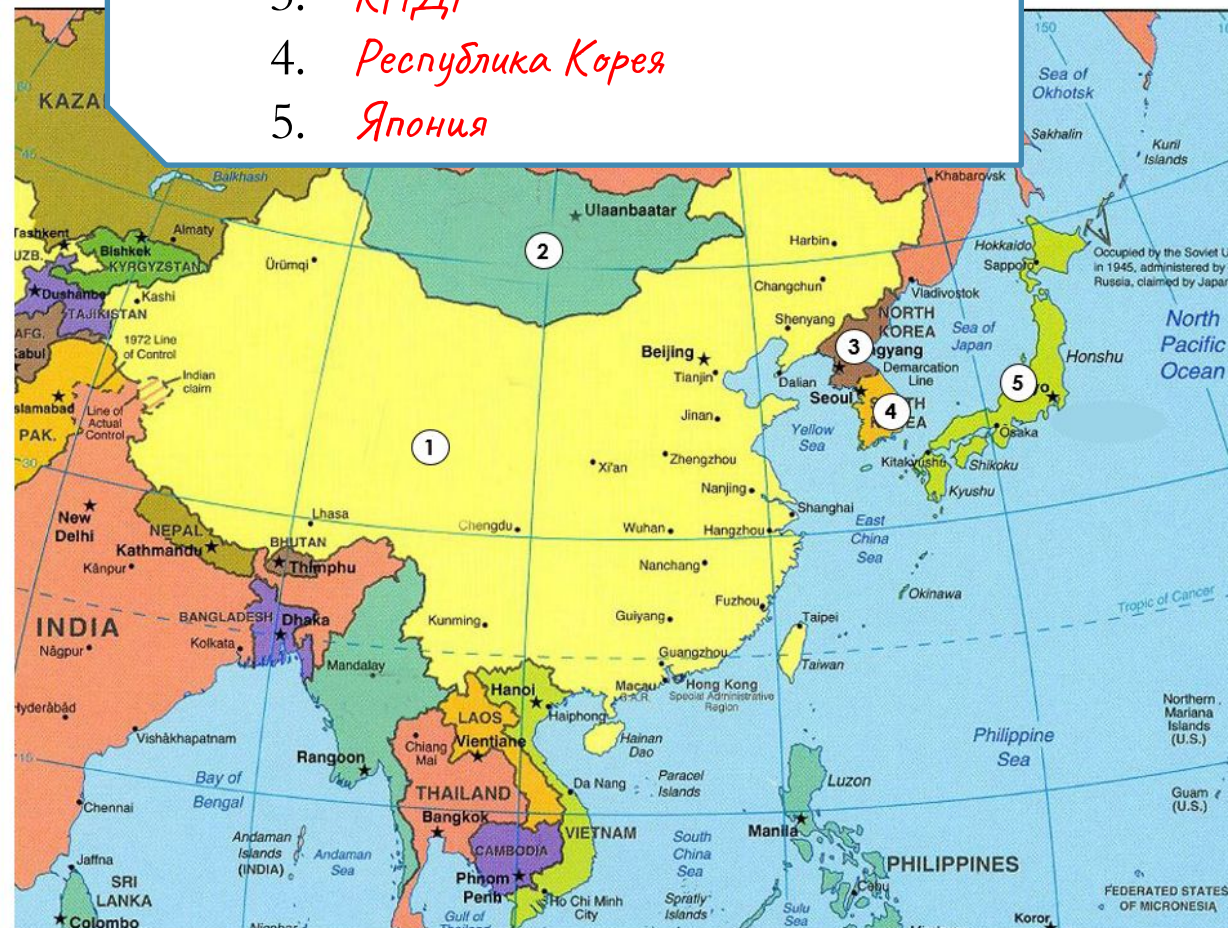
ФЛАГ

Восточная Азия

КАРТА



1. *Китай (КНР)*
2. *Монголия*
3. *КНДР*
4. *Республика Корея*
5. *Япония*



Ю-З Азия

Центральн  
ая Азия

КАРТА

СТРАНА

Восточная  
Азия

ФЛАГ

# Разгадайте кроссворд

*max- 5 баллов*



Ю-В Азия

Центральная Азия


СТРАНА

КАРТА

Восточная Азия


ФЛАГ

1



2

Республика




3



4

М  
О

4



5

К Н Д Р

5



Г  
О  
Л  
И

2

К

3

К

1

Я П О Н И Я

Р

Т

Е

А

Я

Й

Ю-В Азия

Центральная Азия

КАРТА

ФЛАГ

Восточная Азия

СТРАНА

**Определите страну  
Восточной Азии по  
предложенному  
описанию**

*max- 1 балл*

Ю-З Азия

Центральн  
ая Азия

КАРТА

ФЛАГ


Восточная  
Азия

СТРАНА


*Япония*

Большую часть страны занимают горы, здесь часты землетрясения, есть действующие вулканы. Страна бедна полезными ископаемыми. Из-за большой вытянутости её территории климатические условия разнообразны. Вдоль восточного побережья проходит тёплое океаническое течение. Страна расположена на пути тайфунов, зарождающихся в Тихом океане.

Ю-З Азия



Центральн  
ая Азия



СТРАНА

ФЛАГ

КАРТА

Восточная  
Азия

+/-

**Выберите верные  
утверждения**

*max- 3 балла*

Ю-З Азия

Центральная Азия

КАРТА

ФЛАГ

СТРАНА

Восточная Азия

+/-

1. Главная особенность климата Монголии- резко-континентальный климат.
2. Плотность населения Монголии низкая.
3. Монголия не имеет значительных запасов рудного сырья.
4. Китай является ведущей мировой державой по уровню развития промышленности и с/х.
5. Япония – лидер по производству риса.

Ю-З Азия

Центральная Азия

Восточная Азия



Южная Азия



Страны  
Южной Азии

# Определите страны, спрятанные под цифрами


*max- 5 баллов*

Ю-З Азия

Центральн  
ая Азия

Восточная  
Азия

Южная Азия



Ю-З Азия

Центральн  
ая Азия

Восточная  
Азия



Южная Азия

1. *Индия*
2. *Пакистан*
3. *Непал*
4. *Бангладеш*
5. *Мьянма*





Ю-З Азия

Центральн  
ая Азия

Восточная  
Азия



Южная Азия

# Разгадайте кроссворд

*max- 5 баллов*



Ю-З Азия

Центральная Азия

Восточная Азия



Южная Азия

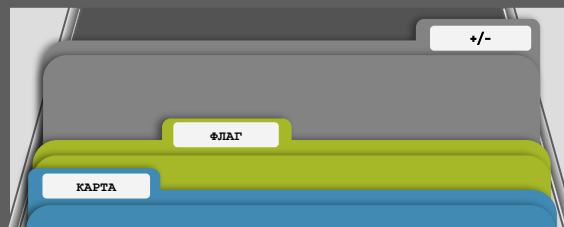


Ю-З Азия

Центральная Азия

Восточная Азия

Южная Азия



Определите  
страну Южной  
Азии по  
предложенному  
описанию

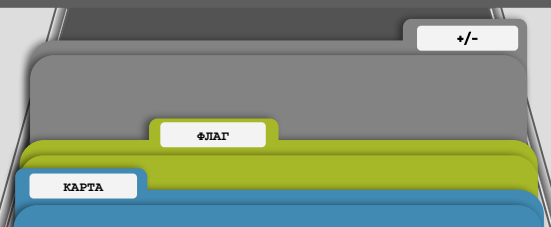
*max- 1 балл*

Ю-З Азия

Центральная Азия

Восточная Азия

Южная Азия




Страна относится к числу развивающихся, но при этом входит в десятку крупнейших стран по миру по территории и численности населения. Пересекается Северным тропиком, большая ее часть находится на полуострове. В рельефе преобладают равнины, в северной части находятся высокие горы.

*Индия*



СТРАНА

Ю-З Азия



Центральная Азия



Восточная Азия



# Выберите верные утверждения

*max- 3 балла*

Ю-З Азия

Центральная Азия

Восточная Азия



1. Национальной религией Индии является буддизм.
2. По численности населения Индия занимает 2 место.
3. Бангладеш расположен а дельте Ганга, где очень плодородные почвы.
4. Государство Шри-Ланка раньше называлось Цейлон.
5. Столица Пакистана- Катманду.



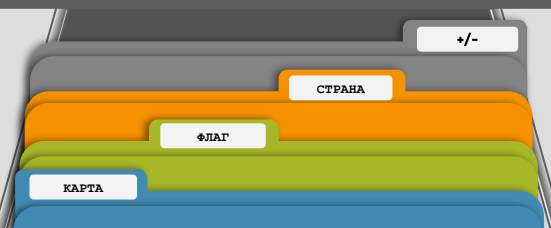
Ю-З Азия

Центральная Азия

Восточная Азия

Южная Азия

Ю-В Азия



Страны  
Юго-Восточной Азии

# Определите страны, спрятанные под цифрами

*max- 5 баллов*

Ю-З Азия

Центральн  
ая Азия

Восточная  
Азия

Южная  
Азия

Южная Азия

СТРАНА

ФЛАГ



Ю-З Азия

Центральная Азия

Восточная Азия

Южная Азия

Ю-В Азия



1. *Вьетнам*
2. *Лаос*
3. *Тайланд*
4. *Камбоджа*
5. *Малазия*



Ю-З Азия

Центральн  
ая Азия

Восточная  
Азия


Южная  
Азия

Ю-В Азия


# Разгадайте кроссворд

*max- 5 баллов*

Ю-З Азия



Центральн  
ая Азия



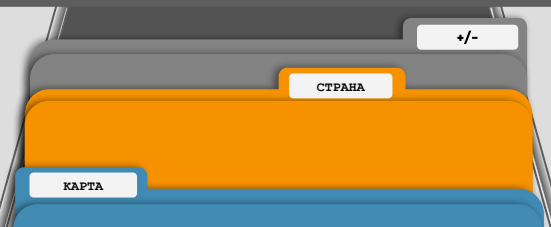
Восточная  
Азия



Южная  
Азия



Ю-В Азия



1



2



3



Н  
Д  
О  
Н  
Е  
З  
И  
Я

4



5



Ю-З Азия

Центральная Азия

Восточная Азия

Южная Азия

КАРТА

ФЛАГ

Ю-В Азия

**Определите  
страну Юго-  
Восточной Азии  
по  
предложенному  
описанию**

*max- 1 балл*

Ю-З Азия

Центральная Азия

Восточная Азия

Южная Азия

Ю-В Азия

ФЛАГ

КАРТА

Территория этой страны, расположенной в Восточном полушарии, пересекается экватором. Она омывается водами двух океанов. Особой чертой её природы является очень высокая сейсмичность территории и огромное количество потухших и действующих вулканов.

*Индонезия*



СТРАНА

Ю-З Азия

Центральная Азия

Восточная Азия

Южная Азия

СТРАНА  
ФЛАГ  
КАРТА

Ю-В Азия

# Выберите верные утверждения

*max- 3 балла*

Ю-З Азия

Центральная Азия

Восточная Азия

Южная Азия

КАРТА

ФЛАГ


СТРАНА

Ю-В Азия


1. Главная культура Юго-Восточной Азии- рис.
2. Самая развитая страна региона- Камбоджа.
3. Среди всех стран региона самой развитой является Сингапур.
4. Основная религия Индонезии- буддизм.
5. В большинстве стран Юго-Восточной Азии много плантаций тропических культур.




Ю-З Азия



Центральная Азия




Восточная Азия



Южная Азия



Ю-В Азия



## Используемые источники

- <https://slidesmania.com/file-cabinets-a-template-for-google-slides-or-powerpoint-for-blended-learning/>
- <https://www.remove.bg/ru>
- <https://biouroki.ru/workshop/crossgen.html>
- <https://33tura.ru/flagi>
- <https://www.maps-of-the-world.ru/asia/southwest-asia/large-political-map-of-southwest-asia-with-capitals-and-major-cities-1996>
- <https://ru.dreamstime.com/%D0%BA%D0%B0%D1%80%D1%82%D0%B0-%D1%81%D1%80%D0%B5%D0%B4%D0%BD%D0%B5%D0%B9-%D0%B0%D0%B7%D0%B8%D0%B8-%D0%BF%D0%BE%D0%BB%D0%B8%D1%82%D0%B8%D1%87%D0%B5%D1%81%D0%BA%D0%B0%D1%8F-image111141146>
- <https://www.maps-of-the-world.ru/asia/east-asia/detailed-political-map-of-east-asia-2004>
- <https://www.maps-of-the-world.ru/asia/south-asia>
- <https://azialand.ru/yugo-vostochnaya-aziya/>
- <https://ru.freepik.com/free-photos-vectors/pushpin>