


# Делители и кратные

6 класс

# Найдите делители числа 64



# Вставьте пропущенные слова

Делителем натурального числа называют

.....

число, на которое оно делится без .....

Число 12 имеет ..... делителей.

# Найдите кратные числа 9

9



36



63



56



49



21



99



81



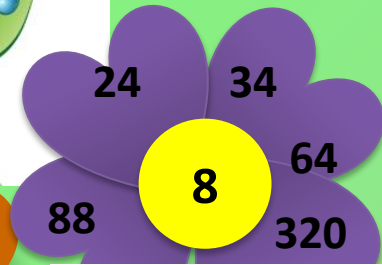

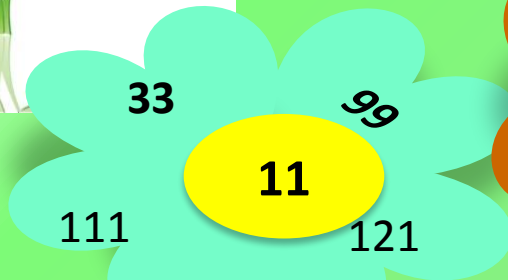
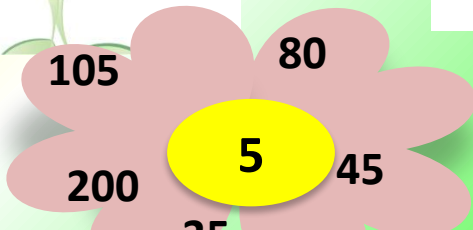




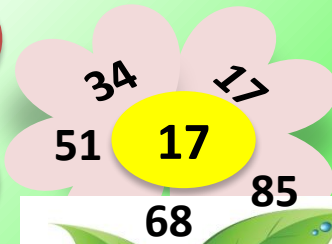
# Вставьте пропущенные слова

Кратным натурального числа называют  
..... число, которое делится без ..... на  
..... число.

Любое ..... число имеет ..... много  
кратных.

Запишите пять кратных числа 13.

# На каком рисунке, верно записаны кратные чисел





# На каком рисунке верно, указаны делители числа

