


A vibrant illustration of a spring garden. In the center, a bright sun shines through a light blue sky. Several yellow birds are flying around. A woodpecker is perched on a tree trunk on the left. The foreground is filled with green grass, red tulips, and various green leaves and branches. Musical notes are scattered throughout the scene, suggesting a musical theme. The title text is overlaid on the upper part of the image.

Интерактивный тест «Найди верное решение»

2 класс

Автор: учитель начальных классов
МАОУ СШ №9 г.Красноуфимска
Пролубщикова Наталья Владимировна
2020




**20 кг крупы
расфасовали в
пакеты по 2 кг.
Сколько пакетов
понадобилось?**

$$20 : 2$$

$$20 - 2$$

$$20 \times 2$$





Оля купила 10 тетрадей. Она
исписала 5 тетрадей.
Сколько тетрадей
осталось у Оли?

$$10 : 5$$

$$10 - 5$$

$$10 \times 5$$

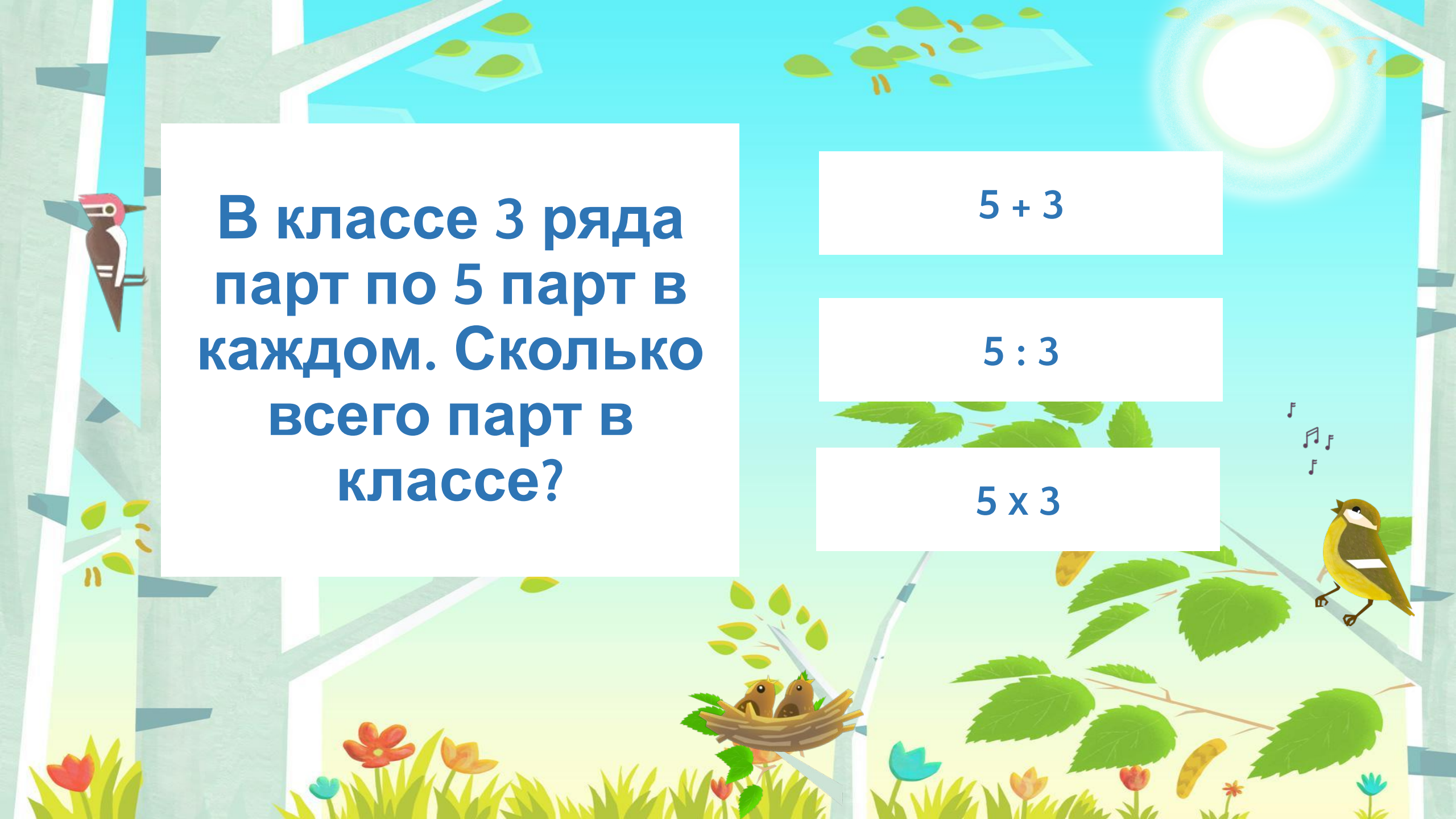



**Мама сварила 9
литров компота и
разлила его в 3
одинаковые банки.
Сколько литров
компота входит в
каждую банку?**

$$9 : 3$$

$$9 \times 3$$

$$9 + 3$$




В классе 3 ряда парт по 5 парт в каждом. Сколько всего парт в классе?

$$5 + 3$$

$$5 : 3$$

$$5 \times 3$$

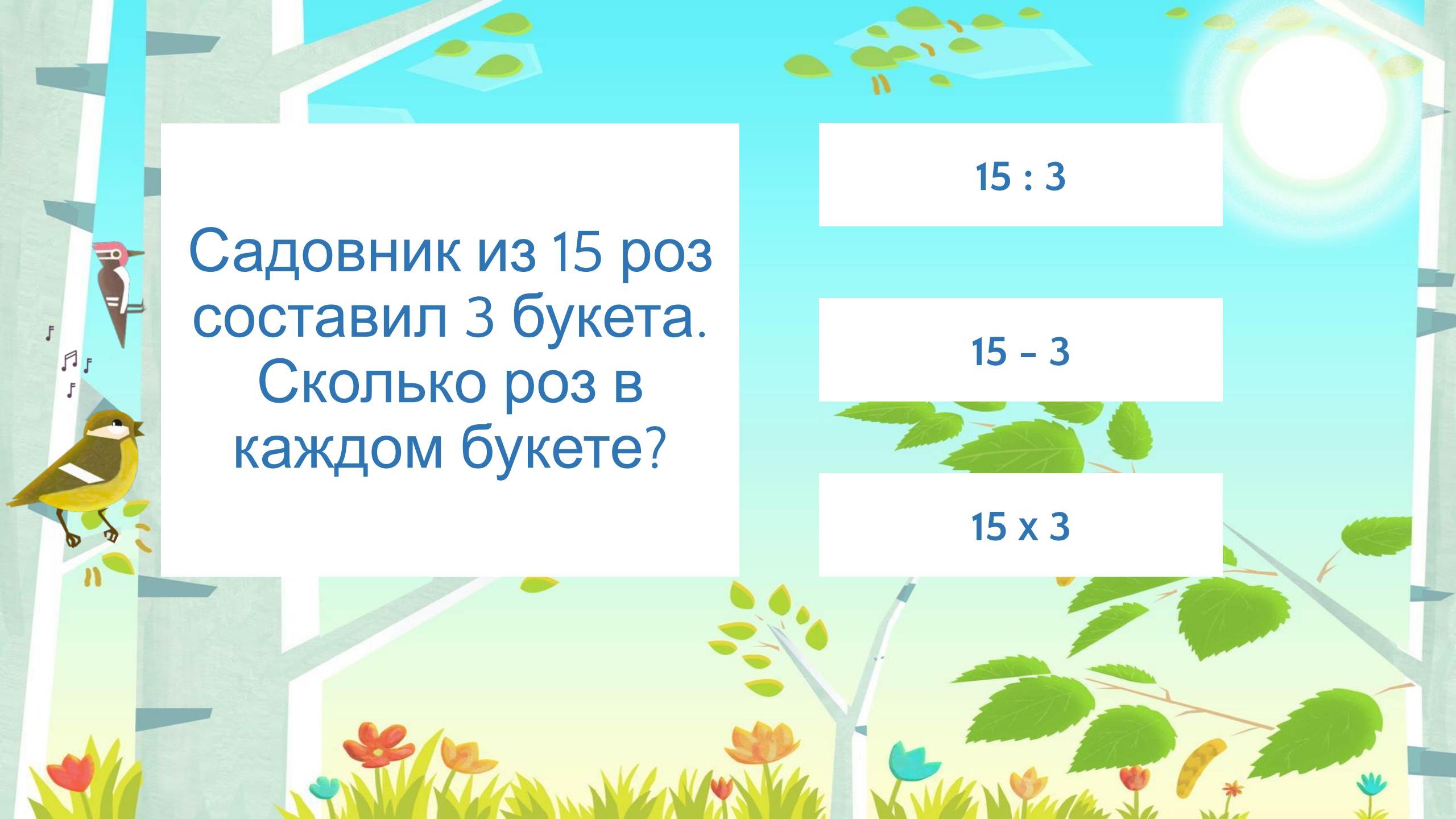


**Мама сварила
9 литров
смородинового
компота и 3 литра
вишнёвого. Сколько
всего литров
компота сварила
мама?**

$$9 : 3$$

$$9 + 3$$

$$9 \times 3$$



Садовник из 15 роз
составил 3 букета.
Сколько роз в
каждом букете?

$$15 : 3$$

$$15 - 3$$

$$15 \times 3$$

Тетрадь стоит 4
рубля. Оля купила
3 тетради. Сколько
денег она
заплатила?

$$4 + 3$$

$$4 \times 3$$

$$3 \times 4$$



Молодцы!



Источник шаблона:

<https://templates.office.com/ru-ru/%D1%88%D0%B0%D0%B1%D0%BB%D0%BE%D0%BD-%D1%82%D0%B5%D1%81%D1%82%D0%B0-%D0%BD%D0%B0-%D1%82%D0%B5%D0%BC%D1%83-%D0%BF%D1%80%D0%B8%D1%80%D0%BE%D0%B4%D0%B0-%D0%B8-%D0%BC%D0%B8%D1%80-%D0%B2%D0%BE%D0%BA%D1%80%D1%83%D0%B3-%D0%BD%D0%B0%D1%81-%D1%81-%D0%BF%D1%82%D0%B8%D1%87%D0%BA%D0%B0%D0%BC%D0%B8-tm96391486>

