

ТЕСТ «ЦВЕТOK»



**Мужской частью цветка
являются:**

А.

тычинки

Б.

пестики

В.

лепестки

Г.

чашелистики

ПОДУМА

Й!



ДА



**Верхняя часть пестика
называется:**

А.

столбик

Б.

завязь

В.


дыльник

Г.


рыльце

ПОДУМА

Й!



ДА



**Совокупность чашелистиков и
лепестков цветка - это:**

А.

венчик

Б.

цветок

В.

околоцветник

Г.

чашечка

ПОДУМА

Й!



ДА



Тычинка состоит из:

А.

столбика

Б. пыльника и

рыльца

В. столбика и тычиночной

нити


Г. пыльника и тычиночной

нити

ПОДУМА
Й!



ДА



**Обоеполые цветки
имеют:**

**А. только
тычинки**

**Б. только
пестики**

**В. пестики и тычинки
одновременно**

ПОДУМА

Й!



ДА



**МОЛОДЦ
Ы!**



Ресурсы интернета:

- <http://ramki-photoshop.ru/cvety/cvetok202.png>
- <http://clipart-library.com/images/8Txrxk8gc.jpg>
- <http://i33.ltalk.ru/92/5/350592/83/10206883/8dfbb731a0f1845324ad39d6ba0d17b9.gif>
- http://gtaforums.com/uploads/profile/photo-1049145.gif?_r=1496464344
- http://gifok.net/images/2015/10/22/Flowers-Pink_106.png